

1

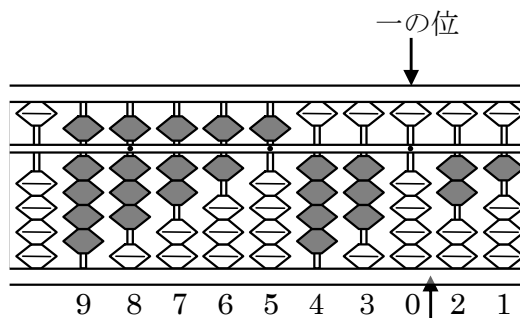
ABCDE 次の hakken. の法則を^と読んで問題を解きなさい。

そろばん

hakken. の法則 


★学習内容 そろばん

…右の図のようにそろばんのたまに
よって、数字を表します。
右のそろばんが表す数字は
98765430.21 となります。



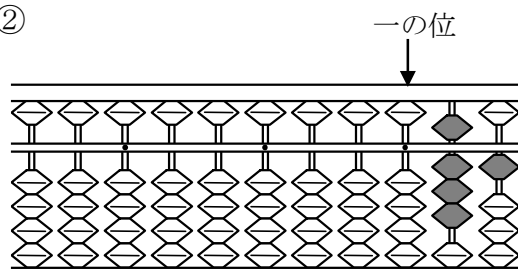
例題 次の数を答えましょう。

①



答 952074136


②



答 0.81

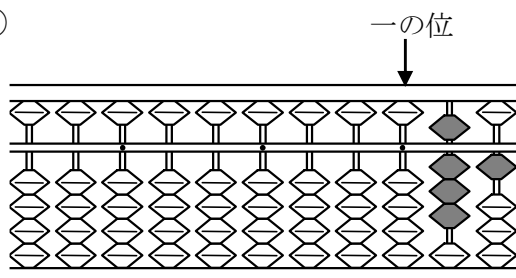
確認問題 次の数を答えましょう。

①



952074136

②

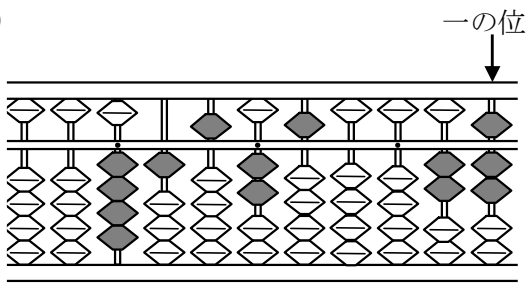


0.81

2 次の数を答えましょう。

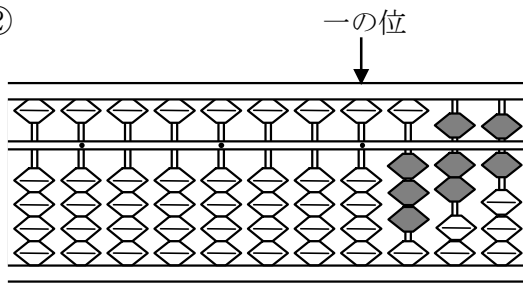
ABCDE

①



415250027

②

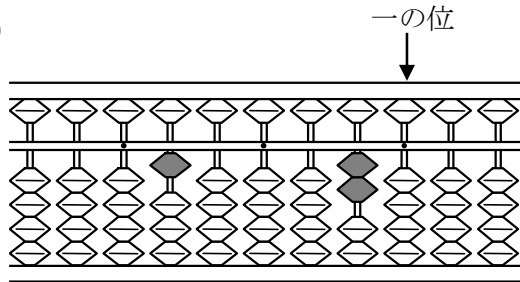


0.376

3 次の数を答えましょう。

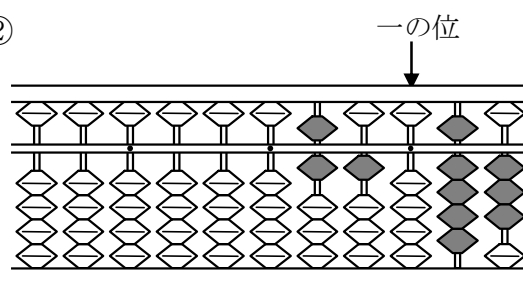
BCDE

①



100020

②



610.93