

3 次の表は A グループと B グループの 15 人の身長を記したものです。

ABCDE

A グループ

番号	身長(cm)
1	153
2	148
3	152
4	138

番号	身長(cm)
5	146
6	150
7	144
8	139

B グループ

番号	身長(cm)
9	146
10	140
11	155
12	161

番号	身長(cm)
13	146
14	143
15	138

- ① A,B それぞれのグループの身長の平均値は何 cm ですか。

A _____ B _____

- ② 記録を下のドットプロットに整理しましょう。



- ③ 最頻値を答えましょう。

- ④ 中央値を答えましょう。

5 右の表は山田さんの畑でとれたりんごの
重さを記したものです。

ABCDE

次の問いに答えましょう。

① りんごの数を右下の表に整理しましょう。

番号	重さ(g)
1	205
2	224
3	150
4	297

番号	重さ(g)
5	148
6	267
7	283

② 250g 未満のりんごは何個ありますか。

重さ(g)	個数(個)
以上 100 ~ 未満 150	
150 ~200	
200 ~250	
250 ~300	
合計	

③ 250g 以上 300g 未満のりんごは何個ありますか。

6 次の表は1年の1組の生徒の体重を記録したものです。

CDE

番号	記録(kg)
1	20
2	18
3	22
4	28
5	26

番号	記録(kg)
6	35
7	25
8	27
9	19
10	30

番号	記録(kg)
11	30
12	18
13	21
14	27
15	23

① 体重の平均を求めましょう。

② 体重のデータのちらばり方を右の表にまとめましょう。

③ 20kg 以上 25kg 未満の区間には何人いますか。

④ 人数がいちばん多い区間はどこですか。

⑤ 体重が軽い方から数えて8番目の記録はどこの区間にありますか。

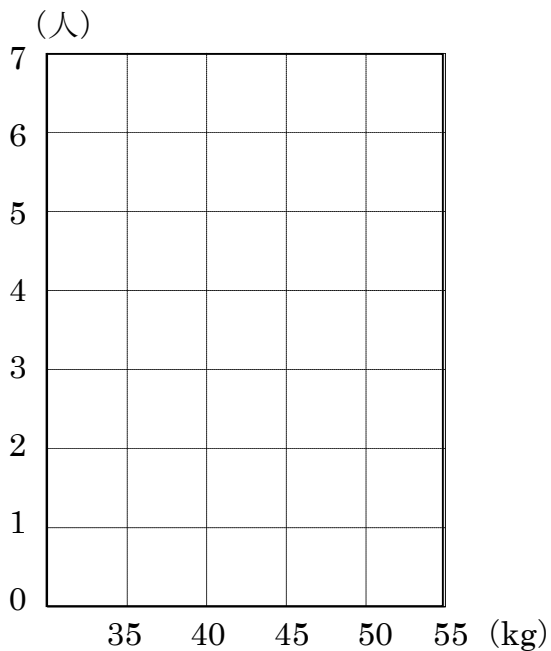
体重(kg)	人数(人)
15以上~20未満	
20 ~25	
25 ~30	
30 ~35	
35 ~40	
合計	

9 次の表に 6 年生の男子 20 人の
 ABCDE 体重を 5kg ごとに区切ってまとめました。

① 右の表を使って、柱状グラフに
 表しましょう。

体重(kg)	人数(人)
35 以上~40 未満	3
40 ~45	7
45 ~50	6
50 ~55	4
合計	20

② いちばん人数が多いのは、何 kg
 以上何 kg 未満の範囲ですか。



- 12 下の表は肥料入りで育てた木 A のキウイフルーツと肥料なしで育てた木 B の
ABCDE キウイフルーツの重さを記録したものです。(1)(2)の問いに答えなさい。

木 A のキウイフルーツの重さ(g)

番号	重さ(g)
1	106
2	116
3	94
4	109

木 B のキウイフルーツの重さ(g)

番号	重さ(g)
5	121
6	104
7	98
8	104

番号	重さ(g)
1	84
2	95
3	108
4	112

番号	重さ(g)
5	100
6	109
7	99

- ① 重いキウイフルーツがよくできている方がどちらですか。

- ② 重さを 80g 以上から 10g ずつ区切ったときの数のいちばん多い範囲では、キウイフルーツが多くできているのはどちらですか。
右の表を完成させ、答えましょう。

重さ(g)	A	B
80 以上~90 未満		
90 ~100		
100 ~110		
110 ~120		
120 ~130		
合計		

13 下の表はみかんの重さを記録したものです。

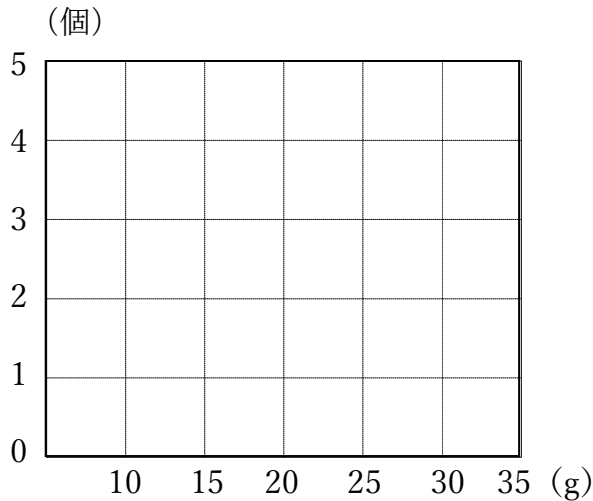
CDE

番号	重さ(g)	番号	重さ(g)	番号	重さ(g)	番号	重さ(g)	番号	重さ(g)
1	13	4	22	7	16	10	26	13	20
2	32	5	25	8	19	11	30	14	17
3	18	6	27	9	24	12	15	15	29

① 記録の平均値は何 g ですか。

② 記録のちらばりの様子がわかるように、記録を右の表にまとめましょう。

③ ②の表を柱状グラフに表しましょう。



重さ(g)	個数(個)
10 以上~15 未満	
15 ~20	
20 ~25	
25 ~30	
30 ~35	
合計	

④ 個数がいちばん多い階級はどこですか。またそこには何個ありますか。

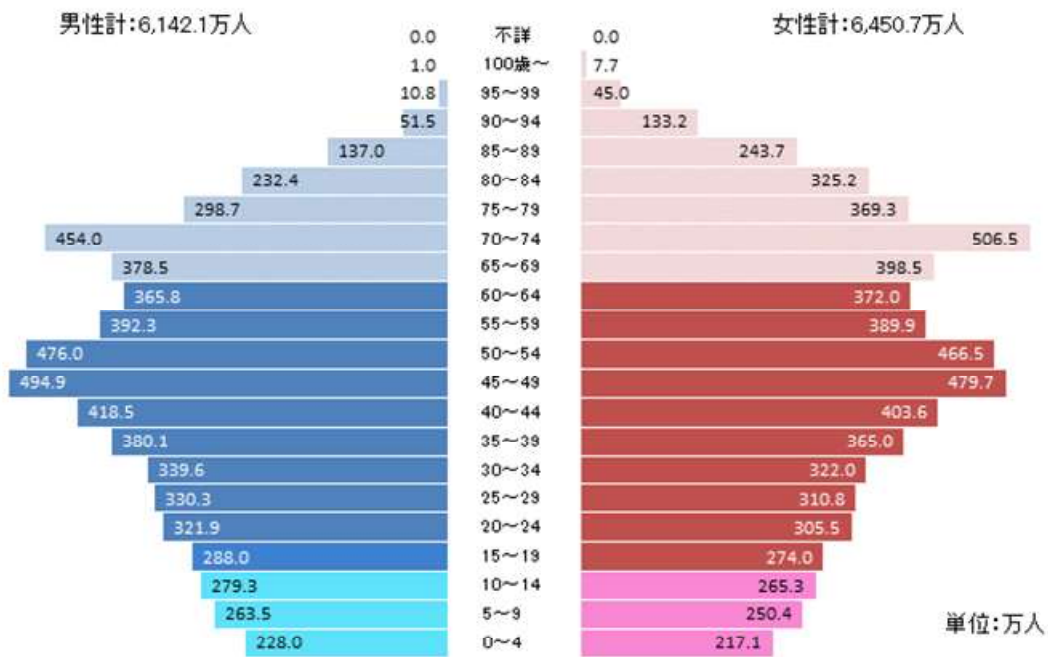
⑤ 20~25g の階級に当てはまる個数は全体の何%ですか。

⑥ みかんの重さの階級はどこからどこまでありますか。

16 次のグラフは、日本の人口を男女別、年れい別に表したものです。

ABCDE

男女別年れい別人口



① 男性の人口がいちばん多いはんいを答えましょう。

② 女性の人口がいちばん多いはんいを答えましょう。

③ 男女でくらべたとき、70歳以上の年齢にはどのような傾向がありますか。
