

4-14 変わり方

2 12 まいのカードを、お兄さんとケンさんの2人で分けました。

ABCDE 次の問いに答えましょう。

① お兄さんとケンさんがもらうカードの数を、表にまとめましょう。

お兄さんの数(まい)	1	2	3	4	5	6	7	
ケンさんの数(まい)								

② お兄さんがもらう数を□まい、ケンさんがもらう数を○まいとして、□と○の関係を式に表しましょう。

4 1 こが 70 円のりんごを何こか買います。次の問いに答えましょう。

ABCDE ① りんごのこ数とそのときの代金を、表にまとめましょう。

りんごの数(こ)	1	2	3	4	5	
代金(円)						

② りんごの数を□こ、代金を○円として、□と○の関係を式に表しましょう。

5 まわりの長さが 30cm の長方形があります。次の問いに答えましょう。

BCDE ① たての長さ(cm)と横の長さ(cm)を、表にまとめましょう。

たての長さ(cm)	1	2	3	4	5	
横の長さ(cm)						

② たての長さを□cm 横の長さを○cm として、□と○の関係を式に表しましょう。

③ たての長さが 12cm のとき、横の長さはなん cm になりますか。

6 たてが 3cm 横が 2cm の長方形をならべていきます。次の問いに答えましょう。

BCDE

- ① 長方形の数と面積を、
右の表にまとめましょう。

長方形の数(まい)	1	2	3	4	5	
面積(cm ²)						

- ② 長方形の数を□まい，面積を○cm²として，□と○の関係を式に表しましょう。

7 **まとめ** 今年，さとしさんは 11 才，お母さんは 36 才になります。

CDE

次の問いに答えましょう。

- ① さとしさんが 20 才になるとき，お母さんは何才になりますか。

(式)

- ② お母さんが 60 才になるとき，さとしさんは何才になりますか。

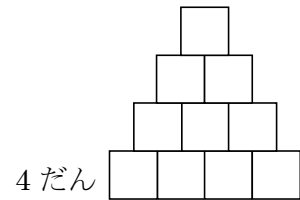
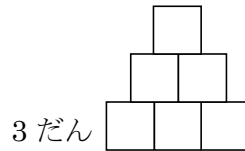
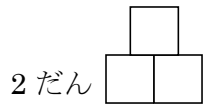
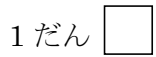
(式)

8 **まとめ** 1 分間に 10L の水が流れる水道があります。この水道から，からの水そう

CDE

に水を入れるとき，水を入れた時間を□分，たまった水のかさを○Lとして，□と○の関係を式に表しましょう。

9 **まとめ** 1 辺が 1cm の正方形を下の図のように、1 だん、2 だん、…とならべて
DE いきます。次の問いに答えましょう。



① だんの数を□だん、まわりの長さを○cm として、□と○の関係を式に表しましょう。

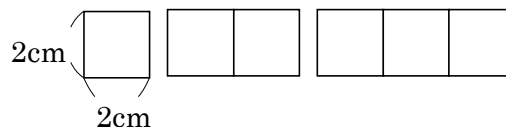
② だんの数が 12 だんのとき、まわりの長さは何 cm ですか。

③ まわりの長さが 140cm のとき、だんの数は何だんですか。

10 **まとめ** 1 辺が 2cm の正方形のおり紙を、

E 右の図のように 1 列にならべていきます。

次の問いに答えましょう。



① 正方形の数とまわりの長さを、表にまとめましょう。

正方形の数(まい)	1	2	3	4	5	
まわりの長さ(cm)						

② 正方形が 1 まいふえると、まわりの長さは何 cm ふえるか、答えましょう。

③ 正方形の数を□こ、まわりの長さを○cm として、□と○の関係を式に表しましょう。

④ 正方形のまわりの長さが 52cm のとき、正方形の数は何こですか。
