

14 平行線と合同②(中2)まとめ

1 次の hakken.の法則を読んで内容を覚えなさい。

ABCDE

合同な図形の性質 啓 P.108~109

hakken.の法則 

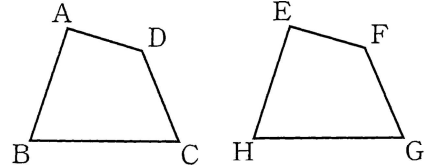
★合同…平面上の2つの図形で、一方が他方にぴったり重なるとき、2つの図形は合同であるという。

◎ 一方を裏返して他方にぴったり重なるときも、2つの図形は合同であるという。

★合同な図形の性質

① 合同な図形では、対応する線分の長さはそれぞれ等しい。

② 合同な図形では、対応する角の大きさはそれぞれ等しい。



★合同な図形の表し方…2つの図形が合同であることを表すのに、記号 \cong を使う。

例 (1) 右上の2つの四角形は合同である。このとき、次の辺や角に対応する辺や角を書きなさい。

$AB = ()$, $BC = ()$, $CD = ()$, $DA = ()$

$\angle A = ()$, $\angle B = ()$, $\angle C = ()$, $\angle D = ()$

[解き方] 対応する辺の長さ、対応する角の大きさは等しいから

[答] $AB = EH$, $BC = HG$, $CD = GF$, $DA = FE$

$\angle A = \angle E$, $\angle B = \angle H$, $\angle C = \angle G$, $\angle D = \angle F$

(2) 右上の2つの四角形が合同であるとき、()に記号を書きなさい。

四角形 ABCD () 四角形 EFGH

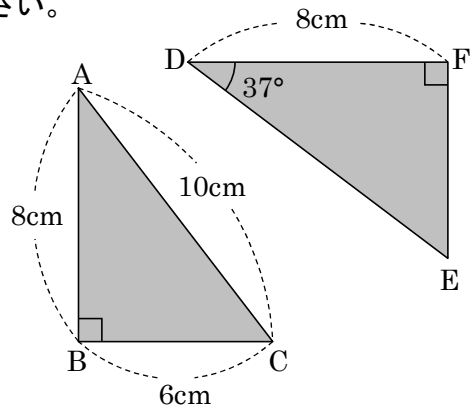
[解き方] 合同を表す記号を書けばよい。 [答] 四角形 ABCD \cong 四角形 EFGH

2 右の図の2つの三角形は合同である。次の問いに答えなさい。

ABCDE ① 合同な三角形の組を記号 \cong を使って答えなさい。

② 辺 DE の長さを求めよ。

③ $\angle BCA$ の大きさを求めよ。



3 次の hakken. の法則を読んで内容を覚えなさい。

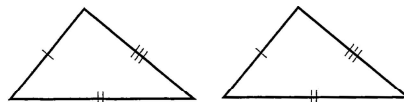
ABCDE

三角形の合同条件

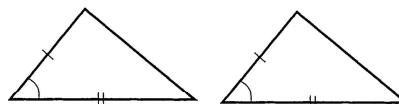
hakken. の法則 

★三角形の合同条件…2つの三角形は、次のどれかが成り立つとき合同である。

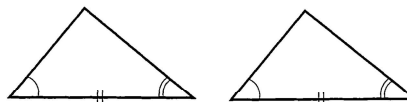
- ① 3組の辺がそれぞれ等しい
(3辺相等)



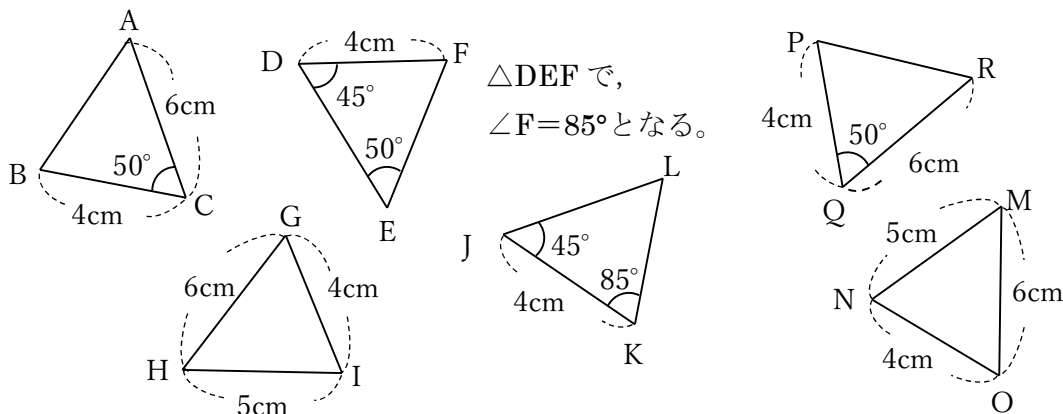
- ② 2組の辺とその間の角がそれぞれ等しい



- ③ 1組の辺とその両端の角がそれぞれ等しい



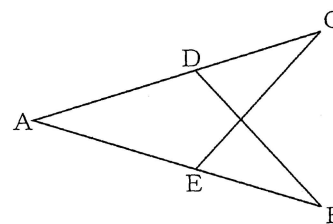
例 下の図で、合同な三角形はどれとどれか。3組みつけて、記号≡を使って表しなさい。また、そのときに使った合同条件を答えなさい。



- [答] $\triangle ABC \equiv \triangle RPQ$ 合同条件 2組の辺とその間の角がそれぞれ等しい
 $\triangle DEF \equiv \triangle JLK$ 合同条件 1組の辺とその両端の角がそれぞれ等しい
 $\triangle GHI \equiv \triangle OMN$ 合同条件 3組の辺がそれぞれ等しい

4 右の図で、 $AB=AC$ 、 $AD=AE$ のとき次の各問いに答えなさい。

- ① 合同な三角形の組を記号≡を使って答えなさい。



- ② ①のときに使った合同条件を書きなさい。

5 次の hakken. の法則を読んで内容を覚えなさい。

ABCDE

証明とそのしくみ

hakken. の法則 

★**仮定・結論**…「●●●ならば (のとき) , ■■■である」の形で表されることがらの、
●●●の部分**を仮定**, ■■■の部分**を結論**という。

★**証明**…すでに正しいと認められていることがらを根拠として, 仮定から結論を導くことを**証明**という。

例 右の図で, $AO=DO$, $BO=CO$ ならば,
 $\angle ABO=\angle DCO$ となることを証明しなさい。

[証明] $\triangle AOB$ と $\triangle DOC$ において

仮定より $AO=DO$ …①

$BO=CO$ …②

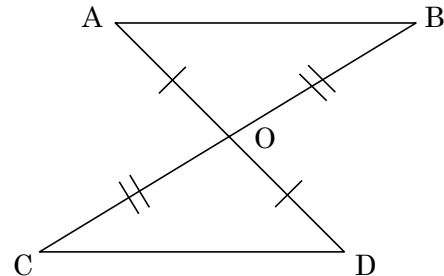
対頂角は等しいから,

$\angle AOB=\angle DOC$ …③

①②③から, 2組の辺とその間の角がそれぞれ等しいので, $\triangle AOB \cong \triangle DOC$

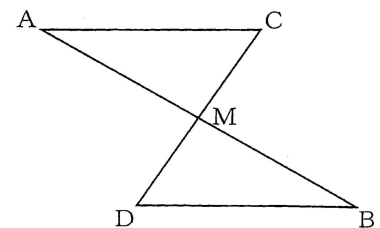
合同な図形では, 対応する角は等しいので,

$\angle ABO=\angle DCO$



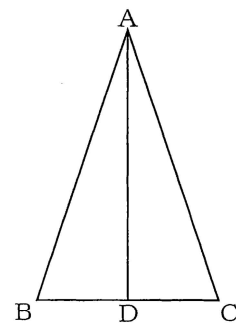
6 右の図で, $AC \parallel DB$, $AM=BM$ ならば $AC=BD$ であることを証明しなさい。

ABCDE

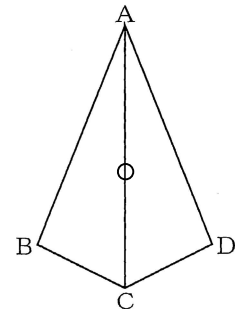


7 右の図で, $AB=AC$, 点 D が BC の中点ならば, $\angle BAD=\angle CAD$ であることを証明しなさい。

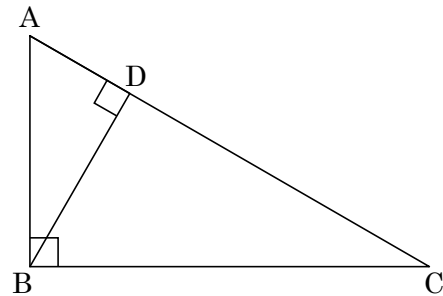
BCDE



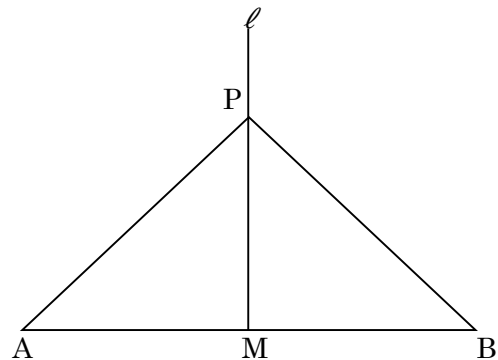
- 8 右の図で、AC が $\angle BAD$, $\angle BCD$ それぞれの二等分線ならば、 $BC=DC$ であることを証明しなさい。



- 9 次の図で、 $\triangle ABC$ と $\triangle BDA$ は直角三角形です。 $\angle C = \angle ABD$ であることを証明しなさい。

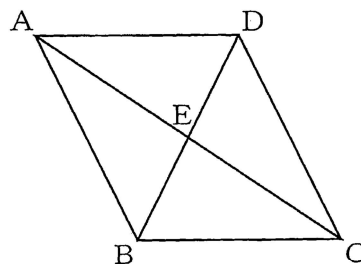


- 10 次の図で、線分 AB の垂直二等分線 l 上の点 P は、2 点 A, B から等しい距離にあることを証明しなさい。



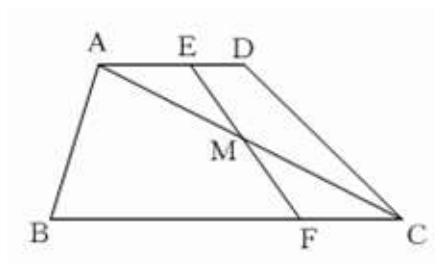
- 11 右の図で、 $AD \parallel BC$, $AD=CB$ ならば、 $AE=CE$ であることを証明しなさい。

BCDE



- 12 右の図は、 $AD \parallel CB$ の台形 ABCD である。辺 AD, CB 上に $AE=CF$ となる点 E, F をとり、対角線 AC と EF の交点 M とするとき、 $\triangle AME \cong \triangle CMF$ となることを証明しなさい。

BCDE



- 13 右の図のように正方形 ABCD の辺 BC, CD 上に、 $CE=DF$ となる点 E, F をそれぞれとる。また、直線 AF と BC の延長との交点を G とする。このとき、 $\angle CDE = \angle CGF$ となることを証明しなさい。

CDE

