

1 次の hakken. の法則を読んで解き方を覚えなさい。

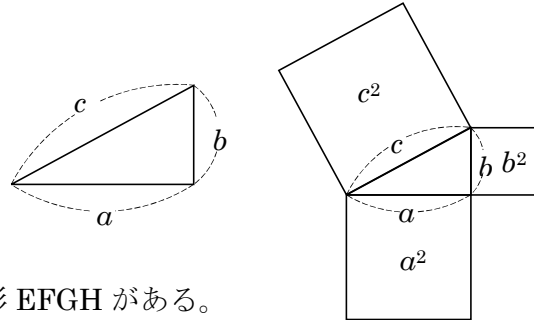
CDE

三平方の定理 (1) 啓 P.182~184

hakken. の法則 

★^{さんへいほう}三平方の定理…直角三角形の直角をはさむ2辺の長さを a , b , 斜辺の長さを c とすると、次の関係が成り立つ。

$$a^2 + b^2 = c^2$$



例 右の図のように正方形 ABCD の中に正方形 EFGH がある。

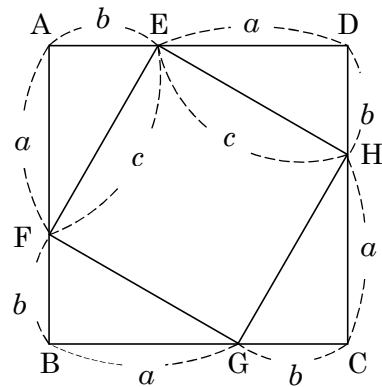
$a^2 + b^2 = c^2$ が成り立つことを証明しなさい。

[証明]

正方形 EFGH の面積 = 正方形 ABCD の面積
- 4 つの合同な直角三角形の面積

$$\begin{aligned} \text{したがって, } c^2 &= (a+b)^2 - 4 \times \frac{1}{2} ab \\ &= (a^2 + 2ab + b^2) - 2ab \\ &= a^2 + b^2 \end{aligned}$$

よって, $a^2 + b^2 = c^2$



2

CDE

右の図のように正方形 ABCD の中に正方形 EFGH がある。

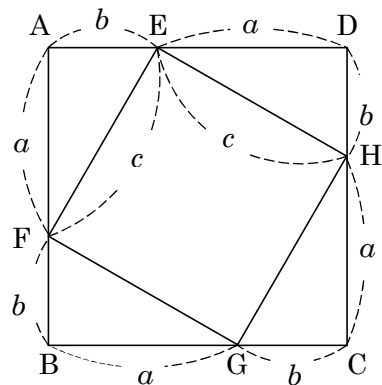
$a^2 + b^2 = c^2$ が成り立つことを証明しなさい。

正方形 EFGH の面積 = 正方形 ABCD の面積
- 4 つの合同な直角三角形の面積

$$\begin{aligned} \text{したがって, } c^2 &= (a+b)^2 - 4 \times \frac{1}{2} ab \\ &= (a^2 + 2ab + b^2) - 2ab \\ &= a^2 + b^2 \end{aligned}$$

よって, $a^2 + b^2 = c^2$

三平方の定理 啓 P.182~184



3 三平方の定理 啓 P.182~184

CDE 三平方の定理について、次のように証明した。_____にあてはまるものを答えなさい。

[証明] $\angle C=90^\circ$ の直角三角形 ABC において

点 C から辺 AB に垂線 CD をひく。

$\triangle ABC \sim \triangle CBD$ より $AB : CB = BC : BD$

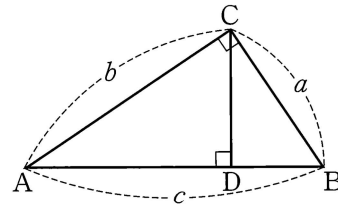
$BC^2 = AB \times BD$ つまり $a^2 = c \times BD \dots ①$

$\triangle ABC \sim \triangle ACD$ より $AB : AC = AC : AD$

$AC^2 = AB \times AD$ つまり $b^2 = c \times AD \dots ②$

①+②より

$a^2 + b^2 = c \times BD + c \times AD = c \times (BD + AD) = c^2$



4 次の hakken.の法則を読んで解き方を覚えなさい。

ABCDE

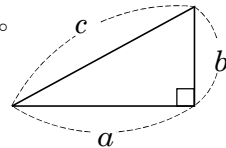
三平方の定理 (2) 啓 P.182~184

hakken.の法則

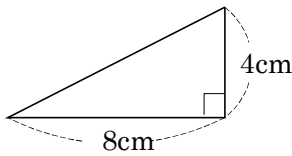
★直角三角形の辺の長さ…直角三角形において、次の関係が成り立つ。

$a^2 + b^2 = c^2$

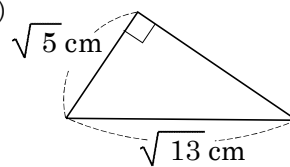
例 次の図の直角三角形で、残りの辺の長さを求めなさい。



(1)



(2)



[解き方] 残りの辺の長さを x cm として、三平方の定理を使う。

斜辺は x cm だから、

$8^2 + 4^2 = x^2$

$64 + 16 = x^2$

$x^2 = 80$

$x = \pm\sqrt{80}$

$x = \pm 4\sqrt{5}$

$x > 0$ だから、 $x = 4\sqrt{5}$

[答] $4\sqrt{5}$ cm

斜辺は $\sqrt{13}$ cm だから、

$(\sqrt{5})^2 + x^2 = (\sqrt{13})^2$

$5 + x^2 = 13$

$x^2 = 8$

$x = \pm\sqrt{8}$

$x = \pm 2\sqrt{2}$

$x > 0$ だから、 $x = 2\sqrt{2}$

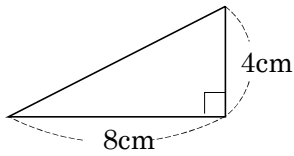
[答] $2\sqrt{2}$ cm

5

三平方の定理 啓 P.182~184

ABCDE 次の図の直角三角形で、残りの辺の長さを求めなさい。

①

残りの辺の長さを x cm として、三平方の定理を使う。斜辺は x cm だから、

$$8^2 + 4^2 = x^2$$

$$64 + 16 = x^2$$

$$x^2 = 80$$

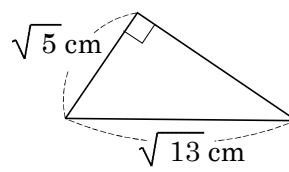
$$x = \pm\sqrt{80}$$

$$x = \pm 4\sqrt{5}$$

 $x > 0$ だから、 $x = 4\sqrt{5}$

$$\underline{4\sqrt{5} \text{ cm}}$$

②

斜辺は $\sqrt{13}$ cm だから、

$$(\sqrt{5})^2 + x^2 = (\sqrt{13})^2$$

$$5 + x^2 = 13$$

$$x^2 = 8$$

$$x = \pm\sqrt{8}$$

$$x = \pm 2\sqrt{2}$$

 $x > 0$ だから、 $x = 2\sqrt{2}$

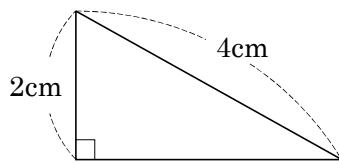
$$\underline{2\sqrt{2} \text{ cm}}$$

6

三平方の定理 啓 P.182~184

ABCDE 次の図の直角三角形で、残りの辺の長さを求めなさい。

①



$$2^2 + x^2 = 4^2$$

$$4 + x^2 = 16$$

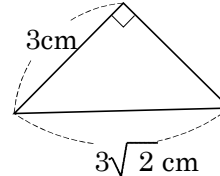
$$x^2 = 12$$

$$x = \pm\sqrt{12}$$

$$x = \pm 2\sqrt{3} \quad x > 0 \text{ だから、} x = 2\sqrt{3}$$

$$\underline{2\sqrt{3} \text{ cm}}$$

②



$$3^2 + x^2 = (3\sqrt{2})^2$$

$$9 + x^2 = 18$$

$$x^2 = 9$$

$$x = \pm 3 \quad x > 0 \text{ だから、} x = 3$$

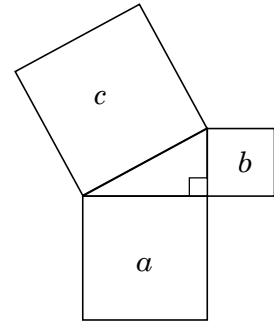
$$\underline{3 \text{ cm}}$$

7

三平方の定理 啓 P.182~184

CDE 右の図は直角三角形の各辺を1辺とする正方形をかいたものです。

a の面積が 46cm^2 , c の面積が 72cm^2 のとき, b の面積を求めなさい。



a の正方形の1辺を A , b の正方形の1辺を B ,
 c の正方形の1辺を C とすると, 三平方の定理より,

$$A^2 + B^2 = C^2 \quad \dots \textcircled{1}$$

$$\begin{aligned} b \text{ の面積} &= B^2 \quad \dots \textcircled{2} & \textcircled{1}, \textcircled{2} \text{ より, } B^2 &= C^2 - A^2 \\ & & &= 72 - 46 \\ & & &= 26 \end{aligned}$$

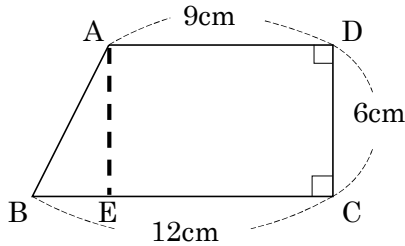
26cm²

8

三平方の定理 啓 P.182~184

DE 次の図の台形と五角形で, 残りの辺の長さを求めなさい。

①



A から辺 BC に垂直に線分 AE をひく
 直角三角形 ABE で,

$$BE = 12 - 9 = 3, \quad AE = 6$$

$$3^2 + 6^2 = AB^2$$

$$9 + 36 = AB^2$$

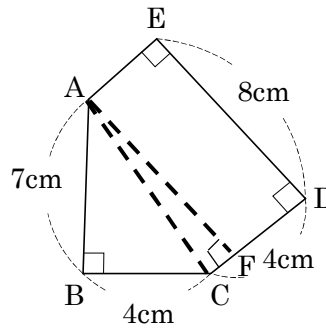
$$AB^2 = 45$$

$$AB = \pm\sqrt{45} = \pm 3\sqrt{5}$$

$$AB > 0 \text{ だから, } AB = 3\sqrt{5}$$

3√5 cm

②



A から辺 CD に垂直に線分 AF をひき
 線分 AC をひく

直角三角形 ABC で,

$$7^2 + 4^2 = AC^2$$

$$49 + 16 = AC^2$$

$$AC^2 = 65$$

$$AC = \pm\sqrt{65}$$

$$AC > 0 \text{ だから, } AC = \sqrt{65}$$

直角三角形 ACF で, $AF = 8$

$$8^2 + CF^2 = (\sqrt{65})^2$$

$$64 + CF^2 = 65$$

$$CF^2 = 65 - 64$$

$$CF^2 = 1$$

$$CF = \pm 1 \quad CF > 0 \text{ だから, } CF = 1$$

$$AE = 4 - 1 = 3$$

3cm

9

三平方の定理 啓 P.182~184

ABCDE 直角三角形の直角をはさむ2辺の長さをそれぞれ a, b とし、斜辺の長さを c とする。このとき、次の表の空らんをうめなさい。

a	5	$2\sqrt{10}$	8
b	12	3	15
c	13	7	17

$a^2 + b^2 = c^2$ ($a > 0, b > 0, c > 0$)より

$5^2 + 12^2 = 25 + 144 = 169$ $c^2 = 169$

$c = \pm 13$ $c > 0$ より, $c = 13$

$a^2 + 3^2 = 7^2$ $a^2 = 7^2 - 3^2$

$= 49 - 9$

$= 40$

$a = \pm\sqrt{40} = \pm 2\sqrt{10}$ $a > 0$ より, $a = 2\sqrt{10}$

$8^2 + b^2 = 17^2$ $b^2 = 17^2 - 8^2$

$= 289 - 64$

$= 225$

$b = \pm 15$ $b > 0$ より, $b = 15$

10 次の hakken.の法則を読んで内容を覚えなさい。

ABCDE

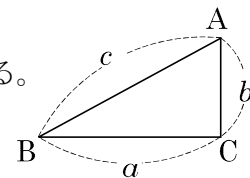
三平方の定理の逆 啓 P.185~187

hakken.の法則 

★三平方の定理の逆

$\triangle ABC$ で $BC = a, CA = b, AB = c$ とするとき、次のことがいえる。

$a^2 + b^2 = c^2$ ならば、その三角形は、長さ c の辺を斜辺とする直角三角形である。



例 次の長さを3辺とする三角形のうち、直角三角形となるものを選びなさい。

㉞ 5cm, 6cm, 8cm

㉠ 20cm, 21cm, 29cm

㉟ $\sqrt{15}$ cm, $2\sqrt{6}$ cm, 3cm

㉡ 0.8m, 1.5m, 1.6m

[解き方] $a^2 + b^2 = c^2$ を使って解く、

㉞ $5^2 + 6^2 = 61, 8^2 = 64$

㉠ $20^2 + 21^2 = 841, 29^2 = 841$ だから, $20^2 + 21^2 = 29^2$ が成り立つ。

㉟ $(\sqrt{15})^2 + 3^2 = 24, (2\sqrt{6})^2 = 24$ だから, $(\sqrt{15})^2 + 3^2 = (2\sqrt{6})^2$ が成り立つ。

㉡ 各辺の長さを10倍して得られる相似な三角形で調べてもよい。

$8^2 + 15^2 = 289, 16^2 = 256$

[答] ㉠, ㉟

11

三平方の定理の逆 啓 P.185~187

ABCDE 次の長さを 3 辺とする三角形のうち、直角三角形となるものを選びなさい。

- ㉞ 5cm, 6cm, 8cm ㉠ 20cm, 21cm, 29cm
 ㉟ $\sqrt{15}$ cm, $2\sqrt{6}$ cm, 3cm ㉡ 0.8m, 1.5m, 1.6m

- ㉞ $5^2+6^2=61$, $8^2=64$
 ㉠ $20^2+21^2=841$, $29^2=841$ だから,
 $20^2+21^2=29^2$ が成り立つ。
 ㉟ $(\sqrt{15})^2+3^2=24$, $(2\sqrt{6})^2=24$ だから,
 $(\sqrt{15})^2+3^2=(2\sqrt{6})^2$ が成り立つ。
 ㉡ 各辺の長さを 10 倍して得られる相似な三角形で調べてもよい。
 $8^2+15^2=289$, $16^2=256$

㉠, ㉟

12

三平方の定理の逆 啓 P.185~187

CDE 2 辺の長さが 3cm, 9cm の長方形の対角線を求めなさい。

直角三角形の斜辺を x cm とすると、三平方の定理より

$$3^2+9^2=x^2$$

$$9+81=x^2$$

$$x^2=90$$

$$x=\pm\sqrt{90}=\pm 3\sqrt{10} \quad x>0 \text{ だから, } x=3\sqrt{10} \text{ (cm)}$$

$3\sqrt{10}$ cm

13

三平方の定理の逆 啓 P.185~187

CDE 2 辺の長さが 6cm, 8cm の三角形がある。この三角形が直角三角形であるには、残りの 1 辺の長さは、何 cm であればよいか求めなさい。

直角三角形の斜辺を x cm とすると、三平方の定理より

$$6^2+8^2=x^2$$

$$x^2=100$$

$$x=\pm 10 \quad x>0 \text{ だから, } x=10 \text{ (cm)}$$

直角三角形の斜辺を 8cm とすると、三平方の定理より

$$6^2+x^2=8^2$$

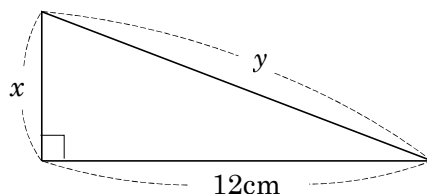
$$x^2=28$$

$$x=\pm\sqrt{28}=\pm 2\sqrt{7} \quad x>0 \text{ だから, } x=2\sqrt{7} \text{ (cm)}$$

10cm [$2\sqrt{7}$ cm]

14 三平方の定理の逆 啓 P.185~187

DE 周の長さが 30cm の右のような三角形がある。
1 辺の長さが 12cm のとき, x, y の長さを求めなさい。



仮定より, $12+x+y=30$

$$x+y=18 \quad \dots \textcircled{1}$$

直角三角形の三平方の定理より

$$x^2+12^2=y^2$$

$$x^2+144=y^2$$

$$y^2-x^2=144 \quad \dots \textcircled{2}$$

$$\begin{cases} x+y=18 \quad \dots \textcircled{1} \\ y^2-x^2=144 \quad \dots \textcircled{2} \end{cases}$$

①より, $y=18-x \quad \dots \textcircled{1}'$

②より, $(y+x)(y-x)=144 \quad \dots \textcircled{2}'$

①'を②'に代入, $(18-x+x)(18-x-x)=144$

$$18(18-2x)=144$$

$$36(9-x)=144$$

両辺÷36

$$9-x=4$$

$$x=5 \quad \text{これを①に代入}$$

$$5+y=18$$

$$y=13$$

x 5cm y 13cm

15 次の hakken.の法則を読んで内容を覚えなさい。

CDE

三平方の定理の利用 啓 P.189~190

hakken.の法則

例 右のような半径 6cm の円がある。 x を求めなさい。

[解き方] OC は半径だから, $OB=OC=6\text{cm}$

$$OA=6+4=10 \quad \text{三平方の定理より,}$$

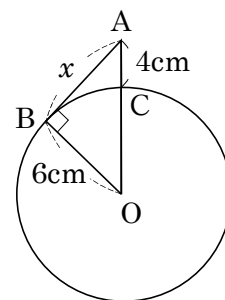
$$x^2=10^2-6^2$$

$$=100-36$$

$$=64$$

$$x=\pm 8 \quad x>0 \text{ より, } x=8$$

[答] 8cm

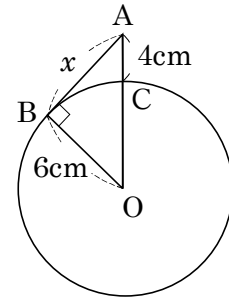


16

三平方の定理の利用 啓 P.189~190

CDE 右のような半径 6cm の円がある。x を求めなさい。

$$\begin{aligned}
 & \text{OC は半径だから, } \text{OB}=\text{OC}=6\text{cm} \\
 & \text{OA}=6+4=10 \quad \text{三平方の定理より,} \\
 & x^2=10^2-6^2 \\
 & =100-36 \\
 & =64 \\
 & x=\pm 8 \quad x>0 \text{ より, } x=8
 \end{aligned}$$

8cm

17 次の hakken.の法則を読んで内容を覚えなさい。

ABCDE

平面における線分の長さや面積 啓 P.191

hakken.の法則

例 右の図の二等辺三角形 ABC の面積を求めなさい。

[解き方] 頂点 A から底辺 BC に垂線 AH をひくと、
H は BC の中点となる。

AH = h cm とすると、BH = 2cm だから、

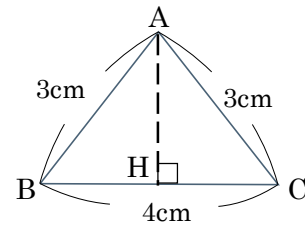
直角三角形 ABH で、 $2^2 + h^2 = 3^2$

$$h^2 = 5$$

$$h = \pm\sqrt{5} \quad h > 0 \text{ だから, } h = \sqrt{5}$$

$$\text{したがって, } \triangle ABC = \frac{1}{2} \times 4 \times \sqrt{5} = 2\sqrt{5}$$

$$\text{[答]} \quad \underline{2\sqrt{5} \text{ cm}^2}$$



18

平面における線分の長さや面積 啓 P.191

ABCDE

右の図の二等辺三角形 ABC の面積を求めなさい。

頂点 A から底辺 BC に垂線 AH をひくと、
H は BC の中点となる。

AH = h cm とすると、BH = 2cm だから、

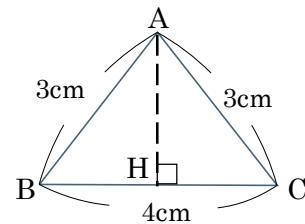
直角三角形 ABH で、 $2^2 + h^2 = 3^2$

$$h^2 = 5$$

$$h = \pm\sqrt{5} \quad h > 0 \text{ だから, } h = \sqrt{5}$$

$$\text{したがって, } \triangle ABC = \frac{1}{2} \times 4 \times \sqrt{5} = 2\sqrt{5}$$

$$\underline{2\sqrt{5} \text{ cm}^2}$$



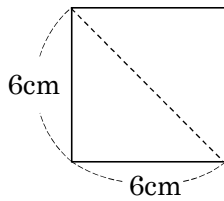
19

平面における線分の長さや面積 啓 P.191

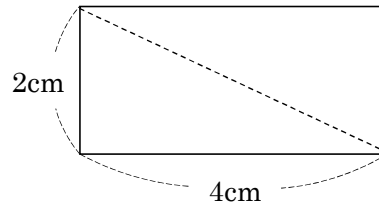
A

下の正方形と長方形の対角線の長さを求めなさい。

①



②

対角線の長さを x cm とする。 $x > 0$

$$\begin{aligned} x^2 &= 6^2 + 6^2 \\ &= 36 + 36 \\ &= 72 \end{aligned}$$

$$x = \pm\sqrt{72} = \pm 6\sqrt{2} \quad x > 0 \text{ だから}$$

$$x = 6\sqrt{2}$$

$$\underline{\underline{6\sqrt{2} \text{ cm}}}$$

$$\begin{aligned} x^2 &= 4^2 + 2^2 \\ &= 16 + 4 \\ &= 20 \end{aligned}$$

$$x = \pm\sqrt{20} = \pm 2\sqrt{5} \quad x > 0 \text{ だから}$$

$$x = 2\sqrt{5}$$

$$\underline{\underline{2\sqrt{5} \text{ cm}}}$$

20

平面における線分の長さや面積 啓 P.191

ABCDE

1 辺が 10cm の正三角形の高さと面積を求めなさい。

$$\text{高さは, } 10^2 - 5^2 = 75,$$

$$\sqrt{75} = 5\sqrt{3}$$

$$\text{面積は, } 10 \times 5\sqrt{3} \div 2 = 25\sqrt{3}$$

$$\text{高さ } \underline{\underline{5\sqrt{3} \text{ cm}}} \quad \text{面積 } \underline{\underline{25\sqrt{3} \text{ cm}^2}}$$

21

平面における線分の長さや面積 啓 P.191

ABCDE

底辺が 4cm で、2 辺が 6cm の二等辺三角形の高さと面積を求めなさい。

$$\text{高さは, } 6^2 - 2^2 = 32 \text{ より,}$$

$$\sqrt{32} = 4\sqrt{2}$$

$$\text{面積は, } 4 \times 4\sqrt{2} \div 2 = 8\sqrt{2}$$

$$\text{高さ } \underline{\underline{4\sqrt{2} \text{ cm}}} \quad \text{面積 } \underline{\underline{8\sqrt{2} \text{ cm}^2}}$$

22 次の hakken. の法則を読んで内容を覚えなさい。

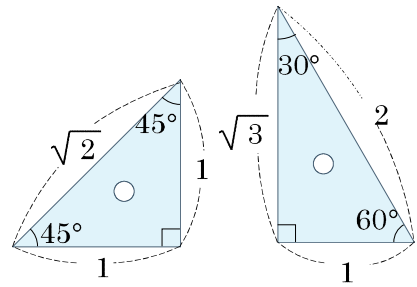
ABCDE

三角定規の3辺の長さの割合 啓 P.192

hakken. の法則 

★3つの角が、90°、30°、60°の直角三角形
 90°、45°、45°の直角二等辺三角形
 の3辺の長さの割合は、右の図のようになる。

◎ 1組の三角定規は、右の図のような、直角三角形、
 直角二等辺三角形である。



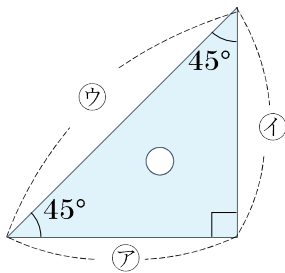
$1 : 1 : \sqrt{2}$

$1 : 2 : \sqrt{3}$

23 三角定規の3辺の長さの割合 啓 P.192

つぎの直角三角形の辺の比ア~カをそれぞれ書きいれなさい。

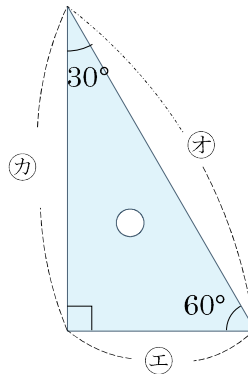
①



$\text{ア} : \text{ウ} : \text{①}$

$\text{ア} \quad \underline{1} \quad \text{ウ} \quad \underline{1} \quad \text{①} \quad \underline{\sqrt{2}}$

②



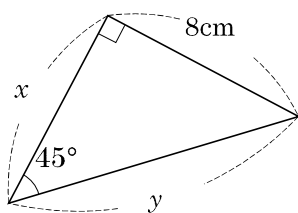
$\text{エ} : \text{カ} : \text{③}$

$\text{エ} \quad \underline{1} \quad \text{カ} \quad \underline{2} \quad \text{③} \quad \underline{\sqrt{3}}$

24 三角定規の3辺の長さの割合 啓 P.192

ABCDE 下の図で、 x 、 y の値を求めなさい。

①



$$8 : y = 1 : \sqrt{2}$$

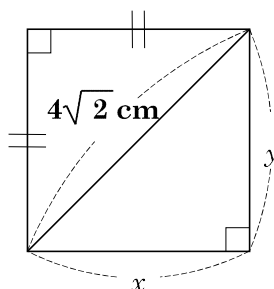
$$y = 8 \times \sqrt{2}$$

$$= 8\sqrt{2}$$

x 8cm

y $8\sqrt{2}$ cm

②



$$x : 4\sqrt{2} = 1 : \sqrt{2}$$

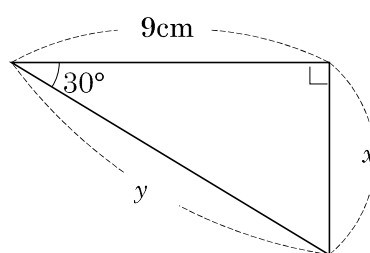
$$\sqrt{2}x = 4\sqrt{2}$$

$$x = 4$$

x 4cm

y 4cm

③



$$x : 9 = 1 : \sqrt{3},$$

$$\sqrt{3}x = 9$$

$$x = 3\sqrt{3}$$

$$3\sqrt{3} : y = 1 : 2$$

$$y = 6\sqrt{3}$$

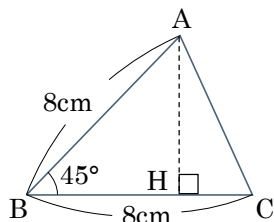
x $3\sqrt{3}$ cm

y $6\sqrt{3}$ cm

25 三角定規の3辺の長さの割合 啓 P.192

DE 下の図の△ABCの面積を求めなさい。

①



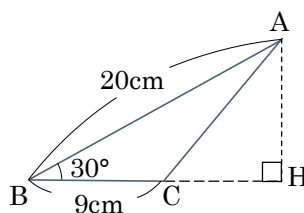
底辺をBC，高さをAHとする。

$$AH = 8 \times \frac{1}{\sqrt{2}} = 4\sqrt{2} \text{ (cm)}$$

面積は、 $\frac{1}{2} \times 8 \times 4\sqrt{2} = 16\sqrt{2} \text{ (cm}^2\text{)}$

$16\sqrt{2}$ cm²

②



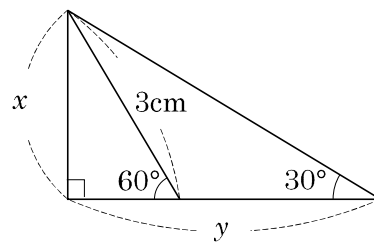
$$AH = 20 \times \frac{1}{2} = 10 \text{ (cm)}$$

面積は、 $\frac{1}{2} \times 9 \times 10 = 45 \text{ (cm}^2\text{)}$

45cm²

26 三角定規の3辺の長さの割合 啓 P.192

E 右の図で、 x 、 y の値を求めなさい。



$$x : 3 = \sqrt{3} : 2,$$

$$2x = 3\sqrt{3}$$

$$x = \frac{3\sqrt{3}}{2}$$

$$\frac{3\sqrt{3}}{2} : y = 1 : \sqrt{3}$$

$$y = \frac{9}{2}$$

$$x \quad \frac{3\sqrt{3}}{2} \text{ cm} \qquad y \quad \frac{9}{2} \text{ cm}$$

27 三角定規の3辺の長さの割合 啓 P.192

CDE 1組の三角定規は、次の図のように、2辺がぴったり重なるように作られている。

AB=10cm のとき、BC、CDの長さをそれぞれ求めなさい。D

$\triangle ABC$ は、 30° 、 60° 、 90° の直角三角形なので

AB : BC = 2 : 1 より

$$BC = 5 \text{ cm}$$

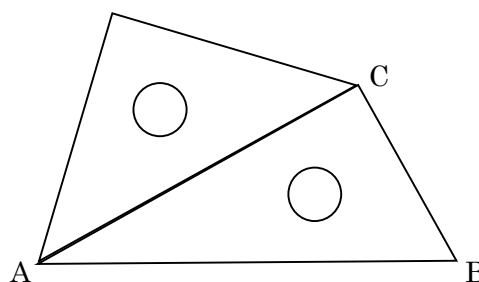
BC : AC = 1 : $\sqrt{3}$ より

$$AC = 5\sqrt{3}$$

$\triangle ACD$ は、 45° 、 45° 、 90° の直角二等辺三角形なので

AC : CD = $\sqrt{2}$: 1 より

$$CD = \frac{5\sqrt{6}}{2}$$



$$BC \quad 5 \text{ cm} \qquad CD \quad \frac{5\sqrt{6}}{2} \text{ cm}$$

28 次の hakken. の法則を読んで内容を覚えなさい。

BCDE

弦の長さ 啓 P.193

hakken. の法則 

例 半径が 6cm の円 O で、中心 O からの距離が 2cm である弦 AB の長さを求めなさい。

[解き方] 円の中心 O から弦 AB に垂線 OH をひく。H は AB の中点だから、 $AB=2AH$ となる。

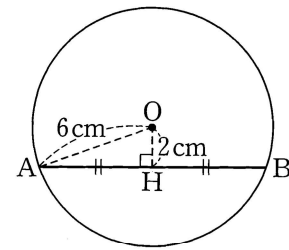
$\triangle OAH$ で、 $AH=x$ cm とすると、

$$x^2 + 2^2 = 6^2$$

$$x^2 = 32$$

$$x = \pm\sqrt{32} = \pm 4\sqrt{2} \quad x > 0 \text{ だから、} x = 4\sqrt{2}$$

よって、 $AB = 2 \times 4\sqrt{2} = 8\sqrt{2}$ (cm)



[答] $8\sqrt{2}$ cm

29

BCDE

半径が 6cm の円 O で、中心 O からの距離が 2cm である弦 AB の長さを求めなさい。

円の中心 O から弦 AB に垂線 OH をひく。

H は AB の中点だから、 $AB=2AH$ となる。

$\triangle OAH$ で、 $AH=x$ cm とすると、

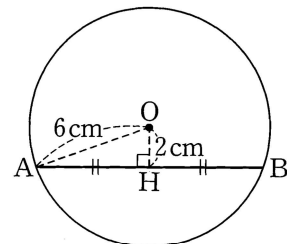
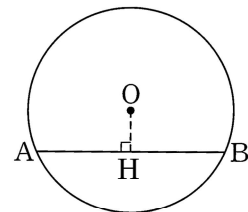
$$x^2 + 2^2 = 6^2 \quad \text{したがって、} x^2 = 32$$

$$x = \pm\sqrt{32} = \pm 4\sqrt{2} \quad x > 0 \text{ だから、} x = 4\sqrt{2}$$

よって、 $AB = 2 \times 4\sqrt{2} = 8\sqrt{2}$ (cm)

$8\sqrt{2}$ cm

弦の長さ 啓 P.193



30

CDE

右の図で、半径が 5cm の円 O で、弦 AB の長さが 8cm のとき、中心から AB までの距離を求めなさい。

$$AH = 8 \div 2 = 4 \text{ だから、} 5^2 = 4^2 + OH^2$$

$$25 = 16 + OH^2$$

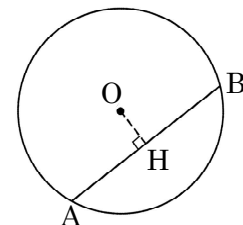
$$OH^2 = 9$$

$$OH = \pm 3 \quad OH > 0 \text{ より、}$$

$$OH = 3 \text{ (cm)}$$

3cm

弦の長さ 啓 P.193

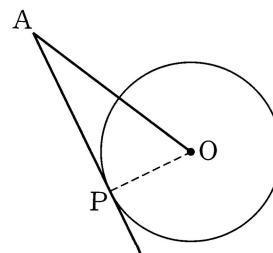


31

弦の長さ 啓 P.193

CDE 次の問いに答えなさい。

- ① 半径 5cm の円 O に、中心 O との距離が 11cm の点 A から接線をひき、接点を P とする。AP の長さを求めなさい。



$\triangle APO$ は、 $\angle APO=90^\circ$ の直角三角形だから、

$$AP^2 = 11^2 - 5^2$$

$$AP^2 = 121 - 25$$

$$AP^2 = 96$$

$$AP = \pm\sqrt{96} = \pm 4\sqrt{6} \quad AP > 0 \text{ より, } AP = 4\sqrt{6} \text{ (cm)}$$

$$\underline{4\sqrt{6} \text{ cm}}$$

- ② 円 O に、中心 O との距離が 8cm の点 A から接線をひき、接点を P とする。AP=6cm のとき、円 O の半径を求めなさい。

$$OP^2 = 8^2 - 6^2$$

$$OP^2 = 64 - 36$$

$$OP^2 = 28$$

$$OP = \pm\sqrt{28} = \pm 2\sqrt{7} \quad OP > 0 \text{ より, } OP = 2\sqrt{7} \text{ (cm)}$$

$$\underline{2\sqrt{7} \text{ cm}}$$

32

弦の長さ 啓 P.193

E 右の図の半径 6cm の円 O で、x の値を求めなさい。

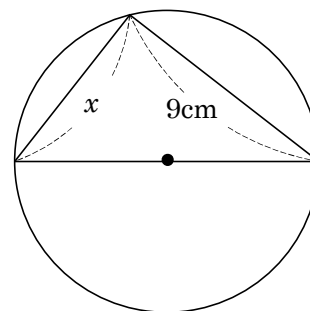
直径を斜辺とする直角三角形になる。

$$x^2 + 9^2 = 12^2$$

$$x^2 = 63$$

$$x = \pm\sqrt{63} = 3\sqrt{7} \quad x > 0 \text{ より, } x = 3\sqrt{7} \text{ (cm)}$$

$$\underline{3\sqrt{7} \text{ cm}}$$



33

弦の長さ 啓 P.193

DE 右の図で、ABの円周角が60°のとき半径を求めなさい。

中心OからABに垂線をひき、ABとの交点をHとする。
 円周角が60°だから、 $\angle AOB=120^\circ$, $\angle AOH=60^\circ$
 $\angle AHO=90^\circ$, $\angle OAH=30^\circ$

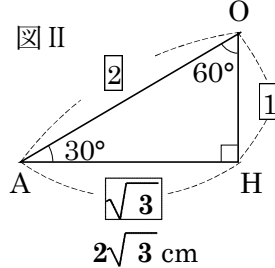
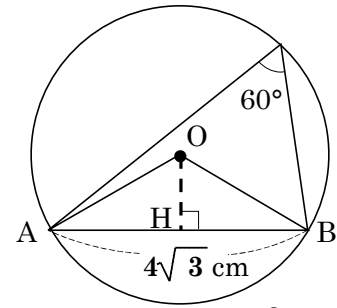
図IIより、 $OH : OA : AH = 1 : 2 : \sqrt{3} = OH : OA : 2\sqrt{3}$

$$OA : AH = 2 : \sqrt{3} = OA : 2\sqrt{3}$$

$$\sqrt{3} OA = 4\sqrt{3}$$

$$OA = 4$$

4cm



34

弦の長さ 啓 P.193

DE 次の図のように、半径が8cmの球を、中心Oとの距離が6cmである平面で切った。すると、その切り口は円となり、その中心をO'とすると、 $OO'=6\text{cm}$ となった。切り口の円O'の半径を求めなさい。

$AO=8\text{cm}$, $OO'=6\text{cm}$ なので

三平方の定理より

$$8^2 - 6^2 = AO'^2$$

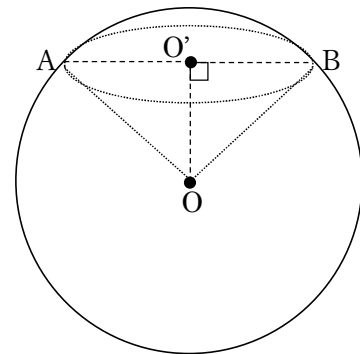
$$64 - 36 = AO'^2$$

$$AO'^2 = 28$$

$$AO' = \pm 2\sqrt{7} \quad AO' > 0 \text{ だから,}$$

$$AO' = 2\sqrt{7}$$

$2\sqrt{7}\text{ cm}$



35

次 hakken.の法則を読んで内容を覚えなさい。

ABCDE

2点間の距離 啓 P.194

hakken.の法則

例 2点A(4, 3), B(-3, -2)の間の距離を求めなさい。

[解き方] ABを斜辺として、座標軸に平行な2辺をもつ直角三角形を考える。

右の図のように、直角三角形ABCをつくる。

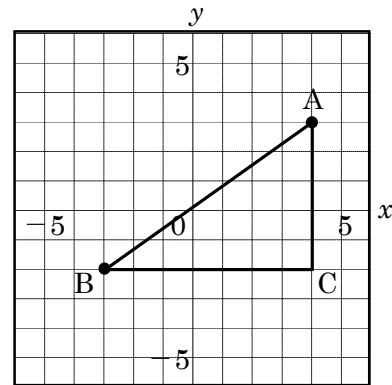
$$BC = 4 - (-3) = 7$$

$$AC = 3 - (-2) = 5 \text{ だから,}$$

$$AB^2 = 7^2 + 5^2 = 74$$

$$AB = \pm\sqrt{74} \quad AB > 0 \text{ だから,}$$

$$AB = \sqrt{74} \quad \text{[答] } \sqrt{74}$$



36

ABCDE 2点 A(4, 3), B(-3, -2)の間の距離を求めなさい。

AB を斜辺として、座標軸に平行な 2 辺をもつ
直角三角形を考える。

右の図のように、直角三角形 ABC をつくる。

$$BC = 4 - (-3) = 7$$

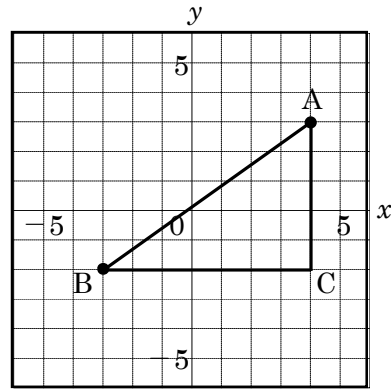
$$AC = 3 - (-2) = 5 \quad \text{だから,}$$

$$AB^2 = 7^2 + 5^2 = 74$$

$$AB = \pm\sqrt{74} \quad AB > 0 \quad \text{だから,}$$

$$AB = \sqrt{74}$$

2点間の距離 啓 P.194



37

ABCDE 2点 A(1, 2), B(8, 6)の間の距離を求めなさい。

$$AB^2 = (8-1)^2 + (6-2)^2$$

$$AB^2 = 49 + 16$$

$$AB^2 = 65$$

$$AB = \pm\sqrt{65} \quad AB > 0 \quad \text{より, } AB = \sqrt{65}$$

2点間の距離 啓 P.194

$$\sqrt{65}$$

38

ABCDE 2点 A(1, -1), B(5, 2)の間の距離を求めなさい。

$$AB^2 = (5-1)^2 + \{2 - (-1)\}^2$$

$$AB^2 = 16 + 9$$

$$AB^2 = 25$$

$$AB = \pm 5 \quad AB > 0 \quad \text{より, } AB = 5$$

2点間の距離 啓 P.194

$$5$$

39

2点間の距離 啓 P.194

BCDE 2点 $A(-2, -9)$, $B(-7, 3)$ の間の距離を求めなさい。

$$AB^2 = \{(-7) - (-2)\}^2 + \{3 - (-9)\}^2$$

$$AB^2 = (-7+2)^2 + (3+9)^2$$

$$AB^2 = 25 + 144$$

$$AB^2 = 169$$

$$AB = \pm 13 \quad AB > 0 \text{ より, } AB = 13$$

13

40

2点間の距離 啓 P.194

E 右の図の2点 A , B の距離を求めなさい。

$A(-6, 9)$, $B(8, -5)$ だから,

$$AB^2 = \{8 - (-6)\}^2 + \{9 - (-5)\}^2$$

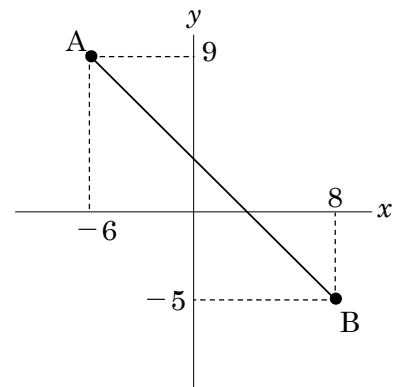
$$AB^2 = 14^2 + 14^2$$

$$AB^2 = 196 + 196$$

$$AB^2 = 392$$

$$AB = \pm\sqrt{392} = \pm 14\sqrt{2} \quad AB > 0 \text{ より,}$$

$$AB = 14\sqrt{2}$$

 **$14\sqrt{2}$**

41

2点間の距離 啓 P.194

DE 3点 $O(0, 0)$, $A(4, 3)$, $B(7, -1)$ を頂点とする $\triangle OAB$ について、次の問いに答えなさい。① OA , OB , AB の長さを求めなさい。

$$OA = \sqrt{4^2 + 3^2}$$

$$= \sqrt{25}$$

$$= 5$$

$$OB = \sqrt{7^2 + 1^2}$$

$$= \sqrt{50}$$

$$= 5\sqrt{2}$$

$$AB = \sqrt{(7-4)^2 + \{3 - (-1)\}^2}$$

$$= \sqrt{3^2 + 4^2}$$

$$= \sqrt{25}$$

$$= 5$$

OA **5** OB **$5\sqrt{2}$** AB **5**

② $\triangle OAB$ はどんな三角形になるか答えなさい。

$$OA : AB : OB = 1 : 1 : \sqrt{2} \text{ より}$$

$\angle A = 90^\circ$ の直角二等辺三角形

42 次の hakken. の法則を読んで内容を覚えなさい。

BCDE

直方体の対角線 啓 P.195

hakken. の法則

例 図のような直方体がある。対角線 AG の長さを求めなさい。

[解き方] 底面の対角線 EG をひく。

△AEG は、 $\angle AEG = 90^\circ$ の直角三角形だから、

$$AG^2 = AE^2 + EG^2 \dots \textcircled{1}$$

△EFG は、 $\angle EFG = 90^\circ$ の直角三角形だから、

$$EG^2 = EF^2 + FG^2 \dots \textcircled{2}$$

$$\textcircled{1}, \textcircled{2} \text{ から, } AG^2 = AE^2 + EF^2 + FG^2$$

$$= 4^2 + 7^2 + 5^2 = 90$$

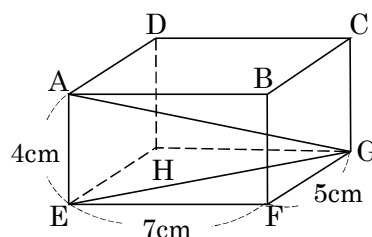
$$AG = \pm \sqrt{90} = \pm 3\sqrt{10}$$

$$AG > 0 \text{ だから, } AG = 3\sqrt{10} \text{ (cm)}$$

[答] $3\sqrt{10}$ (cm)

◎縦、横、高さがそれぞれ a, b, c である直方体では、対角線の長さは $\sqrt{a^2 + b^2 + c^2}$

※直方体の対角線の長さはすべて等しい。



43

BCDE

直方体の対角線 啓 P.195

図のような直方体がある。対角線 AG の長さを求めなさい。

底面の対角線 EG をひく。

△AEG は、 $\angle AEG = 90^\circ$ の直角三角形だから、

$$AG^2 = AE^2 + EG^2 \dots \textcircled{1}$$

△EFG は、 $\angle EFG = 90^\circ$ の直角三角形だから、

$$EG^2 = EF^2 + FG^2 \dots \textcircled{2}$$

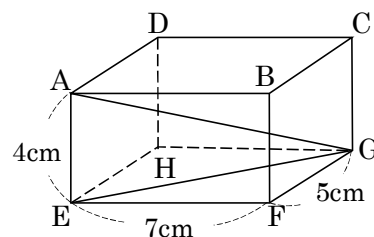
$$\textcircled{1}, \textcircled{2} \text{ から, } AG^2 = AE^2 + EF^2 + FG^2$$

$$= 4^2 + 7^2 + 5^2 = 90$$

$$AG = \pm \sqrt{90} = \pm 3\sqrt{10}$$

$$AG > 0 \text{ だから, } AG = 3\sqrt{10} \text{ (cm)}$$

$$\underline{\underline{3\sqrt{10} \text{ cm}}}$$



44 直方体の対角線 啓 P.195

BCDE 1 辺の長さが 4cm の立方体の対角線の長さを求めなさい。

$$4^2 + 4^2 + 4^2 = 16 + 16 + 16$$

$$= 48$$

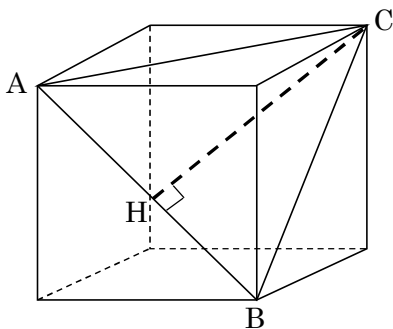
対角線は、 $\sqrt{48} = 4\sqrt{3}$

$$\underline{4\sqrt{3}}$$

45 直方体の対角線 啓 P.195

E 立方体を頂点 A, B, C を通る平面で切る時、切り口の△ABC の面積を求めなさい。

① 1 辺 6cm



$$AB^2 = 6^2 + 6^2$$

$$AB^2 = 36 + 36$$

$$AB^2 = 72$$

$$AB = \pm\sqrt{72}$$

$$AB = \pm 6\sqrt{2}$$

$$AB > 0 \text{ より, } AB = 6\sqrt{2}$$

$$HB = 6\sqrt{2} \div 2 = 3\sqrt{2}$$

$$CH^2 = (6\sqrt{2})^2 - (3\sqrt{2})^2$$

$$CH^2 = 72 - 18$$

$$CH^2 = 54$$

$$CH = \pm\sqrt{54} = \pm 3\sqrt{6}$$

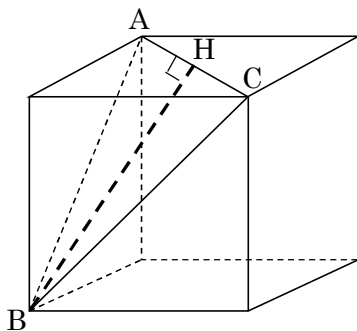
$$CH > 0 \text{ より, } CH = 3\sqrt{6}$$

$$\triangle ABC \text{ の面積} = 6\sqrt{2} \times 3\sqrt{6} \times \frac{1}{2}$$

$$= 18\sqrt{3}$$

$$\underline{18\sqrt{3} \text{ cm}^2}$$

② 1 辺 3cm



$$AC^2 = 3^2 + 3^2$$

$$AC^2 = 9 + 9$$

$$AC^2 = 18$$

$$AC = \pm\sqrt{18}$$

$$AC > 0 \text{ より, } AC = 3\sqrt{2}$$

$$HC = \frac{3\sqrt{2}}{2}$$

$$BH^2 = (3\sqrt{2})^2 - \left(\frac{3\sqrt{2}}{2}\right)^2$$

$$BH^2 = 18 - \frac{9}{2}$$

$$BH^2 = \frac{27}{2}$$

$$BH = \pm\frac{3\sqrt{6}}{2}$$

$$BH > 0 \text{ より, } BH = \frac{3\sqrt{6}}{2}$$

$$\triangle ABC \text{ の面積} = 3\sqrt{2} \times \frac{3\sqrt{6}}{2} \times \frac{1}{2}$$

$$= \frac{9\sqrt{3}}{2}$$

$$\underline{\frac{9\sqrt{3}}{2} \text{ cm}^2}$$

46 次の hakken. の法則を読んで内容を覚えなさい。
CDE

正四角錐の高さと体積 啓 P.196

hakken. の法則 

例 次の正四角錐の高さと体積を求めなさい。

[解き方] $\triangle BCD$ は直角二等辺三角形なので

$$CD : DB = 1 : \sqrt{2} = 6(\text{cm}) : DB$$

$$DB = 6\sqrt{2} \text{ (cm)}$$

$$H \text{ は } DB \text{ の中点だから, } DH = \frac{1}{2}DB = 3\sqrt{2} \text{ (cm)}$$

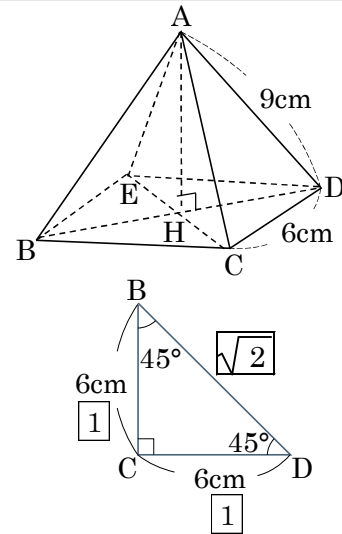
$$AH^2 = 9^2 - (3\sqrt{2})^2$$

$$AH^2 = 81 - 18 \quad \boxed{\sqrt{2}}$$

$$AH^2 = 63$$

$$AH = \pm 3\sqrt{7} \quad AH > 0 \text{ より, } AH = 3\sqrt{7}$$

$$\text{体積は, } 6^2 \times 3\sqrt{7} \times \frac{1}{3} = 36\sqrt{7} \quad \text{[答] 高さ } 3\sqrt{7} \text{ cm} \quad \text{体積 } 36\sqrt{7} \text{ cm}^3$$



47 次の正四角錐の高さと体積を求めなさい。
CDE

正四角錐の高さと体積 啓 P.196

$\triangle BCD$ は直角二等辺三角形なので

$$CD : DB = 1 : \sqrt{2} = 6(\text{cm}) : DB$$

$$DB = 6\sqrt{2} \text{ (cm)}$$

$$H \text{ は } DB \text{ の中点だから, } DH = \frac{1}{2}DB = 3\sqrt{2} \text{ (cm)}$$

$$AH^2 = 9^2 - (3\sqrt{2})^2$$

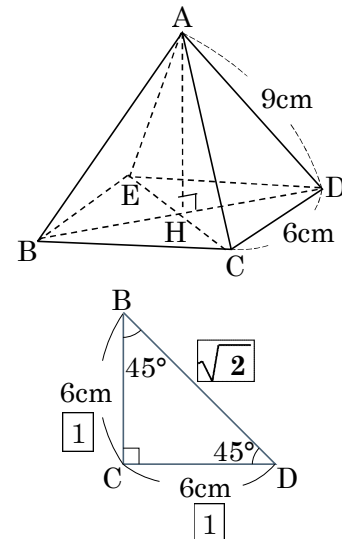
$$AH^2 = 81 - 18$$

$$AH^2 = 63$$

$$AH = \pm 3\sqrt{7} \quad AH > 0 \text{ より, } AH = 3\sqrt{7}$$

$$\text{体積は, } 6^2 \times 3\sqrt{7} \times \frac{1}{3} = 36\sqrt{7}$$

$$\text{高さ } \underline{3\sqrt{7} \text{ cm}} \quad \text{体積 } \underline{36\sqrt{7} \text{ cm}^3}$$



48

正四角錐の高さと体積 啓 P.196

CDE 次の正四角錐の表面積を求めなさい。

$$AP^2 = 9^2 - 3^2$$

$$AP^2 = 81 - 9$$

$$AP^2 = 72$$

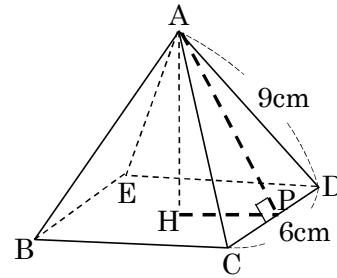
$$AP = \pm\sqrt{72}$$

$$AP = \pm 6\sqrt{2} \quad AP > 0 \text{ だから, } AP = 6\sqrt{2}$$

$$\text{側面積は, } 6 \times 6\sqrt{2} \times \frac{1}{2} \times 4 = 72\sqrt{2}$$

$$\text{底面積は, } 6 \times 6 = 36$$

$$\text{表面積は, } 72\sqrt{2} + 36$$



$$\underline{72\sqrt{2} + 36(\text{cm}^2)}$$

49

正四角錐の高さと体積 啓 P.196

CDE 底面の半径が 7cm, 母線の長さが 11cm の円錐の体積と表面積を求めなさい。

円錐の頂点 A と底面の中心 O を結ぶと, 線分 AO が
この円錐の高さを表す。

母線の 1 つが AB のとき, $\triangle ABO$ は直角三角形となるから,
 $AO = h$ cm とすると,

$$h^2 + 7^2 = 11^2$$

$$h^2 = 72$$

$$h = \pm\sqrt{72}$$

$$h = \pm 6\sqrt{2} \quad h > 0 \text{ だから, } h = 6\sqrt{2} \quad \text{したがって,}$$

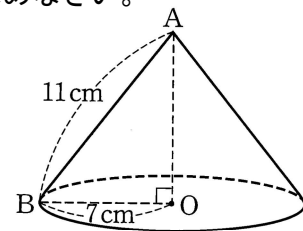
体積は, $\frac{1}{3} \times \pi \times 7^2 \times 6\sqrt{2} = 98\sqrt{2} \pi$ ← 円錐の体積は, $\frac{1}{3} \times (\text{底面積}) \times (\text{高さ})$

$$\text{底面積} = 7^2 \pi = 49 \pi, \quad \text{側面積} = 11^2 \pi \times \frac{7}{11} = 77 \pi$$

$$\text{表面積} = 49 \pi + 77 \pi = 126 \pi$$

$$\text{体積} \quad \underline{98\sqrt{2} \pi \text{ cm}^3}$$

$$\text{表面積} \quad \underline{126 \pi \text{ cm}^2}$$



50

正四角錐の高さと体積 啓 P.196

DE 次の図は円錐の展開図です。これを組み立てたときの円錐の高さを求めなさい。

図Ⅱのような円錐になる。

底面の半径を r 、高さを h とすると

$$2\pi \times 6 \times \frac{120}{360} = 2\pi \times r$$

$$4\pi = 2\pi \times r$$

$$r = 2$$

$$h^2 = 6^2 - 2^2$$

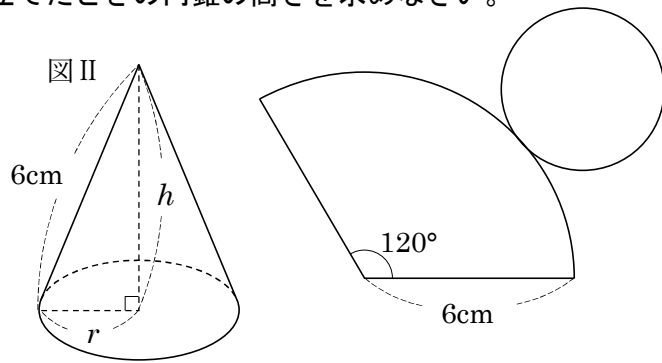
$$= 36 - 4$$

$$= 32$$

$$h = \pm\sqrt{32}$$

$$h = \pm 4\sqrt{2} \quad h > 0 \text{ より, } h = 4\sqrt{2} \text{ (cm)}$$

$$\underline{\underline{4\sqrt{2} \text{ cm}}}$$



51

正四角錐の高さと体積 啓 P.196

DE 次の図で、直角三角形 ABC を ℓ を回転軸として 1 回転してできた立体の体積を求めなさい。

図Ⅱのような円錐になる。

$$AC^2 = 13^2 - 5^2$$

$$AC^2 = 169 - 25$$

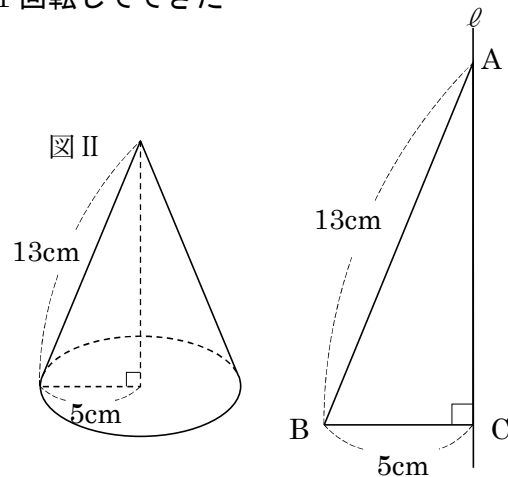
$$AC^2 = 144$$

$$AC = \pm 12$$

$$AC > 0 \text{ だから, } AC = 12$$

$$\text{体積は, } 5^2 \pi \times 12 \times \frac{1}{3} = 100\pi$$

$$\underline{\underline{100\pi \text{ cm}^3}}$$



52 次の hakken. の法則を読んで内容を覚えなさい。

BCDE

学びを身につけよう(1) 啓 P.200~201

hakken. の法則 

例 AB=9cm, BC=10cm, CA=11cm の△ABCがある。

点Aから辺BCに垂線AHをひく。次の問いに答えなさい。

(1) BH, AHの長さを求めなさい。

[解き方] 2つの直角三角形△ABH, △ACHのそれぞれで

三平方の定理を使い、 AH^2 を2通りに表す。

BH=x cm, AH=h cm とすると、

△ABHで、 $h^2=9^2-x^2$ △ACHで、 $h^2=11^2-(10-x)^2$ よって、 $9^2-x^2=11^2-(10-x)^2$

$$81-x^2=121-(100-20x+x^2)$$

$$81-x^2=121-100+20x-x^2$$

$$-x^2+x^2-20x=121-100-81$$

$$20x=-60$$

$$x=3$$

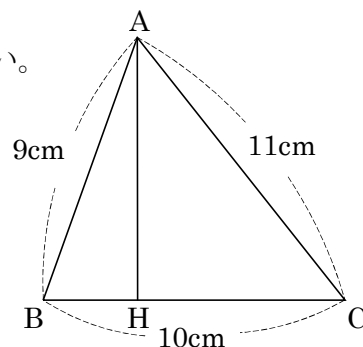
このとき、 $h^2=9^2-3^2=72$

$$h=\pm\sqrt{72}$$

$$h=\pm 6\sqrt{2} \quad h>0 \text{ だから, } h=6\sqrt{2}$$

[答] BH=3cm, AH=6√2 cm

(2) △ABCの面積を求めなさい。

[解き方] $\triangle ABC = \frac{1}{2} \times 10 \times 6\sqrt{2} = 30\sqrt{2} \text{ (cm}^2\text{)}$ [答] 30√2 cm²

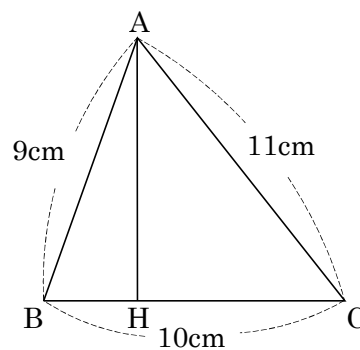
53

学びを身につけよう 啓 P.200~201

BCDE AB=9cm, BC=10cm, CA=11cm の△ABCがある。

点Aから辺BCに垂線AHをひく。次の問いに答えなさい。

① BH, AHの長さを求めなさい。



2つの直角三角形△ABH, △ACHのそれぞれで

三平方の定理を使い, AH^2 を2通りに表す。BH= x cm, AH= h cm とすると,△ABHで, $h^2=9^2-x^2$ △ACHで, $h^2=11^2-(10-x)^2$ よって, $9^2-x^2=11^2-(10-x)^2$

$$81-x^2=121-(100-20x+x^2)$$

$$81-x^2=121-100+20x-x^2$$

$$-x^2+x^2-20x=121-100-81$$

$$20x=-60$$

$$x=3$$

このとき, $h^2=9^2-3^2=72$

$$h=\pm\sqrt{72}$$

$$h=\pm 6\sqrt{2} \quad h>0 \text{ だから, } h=6\sqrt{2}$$

BH 3cm AH $6\sqrt{2}$ cm

② △ABCの面積を求めなさい。

$$\triangle ABC = \frac{1}{2} \times 10 \times 6\sqrt{2} = 30\sqrt{2} \text{ (cm}^2\text{)}$$

$$\underline{\underline{30\sqrt{2} \text{ cm}^2}}$$

54 学びを身につけよう 啓 P.200~201

CDE 3 辺の長さが 9cm, 8cm, 7cm の三角形の面積を, 8cm の辺を底辺として求めなさい。

△ABC で, A から辺 BC に垂線を引き, BC との交点を D とする。

DC=x とすると, 三平方の定理から,

AD の長さは, $7^2 - x^2 = 9^2 - (8-x)^2$

$$49 - x^2 = 81 - 64 + 16x - x^2$$

$$49 - x^2 = 17 + 16x - x^2$$

$$16x = 49 - 17$$

$$16x = 32$$

$$x = 2$$

$$AD^2 = 7^2 - 2^2$$

$$= 49 - 4$$

$$= 45$$

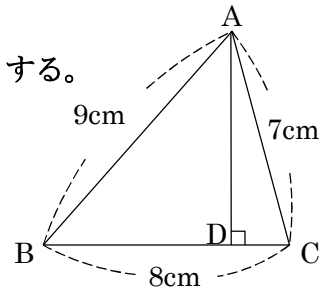
$$AD = \sqrt{45}$$

$$AD = 3\sqrt{5}$$

AD > 0 だから, AD = 3√5

$$\triangle ABC \text{ の面積} = \frac{1}{2} \times 8 \times 3\sqrt{5} = 12\sqrt{5} \text{ (cm}^2\text{)}$$

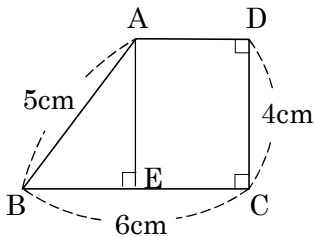
$$\underline{12\sqrt{5} \text{ (cm}^2\text{)}}$$



55 学びを身につけよう 啓 P.200~201

CDE 次の図形の面積を求めなさい。

①



A から辺 BC にひいた垂線と
辺 BC との交点を E とする。

△ABE で, ∠BEA=90°

AB=5cm, AE=4cm だから,

$$BE^2 = 5^2 - 4^2 = 25 - 16 = 9 \quad BE = \pm 3$$

BE > 0 だから, BE = 3

台形の面積 ABCD = △ABE + 四角形

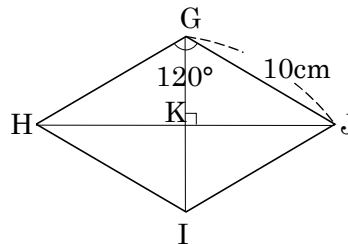
$$= \frac{1}{2} \times 3 \times 4 + 4 \times (6 - 3)$$

$$= 6 + 12$$

$$= 18 \text{ (cm}^2\text{)}$$

$$\underline{18 \text{ cm}^2}$$

② ひし形



頂点 G,I, 頂点 H,J を結ぶ対角線をかき
その交点を K とする。

△GKJ で, ∠GKJ=90°,

$$\angle JGK = 120^\circ \div 2 = 60^\circ$$

$$\angle KJG = 180^\circ - (90^\circ + 60^\circ) = 30^\circ$$

$$\text{よって, } GK : JG : KJ = 1 : 2 : \sqrt{3} \\ = 5 : 10 : 5\sqrt{3}$$

$$HJ = 10\sqrt{3}, \quad GI = 10$$

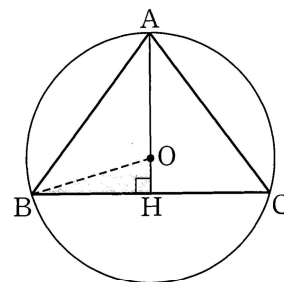
$$\text{ひし形 GHIJ の面積} = \frac{1}{2} \times 10\sqrt{3} \times 10 \\ = 50\sqrt{3} \text{ (cm}^2\text{)}$$

$$\underline{50\sqrt{3} \text{ cm}^2}$$

56

学びを身につけよう 啓 P.200~201

- E 右の図で、A、B、Cは円Oの周上の点であり、 $\triangle ABC$ は
 $AB=AC=5\text{cm}$ 、 $BC=6\text{cm}$ の二等辺三角形である。Aから辺BCに
 ひいた垂線とBCとの交点をHとすると、円の中心Oは線分AH上
 にある。



- ① AHの長さを求めなさい。

$BH=3\text{cm}$ だから、

$$AH^2=5^2-3^2$$

$$=25-9$$

$$=16$$

$$AH=\pm 4 \quad AH>0 \text{ だから, } AH=4(\text{cm})$$

4cm

- ② 円Oの半径を $x\text{ cm}$ として方程式をつくり、 x の値を求めなさい。

$OB=AO=x\text{ cm}$ 、 $BH=3\text{cm}$ 、

$OH=AH-AO=(4-x)\text{cm}$ だから、

$\triangle OBH$ で、三平方の定理により、

$$3^2+(4-x)^2=x^2$$

$$9+16-8x+x^2=x^2$$

$$8x=9+16$$

$$8x=25$$

$$x=\frac{25}{8}$$

$\frac{25}{8}$

57 次の hakken. の法則を読んで内容を覚えなさい。

DE

学びを身につけよう (2) 啓 P.200~201

hakken. の法則 

例 右の図のような直方体がある。この直方体に、点 A から辺 BC を通って点 G まで最も短くなるようひもをかけたとき、かけたひもの長さを求めなさい。

[解き方] ひもの長さが最も短くなるとき、ひもは、展開図の上では、A と G を結ぶ線分になる。

右の図のように、辺 BC を通るとき、

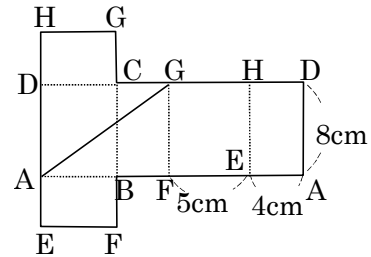
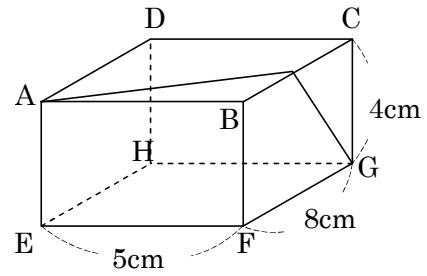
$$AG^2 = (5+4)^2 + 8^2$$

$$= 81 + 64$$

$$= 145$$

$$AG = \pm\sqrt{145} \quad AG > 0 \text{ だから,}$$

$$AG = \sqrt{145} \quad \text{[答]} \quad \underline{\sqrt{145} \text{ cm}}$$



58 学びを身につけよう 啓 P.200~201

DE

右の図のような直方体がある。この直方体に、A から辺 BC を通って点 G まで最も短くなるようひもをかけたとき、かけたひもの長さを求めなさい。

ひもの長さが最も短くなるとき、ひもは展開図の上では、A と G を結ぶ線分になる。右の図のように、辺 BC を通るとき、

$$AG^2 = (5+4)^2 + 8^2$$

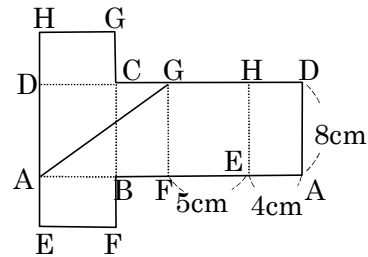
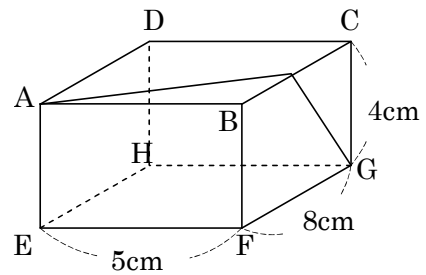
$$= 81 + 64$$

$$= 145$$

$$AG = \pm\sqrt{145}$$

$$AG > 0 \text{ だから, } AG = \sqrt{145}$$

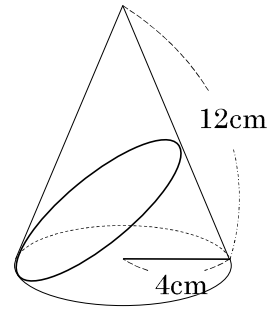
$$\underline{\underline{\sqrt{145} \text{ cm}}}$$



59

学びを身につけよう 啓 P.200~201

DE 右の図のように、母線が 12cm、底面の半径が 4cm の円錐がある。
底面の円周上の 1 点から、円錐の側面を 1 周して最短の長さを、
ひもをかけるとき、ひもの長さを求めなさい。

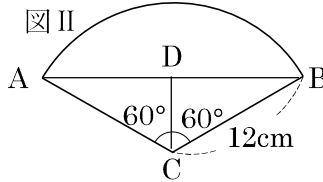


側面の展開図は、図Ⅱのようなおうぎ形になる。
中心角を a とすると、

$$\text{中心角は、} 2\pi \times 12 \times \frac{a}{360} = 2\pi \times 4$$

$$\frac{a}{30} = 4$$

$$a = 120$$



$\triangle DCA \equiv \triangle DCB$ で、 30° , 60° , 90° の直角三角形である。

$$BC : BD = 2 : \sqrt{3} = 12 : BD$$

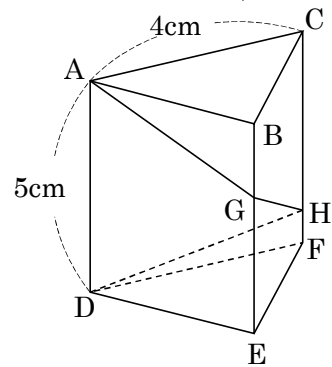
$$2BD = 12\sqrt{3} = AB \quad \dots \text{ひもの長さ}$$

$$\underline{12\sqrt{3} \text{ cm}}$$

60

学びを身につけよう 啓 P.200~201

E 右の図のように、底面の 1 辺が 4cm、高さが 5cm の正三角柱に、点 A から辺 BE, CF を通って点 D まで糸をまきつける。糸の長さがもっとも短くなるようにまきつけるとき、次の問いに答えなさい。



① 糸の長さを求めなさい。

$$\text{図Ⅱより、} AD^2 = 5^2 + (4 \times 3)^2 = 25 + 144$$

$$= 169$$

$$AD = \pm 13$$

$$AD > 0 \text{ だから、} \quad AD = 13(\text{cm})$$

$$\underline{13\text{cm}}$$

② 糸と辺 BE, CF との交点をそれぞれ G, H とするとき、BG, CH の長さを求めなさい。

図Ⅱより、平行線と線分の比から、

$$BG : 5 = 1 : 3$$

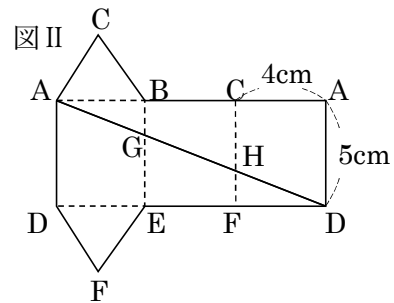
$$3BG = 5$$

$$BG = \frac{5}{3}(\text{cm})$$

$$CH : 5 = 2 : 3$$

$$3CH = 10$$

$$CH = \frac{10}{3}(\text{cm})$$



$$BG \quad \underline{\frac{5}{3} \text{ cm}}$$

$$CH \quad \underline{\frac{10}{3} \text{ cm}}$$

61 次の hakken.の法則を読んで内容を覚えなさい。

DE

学びを身につけよう (3) 啓 P.200~201

hakken.の法則 

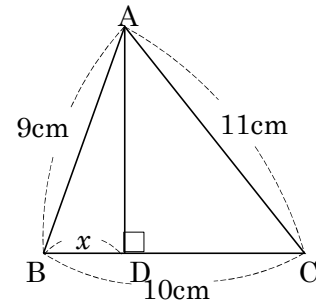
例 右の図で、 $9^2 - x^2 = 11^2 - (10 - x)^2$ が成り立つことを説明しなさい。

[説明] $\triangle ABD$ と $\triangle ACD$ は、直角三角形である。

$\triangle ABD$ で、 $9^2 - x^2 = AD^2$ …①

$\triangle ACD$ で、 $11^2 - (10 - x)^2 = AD^2$ …②

①, ②より、 $9^2 - x^2 = 11^2 - (10 - x)^2$



62 学びを身につけよう 啓 P.200~201

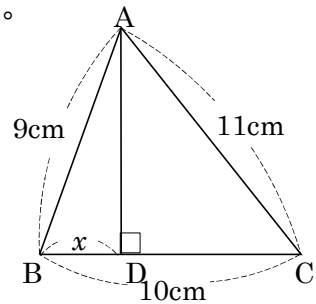
DE 右の図で、 $9^2 - x^2 = 11^2 - (10 - x)^2$ が成り立つことを説明しなさい。

$\triangle ABD$ と $\triangle ACD$ は、直角三角形である。

$\triangle ABD$ で、 $9^2 - x^2 = AD^2$ …①

$\triangle ACD$ で、 $11^2 - (10 - x)^2 = AD^2$ …②

①, ②より、 $9^2 - x^2 = 11^2 - (10 - x)^2$



63 次の hakken.の法則を読んで内容を覚えなさい。

E

応用

hakken.の法則 

例 $AB=8\text{cm}$, $AD=10\text{cm}$ の長方形 ABCD がある。いま、この長方形を下の図のように、線分 EF を折り目として折ったら、頂点 A が辺 BC 上の点 G に重なった。

$BG=4\text{cm}$ のとき、AE の長さを求めなさい。

[解き方] 直角三角形 EBG について、三平方の定理を利用して方程式をつくる。

$AE=x\text{cm}$ とすると、 $\triangle EGF$ は $\triangle EAF$ を折り返したものだから、 $EG=AE=x\text{cm}$

また、 $EB=AB-AE=(8-x)\text{cm}$

$\triangle EBG$ で、三平方の定理により、

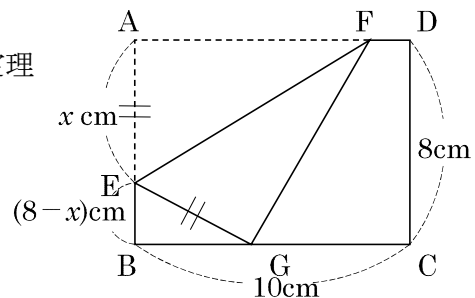
$(8-x)^2 + 4^2 = x^2$ ← $EB^2 + BG^2 = EG^2$

$64 - 16x + x^2 + 16 = x^2$

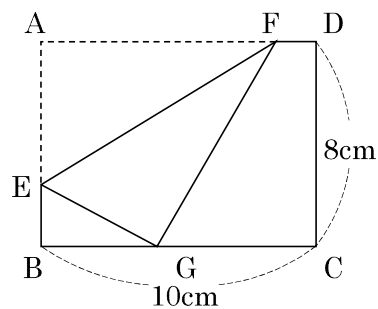
$16x = 80$

$x = 5$

[答] 5cm



- E AB=8cm, AD=10cm の長方形 ABCD がある。いま, この長方形を下の図のように, 線分 EF を折り目として折ったら, 頂点 A が辺 BC 上の点 G に重なった。BG=4cm のとき, AE の長さを求めなさい。



直角三角形 EBG について, 三平方の定理
を利用して方程式をつくる。

AE = x cm とすると,

$\triangle EGF$ は $\triangle EAF$ を折り返したものだから,

$EG = AE = x$ cm

また, $EB = AB - AE = (8 - x)$ cm

$\triangle EBG$ で, 三平方の定理により, $EB^2 + BG^2 = EG^2$

$$(8 - x)^2 + 4^2 = x^2$$

$$64 - 16x + x^2 + 16 = x^2$$

$$16x = 80$$

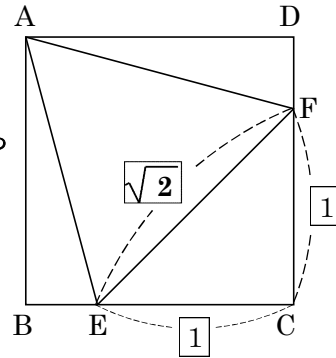
$$x = 5$$

5cm

応用

65

E 右の図で、四角形 ABCD は正方形、 $\triangle AEF$ は正三角形である。
 $AB=3\text{cm}$ のとき、 AE の長さを求めなさい。



斜辺($AE=AF$)と他の1辺($AB=AD$)がそれぞれ等しいから
 $\triangle ABE \equiv \triangle ADF$ によって、 $\triangle CEF$ は直角二等辺三角形

$$EC = x \text{ cm とすると、 } EF : EC = \sqrt{2} : 1$$

$$EF : x = \sqrt{2} : 1$$

$$EF = \sqrt{2} x$$

$\triangle AEF$ は正三角形だから、 $EF = AE = \sqrt{2} x$

$\triangle ABE$ で、三平方の定理により $(\sqrt{2} x)^2 = 3^2 + (3-x)^2$

$$2x^2 = 9 + 9 - 6x + x^2$$

$$2x^2 = 18 - 6x + x^2$$

$$2x^2 - x^2 + 6x - 18 = 0$$

$$x^2 + 6x - 18 = 0$$

$$x = \frac{-6 \pm \sqrt{36 + 72}}{2 \times 1}$$

$$x = \frac{-6 \pm \sqrt{108}}{2 \times 1}$$

$$x = \frac{-6 \pm 6\sqrt{3}}{2 \times 1} \quad x > 0 \text{ だから}$$

$$x = -3 + 3\sqrt{3}$$

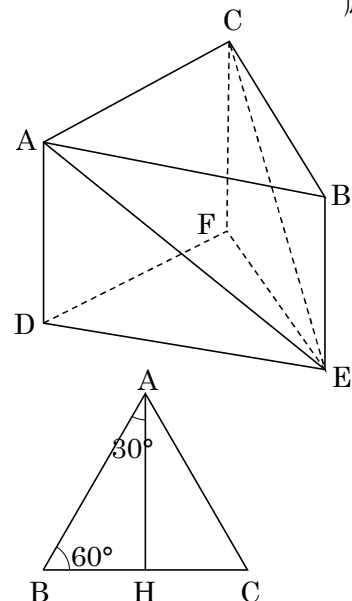
$$\begin{aligned} AE &= \sqrt{2} x = \sqrt{2} (-3 + 3\sqrt{3}) \\ &= -3\sqrt{2} + 3\sqrt{6} \text{ (cm)} \end{aligned}$$

$$\underline{\underline{-3\sqrt{2} + 3\sqrt{6} \text{ (cm)}}}$$

66

E 右の図のような正三角柱 ABC - DEF があり、 $AD=3\text{cm}$ 、
 $AC=4\text{cm}$ のとき、三角錐 ABCE の体積を求めなさい。

応用



$\triangle ABC$ において、頂点 A から BC に垂線を引き、
 その交点を H とする。BC を底辺とすると高さは

$$AB : AH = 2 : \sqrt{3} = 4\text{cm} : 2\sqrt{3} \text{ cm}$$

高さ $= 2\sqrt{3} \text{ cm}$ 、よって

$$\triangle ABC \text{ の面積は } 4 \times 2\sqrt{3} \div 2 = 4\sqrt{3} \text{ cm}^2$$

$$\text{体積は } 4\sqrt{3} \times 3 \div 3 = 4\sqrt{3} \text{ (cm}^3\text{)}$$

$$\underline{\underline{4\sqrt{3} \text{ cm}^3}}$$

67

応用

E 右の図のように、平行四辺形 ABCD の頂点 A から辺 BC の延長におろした垂線を AH とする。平行四辺形 ABCD の面積が 84cm^2 、 $AD=7\text{cm}$ 、 $DC=15\text{cm}$ のとき、次の問いに答えなさい。

① HB の長さを求めなさい。

$$\text{平行四辺形 } ABCD = 84 = 7 \times AH$$

$AH = 84 \div 7 = 12\text{cm}$ なので、三平方の定理より

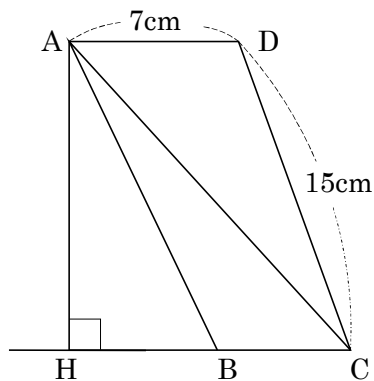
$$HB = x \text{ とすると, } 15^2 = 12^2 + x^2$$

$$x^2 = 225 - 144$$

$$x^2 = 81$$

$$x = \pm 9 \quad x > 0 \text{ だから}$$

$$x = 9, \text{ よって } HB = 9\text{cm}$$



9cm

② 対角線 AC の長さを求めなさい。

$AH = 12$ 、 $HC = 16$ なので、三平方の定理より、

$$AC = x \text{ とすると, } x^2 = 12^2 + 16^2$$

$$x^2 = 144 + 256$$

$$x^2 = 400$$

$$x = \pm 20 \quad x > 0 \text{ だから}$$

$$x = 20, \text{ よって } AC = 20\text{cm}$$

20cm

1節 直角三角形の3辺の関係

教科書 目次		hakken.教材 QR コード
1 三平方の定理	P. 182~184	QR 1~9
三平方の定理の逆	P. 185~187	QR 10~15

2節 三平方の定理の利用

教科書 目次		hakken.教材 QR コード
1 三平方の定理の利用	P. 189~190	QR 16~17
平面における線分の長さや面積	P. 191	QR 18~22
三角定規の3辺の長さの割合	P. 192	QR 23~28
弦の長さ	P. 193	QR 29~35
2点間の距離	P. 194	QR 36~42
直方体の対角線	P. 195	QR 43~46
正四角錐の高さと体積	P. 196	QR 47~52
章末問題	P. 198	
学びを身につけよう	P. 200~201	QR 53~63
応用		QR 64~68