

1 つぎ せつめい よ もんだい こた
ABCDE 次の説明を読んで、問題に答えましょう。

そろばん

hakken. の法則 

★学習内容 そろばん


…そろばんは、人さし指と
親指を使って数を入れたり
取ったりします。

そろばんの上がわにある

たまを五だま、下がわにある4つのたまを一だまといいます。

五だまと一だまの間にあるはりにうってある小さな点を、定位点と
いいます。

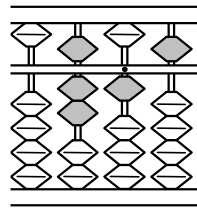
れいだい 例題 そろばんに入れた次の数を答えましょう。



右上の図から

答 715

2
ABCDE そろばんに入れた次の数を答えましょう。




715

3

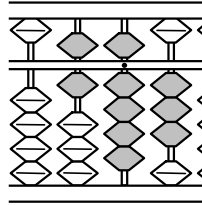
CDE

そろばんに入れた次の数を答えましょう。

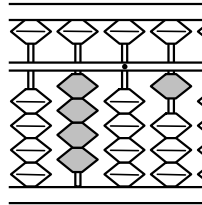
①

**208**

②

**693**

③

**401**