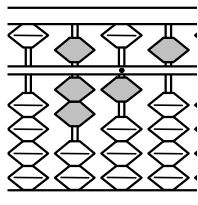


2

ABCDE

そろばんに入れた次の数を答えましょう。



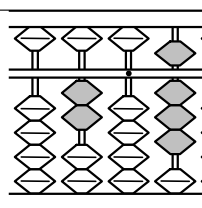
\_\_\_\_\_

3

CDE

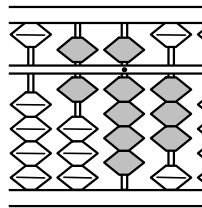
そろばんに入れた次の数を答えましょう。

①



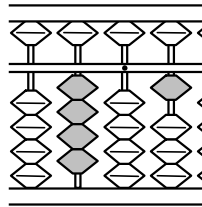
\_\_\_\_\_

②



\_\_\_\_\_

③



\_\_\_\_\_