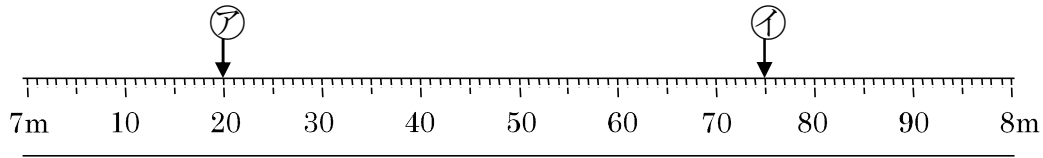


3-6 長いものの長さ

2 下のまきじゃくで、アイのめもりをよみましょう。

ABCDE



ア _____ イ _____

4 () にあてはまる数 を答えましょう。

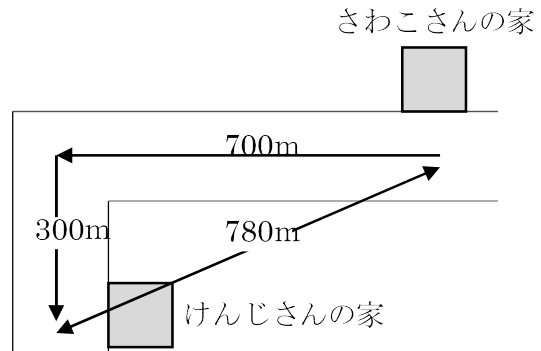
ABCDE

- ① $1\text{km}200\text{m} = (\quad) \text{m}$
- ② $2600\text{m} = (\quad) \text{km} (\quad) \text{m}$

6 右の地図を見て、問題に答えましょう。

ABCDE

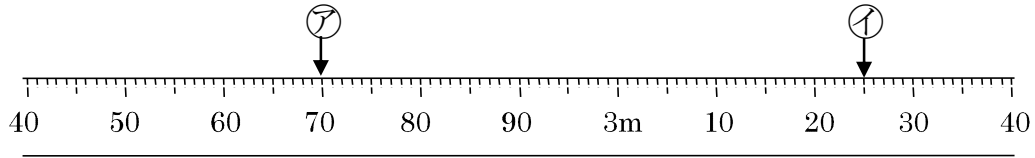
- ① さわこさんの家からけんじさんの家までの道のりは何 m ですか。



- ② さわこさんの家からけんじさんの家までのきよりは何 m ですか。

7 下のまきじゃくで、アイのめもりをよみましょう。

DE



ア _____ イ _____

8 () にあてはまる数 を答えましょう。

DE

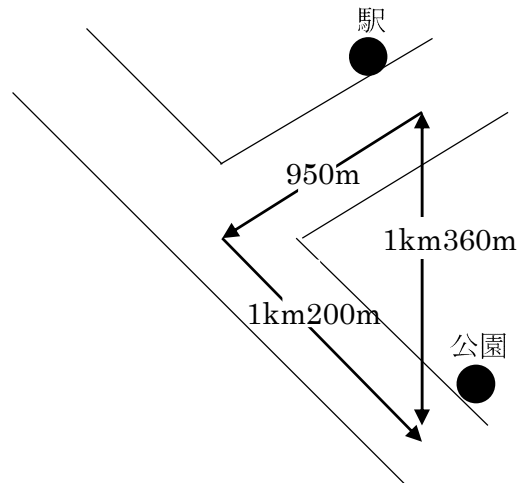
① $5700\text{m} = () \text{ km } () \text{ m}$

② $3\text{km}100\text{m} = () \text{ m}$

9 右の地図を見て、問題に答えましょう。

DE

① 駅から公園までの道のり
何 km 何 m ですか。



② 駅から公園までの道のりと駅から公園までのきよりのちがいは
何 m ですか。
