

1  
ABCDE

つぎのせつめいを よんで もんだいに こたえましょう。

**5までの かずと すうじ**

hakken.の法則💡


★ 5までの かずと すうじ

●	●●	●●●	●●●●	●●●●●
1	2	3	4	5
いち	に	さん	し	ご

れいだい かずを すうじで かきましよう。



こたえ   2  



こたえ   4  




こたえ   5  

2  
ABCDE

かずを すうじで かきましよう。



**2**



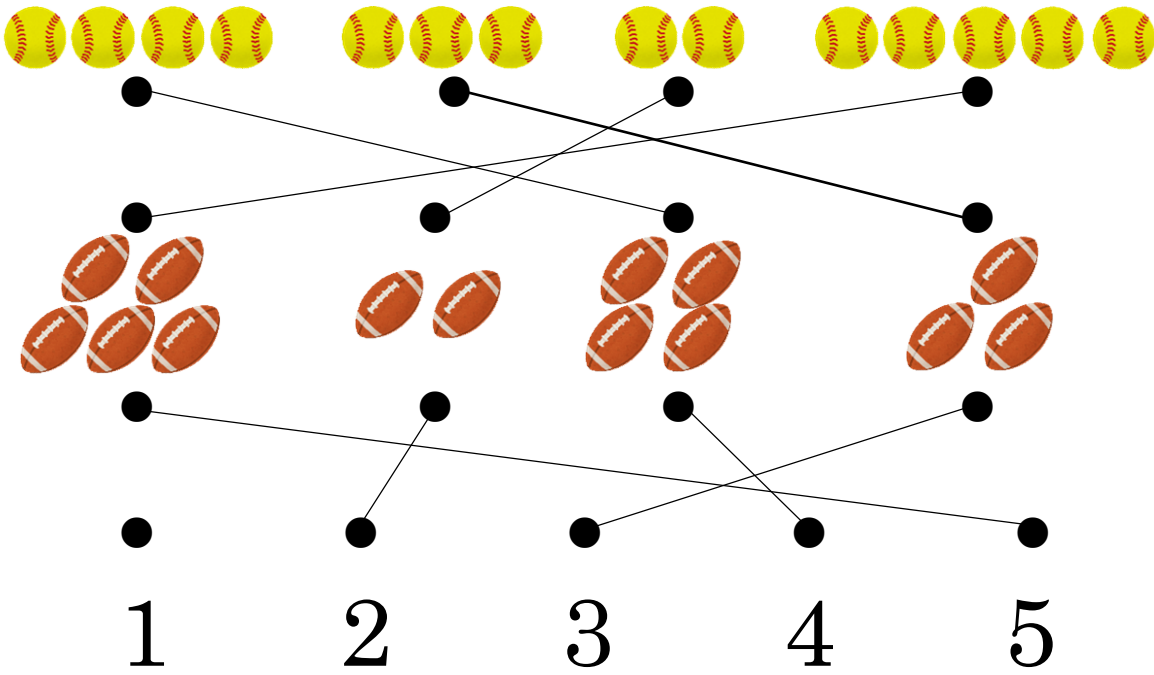
**4**



**5**

3 おなじ かずの ものどうしを、—で むすびましょう。

CDE



4 5は いくつと いくつですか。( )に すうじを かきましょう

ABCDE

① 2と ( **3** )

③ 1と ( **4** )

② 4と ( **1** )

④ 3と ( **2** )






5  
ABCDE

つぎのせつめいを よんで もんだいに こたえましょう。

10 までの かずと すうじ

hakken. の 法則 

★ 10 までの かずと すうじ

				
6	7	8	9	10
ろく	しち	はち	く	じゅう


れいだい かずを すうじで かきましよう。

①



こたえ 5

②



こたえ 9

③



こたえ 7

6  
ABCDE


かずを すうじで かきましよう。

①



5

②



9

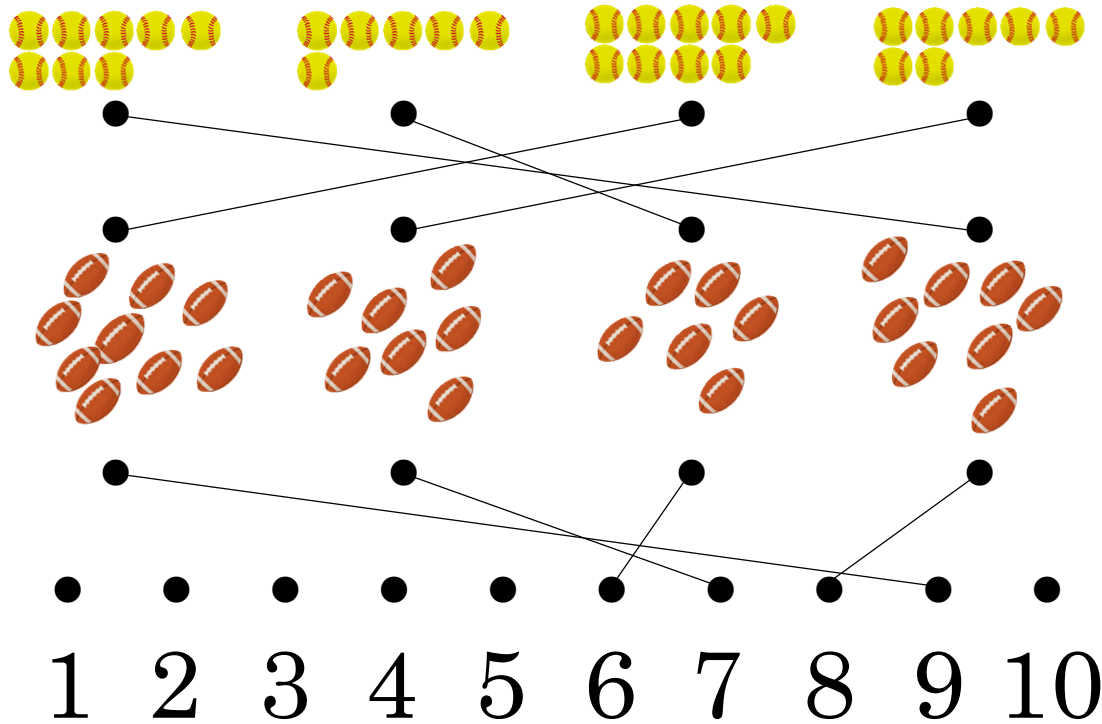
③



7

7 おなじ かずの ものどうしを、—で むすびましょう。

CDE



8 6は いくつと いくつですか。( )に すうじを かきましょう。

ABCDE

- ① 3と ( **3** )
- ② 4と ( **2** )
- ③ 5と ( **1** )
- ④ 2と ( **4** )
- ⑤ 1と ( **5** )

9 ( )に すうじを かきましょう。

DE

- ① 6は、( **3** )と 3
- ② 5は、4と ( **1** )
- ③ 6は、( **5** )と 1
- ④ 5は、( **4** )と 1
- ⑤ 6は、( **2** )と 4
- ⑥ 5は、3と ( **2** )
- ⑦ 6は、2と ( **4** )
- ⑧ 5は、2と ( **3** )
- ⑨ 6は、( **1** )と 5



13 ( ) に すうじを かきましょう。

DE

- |                       |                       |
|-----------------------|-----------------------|
| ① 8は、( <b>2</b> ) と 6 | ⑥ 8は、( <b>3</b> ) と 5 |
| ② 8は、4 と ( <b>4</b> ) | ⑦ 7は、4 と ( <b>3</b> ) |
| ③ 8は、1 と ( <b>7</b> ) | ⑧ 8は、( <b>5</b> ) と 3 |
| ④ 6は、( <b>4</b> ) と 2 | ⑨ 7は、5 と ( <b>2</b> ) |
| ⑤ 8は、( <b>6</b> ) と 2 | ⑩ 5は、3 と ( <b>2</b> ) |

14 9は いくつと いくつですか。( ) に すうじを かきましょう。

ABCDE

- |                    |                    |
|--------------------|--------------------|
| ① 4 と ( <b>5</b> ) | ⑤ 8 と ( <b>1</b> ) |
| ② 3 と ( <b>6</b> ) | ⑥ 5 と ( <b>4</b> ) |
| ③ 2 と ( <b>7</b> ) | ⑦ 7 と ( <b>2</b> ) |
| ④ 1 と ( <b>8</b> ) | ⑧ 6 と ( <b>3</b> ) |

15 ( ) に すうじを かきましょう。

DE

- |                       |                       |
|-----------------------|-----------------------|
| ① 8は、( <b>2</b> ) と 6 | ⑥ 9は、4 と ( <b>5</b> ) |
| ② 6は、3 と ( <b>3</b> ) | ⑦ 8は、4 と ( <b>4</b> ) |
| ③ 9は、( <b>4</b> ) と 5 | ⑧ 7は、( <b>3</b> ) と 4 |
| ④ 7は、2 と ( <b>5</b> ) | ⑨ 9は、2 と ( <b>7</b> ) |
| ⑤ 5は、3 と ( <b>2</b> ) | ⑩ 9は、( <b>3</b> ) と 6 |

16 ( ) に すうじを かきましょう。

DE

- |                       |                       |
|-----------------------|-----------------------|
| ① 6は、( <b>5</b> ) と 1 | ⑥ 7は、( <b>4</b> ) と 3 |
| ② 7は、5 と ( <b>2</b> ) | ⑦ 6は、( <b>2</b> ) と 4 |
| ③ 6は、( <b>4</b> ) と 2 | ⑧ 8は、2 と ( <b>6</b> ) |
| ④ 9は、7 と ( <b>2</b> ) | ⑨ 8は、3 と ( <b>5</b> ) |
| ⑤ 5は、( <b>4</b> ) と 1 | ⑩ 9は、( <b>6</b> ) と 3 |

17 10 は いくつと いくつですか。( ) に すうじを かきましょう。

ABCDE

- |                    |                    |
|--------------------|--------------------|
| ① 4 と ( <b>6</b> ) | ⑥ 6 と ( <b>4</b> ) |
| ② 7 と ( <b>3</b> ) | ⑦ 1 と ( <b>9</b> ) |
| ③ 8 と ( <b>2</b> ) | ⑧ 2 と ( <b>8</b> ) |
| ④ 9 と ( <b>1</b> ) | ⑨ 3 と ( <b>7</b> ) |
| ⑤ 5 と ( <b>5</b> ) |                    |

18 ( ) に すうじを かきましょう。

DE

- |                        |                        |
|------------------------|------------------------|
| ① 9は、2 と ( <b>7</b> )  | ⑥ 8は、1 と ( <b>7</b> )  |
| ② 7は、( <b>6</b> ) と 1  | ⑦ 9は、1 と ( <b>8</b> )  |
| ③ 10は、6 と ( <b>4</b> ) | ⑧ 6は、4 と ( <b>2</b> )  |
| ④ 5は、4 と ( <b>1</b> )  | ⑨ 10は、4 と ( <b>6</b> ) |
| ⑤ 6は、3 と ( <b>3</b> )  | ⑩ 9は、( <b>5</b> ) と 4  |

19 ( ) に すうじを かきましょう。

DE

- ① 10は、8と ( **2** )                      ⑥ 8は、( **2** ) と6  
 ② 8は、4と ( **4** )                      ⑦ 7は、3と ( **4** )  
 ③ 9は、( **4** ) と5                      ⑧ 10は、( **3** ) と7  
 ④ 7は、( **2** ) と5                      ⑨ 8は、( **6** ) と2  
 ⑤ 10は、2と ( **8** )                      ⑩ 5は、1と ( **4** )

20 ( ) に すうじを かきましょう。

DE

- ① 5は、2と ( **3** )                      ⑥ 8は、( **3** ) と5  
 ② 7は、( **5** ) と2                      ⑦ 9は、7と ( **2** )  
 ③ 9は、8と ( **1** )                      ⑧ 10は、9と ( **1** )  
 ④ 6は、2と ( **4** )                      ⑨ 5は、3と ( **2** )  
 ⑤ 9は、( **3** ) と6                      ⑩ 10は、2と ( **8** )

21 ( ) に すうじを かきましょう。

DE

- ① 10は、9と ( **1** )                      ⑥ 3は、( **2** ) と1  
 ② 7は、4と ( **3** )                      ⑦ 8は、7と ( **1** )  
 ③ 8は、( **5** ) と3                      ⑧ 10は、1と ( **9** )  
 ④ 7は、( **1** ) と6                      ⑨ 6は、5と ( **1** )  
 ⑤ 10は、( **7** ) と3                      ⑩ 9は、( **6** ) と3



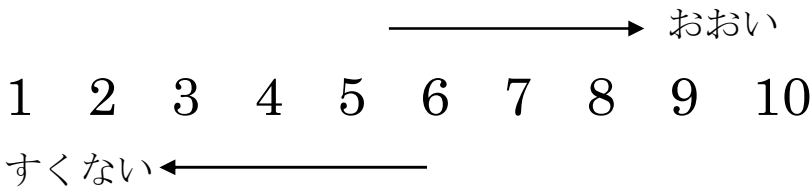
22  
ABCDE

つぎのせつめいを よんで もんだいに こたえましょう。

**おおい すくない**

hakken.の法則💡

★ おおい すくない…みぎに いくほど おおくなります。



れいだい どちらが おおいでしょうか。

(あ)  (い) **6**

(あ)を すうじで かくと 8。

8と6では、8のほうが おおいので ㊦ 答 ㊦

23  
ABCDE

どちらが おおいでしょうか。

(あ)  (い) **6**

(あ)を すうじで かくと 8。

8と6では、8のほうが おおい  
ので ㊦

**(あ)**

24  
ABCDE

つぎのせつめいを よんで もんだいに こたえましょう。

0と いう すうじ

hakken.の法則💡

★ 0と いう すうじ…<sup>れい</sup>なにも ない とき、すうじで 0と かきます。


れいだい なんこ はいって いますか。

①



こたえ 3こ

②



1こも はいって いないので 0こ  
こたえ 0こ

25  
ABCDE


なんこ はいって いますか。

①



3こ

②



1こも はいって いないので 0こ  
0こ

26  
BCDE

8と 7に ついて、こたえましょう。

① ○に いろを むりましょう。

8 ●●●●●●●●○○

7 ●●●●●●●○○○

② 8と 7では、おおきい かずは どちらですか。

8

27 おおきい ほうのすうじを かきましょう。

BCDE

①

4 と 7

②

6 と 5

③

9 と 8

**7**

**6**

**9**

28 □に あてはまる かずを、すうじで かきましょう。

BCDE

①

5 6 **7**

②

8 **9** 10

③

**7** 8 9

④

3 4 **5**

29 まるの かずを、すうじで かきましょう。

CDE

①

●●●●●●  
●●●●

②

□

③

●●●●

**8**

**0**


**4**

30 DE いちごを 1 こずつ たべていきます。のこりの かずを すうじで か  
きましよう。

① 3 こ あります。



② 1 こ たべます。のこり の かずは いくつ ですか。



2

③ また、1 こ たべます。のこり の かずは いくつ ですか。



1

④ また、1 こ たべます。のこり の かずは いくつ ですか。



0