


1-1 10までのかず


2 かずを すうじで かきましょう。

ABCDE

①



②




③



3 おなじ かずの ものどうしを、——で むすびましょう。

CDE



1

2

3

4

5

4 5は いくつと いくつですか。( )に すうじを かきましょう

ABCDE

① 2と ( )

③ 1と ( )

② 4と ( )

④ 3と ( )


6 かずを すうじで かきましょう。

ABCDE

①



②

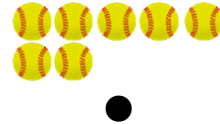
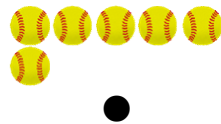


③



7 おなじ かずの ものどうしを、—で むすびましょう。

CDE



● ● ● ● ● ● ● ● ● ●  
 1 2 3 4 5 6 7 8 9 10

8 6は いくつと いくつですか。( )に すうじを かきましょう。

ABCDE

- ① 3と ( )
- ② 4と ( )
- ③ 5と ( )
- ④ 2と ( )
- ⑤ 1と ( )

9 ( )に すうじを かきましょう。

DE

- ① 6は、( )と 3
- ② 5は、4と ( )
- ③ 6は、( )と 1
- ④ 5は、( )と 1
- ⑤ 6は、( )と 4
- ⑥ 5は、3と ( )
- ⑦ 6は、2と ( )
- ⑧ 5は、2と ( )
- ⑨ 6は、( )と 5



13 ( ) に すうじを かきましょう。

DE

- |              |              |
|--------------|--------------|
| ① 8は、( ) と 6 | ⑥ 8は、( ) と 5 |
| ② 8は、4 と ( ) | ⑦ 7は、4 と ( ) |
| ③ 8は、1 と ( ) | ⑧ 8は、( ) と 3 |
| ④ 6は、( ) と 2 | ⑨ 7は、5 と ( ) |
| ⑤ 8は、( ) と 2 | ⑩ 5は、3 と ( ) |

14 9は いくつと いくつですか。( ) に すうじを かきましょう。

ABCDE

- |           |           |
|-----------|-----------|
| ① 4 と ( ) | ⑤ 8 と ( ) |
| ② 3 と ( ) | ⑥ 5 と ( ) |
| ③ 2 と ( ) | ⑦ 7 と ( ) |
| ④ 1 と ( ) | ⑧ 6 と ( ) |

15 ( ) に すうじを かきましょう。

DE

- |              |              |
|--------------|--------------|
| ① 8は、( ) と 6 | ⑥ 9は、4 と ( ) |
| ② 6は、3 と ( ) | ⑦ 8は、4 と ( ) |
| ③ 9は、( ) と 5 | ⑧ 7は、( ) と 4 |
| ④ 7は、2 と ( ) | ⑨ 9は、2 と ( ) |
| ⑤ 5は、3 と ( ) | ⑩ 9は、( ) と 6 |

16 ( ) に すうじを かきましょう。

DE

- |              |              |
|--------------|--------------|
| ① 6は、( ) と 1 | ⑥ 7は、( ) と 3 |
| ② 7は、5 と ( ) | ⑦ 6は、( ) と 4 |
| ③ 6は、( ) と 2 | ⑧ 8は、2 と ( ) |
| ④ 9は、7 と ( ) | ⑨ 8は、3 と ( ) |
| ⑤ 5は、( ) と 1 | ⑩ 9は、( ) と 3 |

17 10 は いくつと いくつですか。( ) に すうじを かきましょう。

ABCDE

- |           |           |
|-----------|-----------|
| ① 4 と ( ) | ⑥ 6 と ( ) |
| ② 7 と ( ) | ⑦ 1 と ( ) |
| ③ 8 と ( ) | ⑧ 2 と ( ) |
| ④ 9 と ( ) | ⑨ 3 と ( ) |
| ⑤ 5 と ( ) |           |

18 ( ) に すうじを かきましょう。

DE

- |               |               |
|---------------|---------------|
| ① 9は、2 と ( )  | ⑥ 8は、1 と ( )  |
| ② 7は、( ) と 1  | ⑦ 9は、1 と ( )  |
| ③ 10は、6 と ( ) | ⑧ 6は、4 と ( )  |
| ④ 5は、4 と ( )  | ⑨ 10は、4 と ( ) |
| ⑤ 6は、3 と ( )  | ⑩ 9は、( ) と 4  |

19 ( ) に すうじを かきましょう。

DE

- |             |             |
|-------------|-------------|
| ① 10は、8と( ) | ⑥ 8は、( )と6  |
| ② 8は、4と( )  | ⑦ 7は、3と( )  |
| ③ 9は、( )と5  | ⑧ 10は、( )と7 |
| ④ 7は、( )と5  | ⑨ 8は、( )と2  |
| ⑤ 10は、2と( ) | ⑩ 5は、1と( )  |

20 ( ) に すうじを かきましょう。

DE

- |            |             |
|------------|-------------|
| ① 5は、2と( ) | ⑥ 8は、( )と5  |
| ② 7は、( )と2 | ⑦ 9は、7と( )  |
| ③ 9は、8と( ) | ⑧ 10は、9と( ) |
| ④ 6は、2と( ) | ⑨ 5は、3と( )  |
| ⑤ 9は、( )と6 | ⑩ 10は、2と( ) |

21 ( ) に すうじを かきましょう。

DE


- |             |             |
|-------------|-------------|
| ① 10は、9と( ) | ⑥ 3は、( )と1  |
| ② 7は、4と( )  | ⑦ 8は、7と( )  |
| ③ 8は、( )と3  | ⑧ 10は、1と( ) |
| ④ 7は、( )と6  | ⑨ 6は、5と( )  |
| ⑤ 10は、( )と3 | ⑩ 9は、( )と3  |

23 どちらが おおいでしょうか。

ABCDE

(あ)

(い)



6

\_\_\_\_\_


25 なんこ はいって いますか。

ABCDE

①



②



\_\_\_\_\_

\_\_\_\_\_

26 8 と 7 に ついて、こたえましょう。

BCDE

① ○に いろを ぬりましょう。

8 ○○○○○○○○○

7 ○○○○○○○○

② 8 と 7 では、おおい かずは どちらですか。

\_\_\_\_\_

27 おおい ほうのすうじを かきましょう。

BCDE

①

②

③

4 と 7

6 と 5

9 と 8

\_\_\_\_\_

\_\_\_\_\_

\_\_\_\_\_

28 □に あてはまる かずを、すうじで かきましょう。

BCDE

①

5	6	
---	---	--

②

8		10
---	--	----

③

	8	9
--	---	---

④

3	4	
---	---	--

29 まるの かずを、すうじで かきましょう。

CDE

①

● ● ● ● ●
● ● ●

②

--

③

● ● ● ●
---------

\_\_\_\_\_




30 DE いちごを 1 こずつ たべていきます。のこりの かずを すうじで か  
きましよう。

① 3 こ あります。



② 1 こ たべます。のこり の かずは いくつ ですか。



\_\_\_\_\_

③ また、1 こ たべます。のこり の かずは いくつ ですか。



\_\_\_\_\_

④ また、1 こ たべます。のこり の かずは いくつ ですか。



\_\_\_\_\_