

1
ABCDE

つぎのせつめいを よんで もんだいに こたえましょう。

5までの かずと すうじ

hakken.の法則💡

★ 5までの かずと すうじ

| | | | | |
|----|----|-----|------|-------|
| ● | ●● | ●●● | ●●●● | ●●●●● |
| 1 | 2 | 3 | 4 | 5 |
| いち | に | さん | し | ご |

れいだい かずを すうじで かきましよう。



こたえ 2

こたえ 4

こたえ 5

2
ABCDE

かずを すうじで かきましよう。



3 おなじ かずの ものどうしを、——で むすびましょう。

CDE



●

●

●

●

●

1

2

3

4

5

4 5は いくつと いくつですか。()に すうじを かきましょう

ABCDE

① 2と ()

③ 1と ()

② 4と ()

④ 3と ()






5
ABCDE

つぎのせつめいを よんで もんだいに こたえましょう。

10 までの かずと すうじ

hakken. の 法則 

★ 10 までの かずと すうじ

| | | | | |
|---|---|---|--|---|
|  |  |  |  |  |
| 6 | 7 | 8 | 9 | 10 |
| ろく | しち | はち | く | じゅう |


れいだい かずを すうじで かきましよう。

①



こたえ 5

②



こたえ 9

③



こたえ 7


6
ABCDE

かずを すうじで かきましよう。

①



②



③



13 () に すうじを かきましょう。

DE

- | | |
|--------------|--------------|
| ① 8は、() と 6 | ⑥ 8は、() と 5 |
| ② 8は、4 と () | ⑦ 7は、4 と () |
| ③ 8は、1 と () | ⑧ 8は、() と 3 |
| ④ 6は、() と 2 | ⑨ 7は、5 と () |
| ⑤ 8は、() と 2 | ⑩ 5は、3 と () |

14 9は いくつと いくつですか。() に すうじを かきましょう。

ABCDE

- | | |
|-----------|-----------|
| ① 4 と () | ⑤ 8 と () |
| ② 3 と () | ⑥ 5 と () |
| ③ 2 と () | ⑦ 7 と () |
| ④ 1 と () | ⑧ 6 と () |

15 () に すうじを かきましょう。

DE

- | | |
|--------------|--------------|
| ① 8は、() と 6 | ⑥ 9は、4 と () |
| ② 6は、3 と () | ⑦ 8は、4 と () |
| ③ 9は、() と 5 | ⑧ 7は、() と 4 |
| ④ 7は、2 と () | ⑨ 9は、2 と () |
| ⑤ 5は、3 と () | ⑩ 9は、() と 6 |

16 () に すうじを かきましょう。

DE

- | | |
|--------------|--------------|
| ① 6は、() と 1 | ⑥ 7は、() と 3 |
| ② 7は、5 と () | ⑦ 6は、() と 4 |
| ③ 6は、() と 2 | ⑧ 8は、2 と () |
| ④ 9は、7 と () | ⑨ 8は、3 と () |
| ⑤ 5は、() と 1 | ⑩ 9は、() と 3 |

17 10 は いくつと いくつですか。() に すうじを かきましょう。

ABCDE

- | | |
|-----------|-----------|
| ① 4 と () | ⑥ 6 と () |
| ② 7 と () | ⑦ 1 と () |
| ③ 8 と () | ⑧ 2 と () |
| ④ 9 と () | ⑨ 3 と () |
| ⑤ 5 と () | |

18 () に すうじを かきましょう。

DE

- | | |
|---------------|---------------|
| ① 9は、2 と () | ⑥ 8は、1 と () |
| ② 7は、() と 1 | ⑦ 9は、1 と () |
| ③ 10は、6 と () | ⑧ 6は、4 と () |
| ④ 5は、4 と () | ⑨ 10は、4 と () |
| ⑤ 6は、3 と () | ⑩ 9は、() と 4 |

19 () に すうじを かきましょう。

DE

- | | |
|--------------|-------------|
| ① 10は、8と () | ⑥ 8は、()と6 |
| ② 8は、4と () | ⑦ 7は、3と () |
| ③ 9は、()と5 | ⑧ 10は、()と7 |
| ④ 7は、()と5 | ⑨ 8は、()と2 |
| ⑤ 10は、2と () | ⑩ 5は、1と () |

20 () に すうじを かきましょう。

DE

- | | |
|-------------|--------------|
| ① 5は、2と () | ⑥ 8は、()と5 |
| ② 7は、()と2 | ⑦ 9は、7と () |
| ③ 9は、8と () | ⑧ 10は、9と () |
| ④ 6は、2と () | ⑨ 5は、3と () |
| ⑤ 9は、()と6 | ⑩ 10は、2と () |

21 () に すうじを かきましょう。

DE

- | | |
|--------------|--------------|
| ① 10は、9と () | ⑥ 3は、()と1 |
| ② 7は、4と () | ⑦ 8は、7と () |
| ③ 8は、()と3 | ⑧ 10は、1と () |
| ④ 7は、()と6 | ⑨ 6は、5と () |
| ⑤ 10は、()と3 | ⑩ 9は、()と3 |

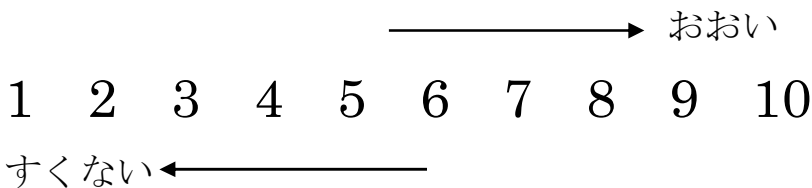
22 つぎのせつめいを よんで もんだいに こたえましょう。

ABCDE

おいしい すくない

hakken.の法則💡

★ おいしい すくない…みぎに いくほど おおくなります。



れいだい どちらが おおいでしょうか。

(あ)



(い)

6


(あ)を すうじで かくと 8。

8と6では、8のほうが おおいので ㊦ 答 ㊦

23 どちらが おおいでしょうか。

ABCDE

(あ)



(い)

6

24 つぎのせつめいを よんで もんだいに こたえましょう。

ABCDE

0と いう すうじ

hakken.の法則💡

★ 0と いう すうじ…^{れい}なにも ない とき、すうじで 0と かきます。


れいだい なんこ はいって いますか。

①



こたえ 3こ

②



1こも はいって いないので 0こ

こたえ 0こ


25 なんこ はいって いますか。

ABCDE

①



②



26 8 と 7 に ついて、こたえましょう。

BCDE

① ○に いろを ぬりましょう。

8 ○○○○○○○○○○○

7 ○○○○○○○○○○○

② 8 と 7 では、おおきい かずは どちらですか。

27 おおきい ほうのすうじを かきましょう。

BCDE

①

②

③

4 と 7

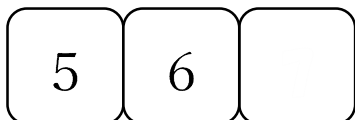
6 と 5

9 と 8

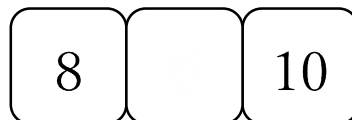
28 □に あてはまる かずを、すうじで かきましょう。

BCDE

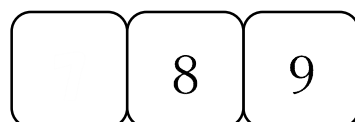
①




②



③




④



29 まるの かずを、すうじで かきましょう。

CDE


①



②



③



30 いちごを 1 こずつ たべていきます。のこりの かずを すうじで かきましょう。

DE

① 3 こ あります。



② 1 こ たべます。のこり の かずは いくつ ですか。



③ また、1 こ たべます。のこり の かずは いくつ ですか。



④ また、1 こ たべます。のこり の かずは いくつ ですか。