


2-16 分数

2

ABCDE

いろ  
色をぬったところは何分の一ですか。



\_\_\_\_\_

\_\_\_\_\_

4

ABCDE

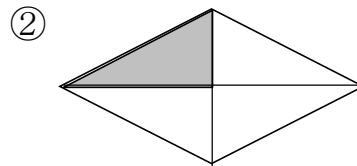
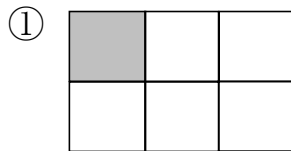
8cm の  $\frac{1}{2}$  は何 cm ですか。

\_\_\_\_\_

5

BCDE

いろ  
色をぬったところは何分の一ですか。



\_\_\_\_\_

\_\_\_\_\_

6

CDE

12cm のリボンがあります。2つに分けると何 cm になりますか。

また、それは 12cm の何分の一ですか。

\_\_\_\_\_


8

ABCDE

まこさんとゆきさんは、右のような はこに  
 入ったドーナツを<sup>か</sup>買いました。

2人のドーナツの<sup>すう</sup>こ数をくらべます。

- ① まこさんの ドーナツの こ数は、  
 ゆきさんの こ数の 何ばいですか。



- ② ゆきさんの ドーナツの こ数は、まこさんの こ数の 何分の  
 一ですか。

9

CDE

ユキさんは6まい、ケンさんは24まいのカードを<sup>も</sup>持っています。

2人のカードのまい<sup>すう</sup>数をくらべます。

- ① ケンさんのカードのまい数は、ユキさんのまい数の何ばいですか。

- ② ユキさんのカードのまい数は、ケンさんのまい数の何分の一です  
 か。