

## 2-12 かけ算②

**2** かけ算をしましょう。

ABCDE

①  $6 \times 1$

⑥  $6 \times 6$

②  $6 \times 2$

⑦  $6 \times 7$

③  $6 \times 3$

⑧  $6 \times 8$

④  $6 \times 4$

⑨  $6 \times 9$

⑤  $6 \times 5$

**3** かけ算をしましょう。

ABCDE

①  $6 \times 8$

⑥  $6 \times 7$

②  $6 \times 2$

⑦  $6 \times 4$

③  $6 \times 5$

⑧  $6 \times 1$

④  $6 \times 3$

⑨  $6 \times 9$

⑤  $6 \times 6$

**5** かけ算をしましょう。

ABCDE

①  $7 \times 1$

⑥  $7 \times 6$

②  $7 \times 2$

⑦  $7 \times 7$

③  $7 \times 3$

⑧  $7 \times 8$

④  $7 \times 4$

⑨  $7 \times 9$

⑤  $7 \times 5$

6 かけ算をしましょう。

ABCDE

①  $7 \times 8$

⑥  $7 \times 6$

②  $7 \times 2$

⑦  $7 \times 3$

③  $7 \times 5$

⑧  $7 \times 7$

④  $7 \times 1$

⑨  $7 \times 4$

⑤  $7 \times 9$

7 かけ算をしましょう。

ABCDE

①  $7 \times 4$

⑩  $6 \times 1$

②  $6 \times 8$

⑪  $7 \times 8$

③  $7 \times 1$

⑫  $6 \times 7$

④  $6 \times 2$

⑬  $6 \times 5$

⑤  $7 \times 3$

⑭  $7 \times 6$

⑥  $7 \times 2$

⑮  $6 \times 4$

⑦  $6 \times 3$

⑯  $7 \times 7$

⑧  $7 \times 5$

⑰  $6 \times 9$

⑨  $6 \times 6$

⑱  $7 \times 9$

9 かけ算をしましょう。

ABCDE

①  $8 \times 1$

⑥  $8 \times 6$

②  $8 \times 2$

⑦  $8 \times 7$

③  $8 \times 3$

⑧  $8 \times 8$

④  $8 \times 4$

⑨  $8 \times 9$

⑤  $8 \times 5$

10 かけ算をしましょう。

ABCDE

①  $8 \times 3$

⑥  $8 \times 6$

②  $8 \times 8$

⑦  $8 \times 4$

③  $8 \times 9$

⑧  $8 \times 7$

④  $8 \times 5$

⑨  $8 \times 1$

⑤  $8 \times 2$

11 かけ算をしましょう。

ABCDE

①  $8 \times 3$

⑩  $8 \times 6$

②  $6 \times 5$

⑪  $7 \times 4$

③  $8 \times 8$

⑫  $6 \times 1$

④  $7 \times 1$

⑬  $8 \times 1$

⑤  $8 \times 5$

⑭  $7 \times 8$

⑥  $7 \times 6$

⑮  $6 \times 3$

⑦  $8 \times 2$

⑯  $8 \times 4$

⑧  $6 \times 6$

⑰  $6 \times 9$

⑨  $8 \times 9$

⑱  $8 \times 7$

**12** かけ算をしましょう。

ABCDE

①  $8 \times 3$

⑩  $8 \times 6$

②  $7 \times 9$

⑪  $6 \times 7$

③  $8 \times 8$

⑫  $8 \times 4$

④  $6 \times 8$

⑬  $7 \times 3$

⑤  $7 \times 2$

⑭  $8 \times 7$

⑥  $6 \times 2$

⑮  $6 \times 4$

⑦  $8 \times 5$

⑯  $8 \times 1$

⑧  $7 \times 5$

⑰  $7 \times 7$

⑨  $8 \times 9$

⑱  $8 \times 2$

**14** かけ算をしましょう。

ABCDE

①  $9 \times 1$

⑥  $9 \times 6$

②  $9 \times 2$

⑦  $9 \times 7$

③  $9 \times 3$

⑧  $9 \times 8$

④  $9 \times 4$

⑨  $9 \times 9$

⑤  $9 \times 5$

15 かけ算をしましょう。

ABCDE

①  $9 \times 9$

⑥  $9 \times 6$

②  $9 \times 7$

⑦  $9 \times 1$

③  $9 \times 2$

⑧  $9 \times 4$

④  $9 \times 5$

⑨  $9 \times 8$

⑤  $9 \times 3$

16 かけ算をしましょう。

ABCDE

①  $9 \times 9$

⑩  $8 \times 6$

②  $8 \times 3$

⑪  $9 \times 6$

③  $9 \times 7$

⑫  $6 \times 6$

④  $6 \times 3$

⑬  $8 \times 4$

⑤  $9 \times 5$

⑭  $9 \times 4$

⑥  $4 \times 8$

⑮  $3 \times 7$

⑦  $9 \times 2$

⑯  $9 \times 8$

⑧  $8 \times 8$

⑰  $6 \times 9$

⑨  $9 \times 3$

⑱  $9 \times 1$

17 かけ算をしましょう。

ABCDE

①  $7 \times 8$

⑩  $7 \times 6$

②  $9 \times 9$

⑪  $9 \times 6$

③  $7 \times 2$

⑫  $7 \times 3$

④  $4 \times 9$

⑬  $5 \times 7$

⑤  $9 \times 7$

⑭  $9 \times 1$

⑥  $7 \times 1$

⑮  $7 \times 4$

⑦  $8 \times 9$

⑯  $8 \times 7$

⑧  $3 \times 8$

⑰  $7 \times 9$

⑨  $9 \times 2$

⑱  $9 \times 4$

18 かけ算をしましょう。

ABCDE

①  $6 \times 8$

⑩  $6 \times 4$

②  $2 \times 5$

⑪  $4 \times 7$

③  $9 \times 3$

⑫  $8 \times 2$

④  $7 \times 5$

⑬  $6 \times 1$

⑤  $6 \times 2$

⑭  $8 \times 1$

⑥  $9 \times 5$

⑮  $9 \times 8$

⑦  $5 \times 5$

⑯  $2 \times 8$

⑧  $8 \times 5$

⑰  $6 \times 7$

⑨  $6 \times 5$

⑱  $7 \times 7$

20 かけ算をしましょう。

ABCDE

①  $1 \times 7$

④  $1 \times 5$

②  $1 \times 2$

⑤  $1 \times 9$

③  $1 \times 8$

⑥  $1 \times 4$



21 かけ算をしましょう。

ABCDE

①  $9 \times 5$

⑩  $8 \times 7$

②  $8 \times 9$

⑪  $9 \times 8$

③  $6 \times 8$

⑫  $7 \times 6$

④  $7 \times 8$

⑬  $6 \times 7$

⑤  $9 \times 2$

⑭  $8 \times 6$

⑥  $6 \times 2$

⑮  $6 \times 4$

⑦  $8 \times 3$

⑯  $1 \times 9$

⑧  $7 \times 2$

⑰  $6 \times 1$

⑨  $6 \times 5$

⑱  $7 \times 3$

22 かけ算をしましょう。

ABCDE

①  $7 \times 5$

⑩  $7 \times 7$

②  $8 \times 8$

⑪  $8 \times 4$

③  $9 \times 7$

⑫  $9 \times 4$

④  $6 \times 3$

⑬  $6 \times 9$

⑤  $1 \times 7$

⑭  $7 \times 4$

⑥  $6 \times 6$

⑮  $8 \times 2$

⑦  $9 \times 9$

⑯  $9 \times 6$

⑧  $7 \times 9$

⑰  $9 \times 3$

⑨  $8 \times 5$

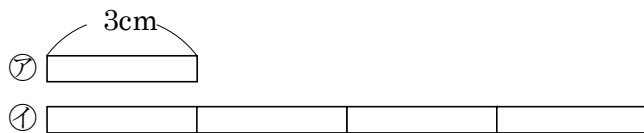
⑱  $1 \times 8$

24

ABCDE

①のリボンの長さは、②のリボンの長さの何ばいですか。

また何 cm ですか。




\_\_\_\_\_

\_\_\_\_\_

25 図を見て、答えましょう。

BCDE



① アのテープの2 ばいのテープを答えましょう。

\_\_\_\_\_

② アのテープの4 ばいのテープを答えましょう。

\_\_\_\_\_

27

BCDE

下のひょうの⑦～⑩にはいる数字をかきましょう。

	1	2	3	4	5	6	7	8	9
1	1	2	3	4	5	6	7	8	9
2	2	4	6	8	10	12	14	16	18
3	3	6	9	12	15	18	21	24	27
4	4	8	12	16	20	①	28	32	36
5	5	10	15	20	25	30	35	40	45
6	6	12	18	24	30	36	42	48	54
7	7	14	21	28	35	42	②	56	③
8	8	16	24	32	40	48	56	64	72
9	9	18	④	36	45	54	63	72	81

① \_\_\_\_\_      ② \_\_\_\_\_      ③ \_\_\_\_\_      ④ \_\_\_\_\_

29 ( ) にあてはまる数字をかきましょう。

ABCDE

①  $3 \times 6 = 3 \times ( ) + ( )$

②  $6 \times 8 = ( ) \times ( ) + 6$

③  $7 \times 9 = 9 \times ( )$

31 計算をしましょう。

DE


①  $3 \times 11$

②  $11 \times 6$

33 おはじきの数を、くふうして答えましょう。

ABCDE

(しき)




\_\_\_\_\_

34 おはじきの数を、くふうして答えましょう。

BCDE

(しき)



\_\_\_\_\_