

2-11 かけ算①

1  
ABCDE

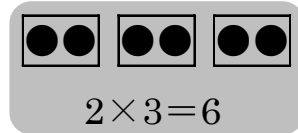
つぎの せつめい 説明を よ 読んで もんだい 問題に こた 答えましょう。

**かけ算**

**hakken.**の法則💡

★ かけ算・・・ $2 \times 3 = 6$ 、 $5 \times 2 = 10$  のような計算をかけ算といいます。


2 この3つ分が6こになることを、しきで書くと  
 $2 \times 3 = 6$  となり、「2かける3は6」とよみます。



れいだい 5このおはじきが2くみあります。

かけ算のしきを書きましょう。

$5 \times 2 = 10$



答えは、 $5 + 5 = 10$  でもとめる  
ことができます。


答  $5 \times 2 = 10$

2  
ABCDE

5このおはじきが2くみあります。

かけ算のしきを書きましょう。

$5 \times 2 = 10$



答えは、 $5 + 5 = 10$  でもとめる

ことができます。

**$5 \times 2 = 10$**

3  
ABCDE

つぎの せつめい 説明を よ 読んで もんだい 問題に こた 答えましょう。

**かけ算とばい**

**hakken.**の法則💡

★ かけ算とばい

れいだい 5cm の2ばい、3ばいの長さは何cmですか。

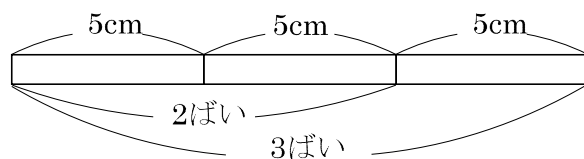
5cm の2つ分を5cm の2ばい といいます。

5cm の3つ分を5cm の3ばい といいます。

したがって

答 2ばい 10cm

3ばい 15cm



4 5cm の 2 ばい、3 ばいの長さは何 cm ですか。

ABCDE

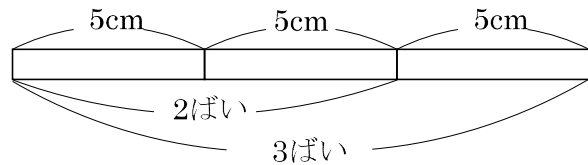
5cm の 2 つ分を

5cm の 2 ばい といいます。

5cm の 3 つ分を 5cm の 3 ばい といいます。

2 ばい 10cm


3 ばい 15cm



5 かけ算のしきに書きましょう。


BCDE

①



$$\underline{3 \times 2 = 6}$$

②



$$\underline{2 \times 4 = 8}$$

6 つぎのかけ算をたし算でもとめましょう。

BCDE

①  $8 \times 5 = 8 + 8 + 8 + 8 + 8 = 40$

②  $7 \times 6 = 7 + 7 + 7 + 7 + 7 + 7 = 42$

7 6cm のリボンがあります。このリボンの 2 ばいの長さは何 cm ですか。

BCDE

(しき)  $6 \times 2 = 12(\text{cm})$

12cm

8

ABCDE

つぎの せつめい 説明を よ 読んで もんだい 問題に こた 答えましょう。

## 5のだんの九九

hakken.の法則 

### ★ 5のだんの九九

ご いち が ご  
 $5 \times 1 = 5$

ご に じゅう  
 $5 \times 2 = 10$

ご さん じゅうご  
 $5 \times 3 = 15$

ご し にじゅう  
 $5 \times 4 = 20$

ご ご にじゅうご  
 $5 \times 5 = 25$

ご ろく さんじゅう  
 $5 \times 6 = 30$

ご しち さんじゅうご  
 $5 \times 7 = 35$

ご はち しじゅう  
 $5 \times 8 = 40$

ご く しじゅうご  
 $5 \times 9 = 45$

$5 \times 2, 5 \times 3 \dots$ の<sup>こた</sup>答えを

ごいち ご ごに じゅう  
「ご一が五」「ご二 じゅう」と

いっておぼえる <sup>かた</sup>いい方を

5のだんの九九といいます。

※ 5のだんの九九では、

<sup>こた</sup>答えは5ずつふえていきます。

5のだんの九九を おぼえてから

もんだいを ときましょう。

9 かけ算をしましょう。

ABCDE

①  $5 \times 1 = 5$

⑥  $5 \times 6 = 30$

②  $5 \times 2 = 10$

⑦  $5 \times 7 = 35$

③  $5 \times 3 = 15$

⑧  $5 \times 8 = 40$

④  $5 \times 4 = 20$

⑨  $5 \times 9 = 45$

⑤  $5 \times 5 = 25$

10 かけ算をしましょう。

ABCDE

①  $5 \times 5 = 25$

⑥  $5 \times 6 = 30$

②  $5 \times 2 = 10$

⑦  $5 \times 1 = 5$

③  $5 \times 8 = 40$

⑧  $5 \times 4 = 20$

④  $5 \times 3 = 15$

⑨  $5 \times 7 = 35$

⑤  $5 \times 9 = 45$

11

ABCDE

つぎの せつめい 説明を よ 読んで もんだい 問題に こた 答えましょう。

## 2のだんの九九

hakken.の法則 

### ★ 2のだんの九九

に いちがに  
 $2 \times 1 = 2$

に にかし  
 $2 \times 2 = 4$

に さんがろく  
 $2 \times 3 = 6$

に しはち  
 $2 \times 4 = 8$

に ごじゅう  
 $2 \times 5 = 10$

に ろくじゅうに  
 $2 \times 6 = 12$

に しちじゅうし  
 $2 \times 7 = 14$

に はちじゅうろく  
 $2 \times 8 = 16$

に くじゅうはち  
 $2 \times 9 = 18$

2のだんの九九では

こた 答えは2ずつふえていきます。

2のだんの九九を おぼえてから  
もんだいを ときましょう。

12 かけ算をしましょう。

ABCDE

①  $2 \times 1 = 2$

⑥  $2 \times 6 = 12$

②  $2 \times 2 = 4$

⑦  $2 \times 7 = 14$

③  $2 \times 3 = 6$

⑧  $2 \times 8 = 16$

④  $2 \times 4 = 8$

⑨  $2 \times 9 = 18$

⑤  $2 \times 5 = 10$

13 かけ算をしましょう。

ABCDE

①  $2 \times 5 = 10$

⑥  $2 \times 6 = 12$

②  $2 \times 2 = 4$

⑦  $2 \times 3 = 6$

③  $2 \times 8 = 16$

⑧  $2 \times 7 = 14$

④  $2 \times 1 = 2$

⑨  $2 \times 4 = 8$

⑤  $2 \times 9 = 18$

14 かけ算をしましょう。

ABCDE

①  $5 \times 6 = 30$

⑩  $2 \times 6 = 12$

②  $2 \times 2 = 4$

⑪  $5 \times 2 = 10$

③  $5 \times 3 = 15$

⑫  $5 \times 4 = 20$

④  $2 \times 1 = 2$

⑬  $2 \times 4 = 8$

⑤  $5 \times 5 = 25$

⑭  $2 \times 5 = 10$

⑥  $2 \times 3 = 6$

⑮  $5 \times 1 = 5$

⑦  $5 \times 8 = 40$

⑯  $2 \times 7 = 14$

⑧  $2 \times 9 = 18$

⑰  $5 \times 7 = 35$

⑨  $5 \times 9 = 45$

⑱  $2 \times 8 = 16$

15

ABCDE

つぎの せつめい 説明を よ 読んで もんだい 問題に こた 答えましょう。

## 3のだんの九九

hakken.の法則 ★ 3のだんの九九

さん いち が さん  
 $3 \times 1 = 3$

さん に が ろく  
 $3 \times 2 = 6$

さん さん く  
 $3 \times 3 = 9$

さん し じゅうに  
 $3 \times 4 = 12$

さん ご じゅうご  
 $3 \times 5 = 15$

さん ろく じゅうはち  
 $3 \times 6 = 18$

さん しち にじゅういち  
 $3 \times 7 = 21$

さん ぱ にじゅうし  
 $3 \times 8 = 24$

さん く にじゅうしち  
 $3 \times 9 = 27$

3のだんの九九では

こた 答えは3ずつ ふえていきます。

※ 3×5のしきで、

3をかけるかずられる数5を、かけるかず数といいます。

3のだんの九九を おぼえてから

もんだいを ときましょう。

16

かけ算をしましょう。

ABCDE

①  $3 \times 1 = 3$

⑥  $3 \times 6 = 18$

②  $3 \times 2 = 6$

⑦  $3 \times 7 = 21$

③  $3 \times 3 = 9$

⑧  $3 \times 8 = 24$

④  $3 \times 4 = 12$

⑨  $3 \times 9 = 27$

⑤  $3 \times 5 = 15$

17 かけ算をしましょう。

ABCDE

①  $3 \times 3 = 9$

⑥  $3 \times 6 = 18$

②  $3 \times 8 = 24$

⑦  $3 \times 1 = 3$

③  $3 \times 2 = 6$

⑧  $3 \times 4 = 12$

④  $3 \times 5 = 15$

⑨  $3 \times 7 = 21$

⑤  $3 \times 9 = 27$

18 かけ算をしましょう。

ABCDE

①  $2 \times 5 = 10$

⑩  $3 \times 9 = 27$

②  $5 \times 1 = 5$

⑪  $3 \times 6 = 18$

③  $3 \times 8 = 24$

⑫  $2 \times 3 = 6$

④  $2 \times 9 = 18$

⑬  $3 \times 4 = 12$

⑤  $3 \times 5 = 15$

⑭  $5 \times 7 = 35$

⑥  $3 \times 3 = 9$

⑮  $3 \times 1 = 3$

⑦  $5 \times 8 = 40$

⑯  $2 \times 7 = 14$

⑧  $3 \times 2 = 6$

⑰  $3 \times 7 = 21$

⑨  $5 \times 9 = 45$

⑱  $2 \times 8 = 16$



19 かけ算をしましょう。

ABCDE

①  $3 \times 8 = 24$

⑩  $3 \times 9 = 27$

②  $5 \times 3 = 15$

⑪  $5 \times 2 = 10$

③  $3 \times 3 = 9$

⑫  $3 \times 4 = 12$

④  $2 \times 1 = 2$

⑬  $2 \times 4 = 8$

⑤  $3 \times 5 = 15$

⑭  $3 \times 6 = 18$

⑥  $2 \times 2 = 4$

⑮  $5 \times 6 = 30$

⑦  $2 \times 6 = 12$

⑯  $3 \times 1 = 3$

⑧  $3 \times 2 = 6$

⑰  $5 \times 4 = 20$

⑨  $5 \times 5 = 25$

⑱  $3 \times 7 = 21$

20  
ABCDEつぎの せつめい 説明を よ 読んで もんだい 問題に こた 答えましょう。**4のだんの九九**hakken.の法則 ★ 4のだんの九九

し いち が し  
 $4 \times 1 = 4$

し に が はち  
 $4 \times 2 = 8$

し さん じゅうに  
 $4 \times 3 = 12$

し し じゅうろく  
 $4 \times 4 = 16$

し ご にじゅう  
 $4 \times 5 = 20$

し ろく にじゅうし  
 $4 \times 6 = 24$

し しち にじゅうはち  
 $4 \times 7 = 28$

し は さんじゅうに  
 $4 \times 8 = 32$

し く さんじゅうろく  
 $4 \times 9 = 36$

4のだんの九九では

こた 答えは4ずつ くく ふえていきます。4のだんの九九を くく おぼえてから  
もんだいを くく ときましょう。

21 かけ算をしましょう。

ABCDE

①  $4 \times 1 = 4$

⑥  $4 \times 6 = 24$

②  $4 \times 2 = 8$

⑦  $4 \times 7 = 28$

③  $4 \times 3 = 12$

⑧  $4 \times 8 = 32$

④  $4 \times 4 = 16$

⑨  $4 \times 9 = 36$

⑤  $4 \times 5 = 20$

22 かけ算をしましょう。

ABCDE

①  $4 \times 9 = 36$

⑥  $4 \times 6 = 24$

②  $4 \times 7 = 28$

⑦  $4 \times 1 = 4$

③  $4 \times 2 = 8$

⑧  $4 \times 4 = 16$

④  $4 \times 5 = 20$

⑨  $4 \times 8 = 32$

⑤  $4 \times 3 = 12$

23 かけ算をしましょう。

ABCDE

①  $5 \times 6 = 30$

⑩  $4 \times 9 = 36$

②  $4 \times 8 = 32$

⑪  $5 \times 2 = 10$

③  $4 \times 2 = 8$

⑫  $4 \times 1 = 4$

④  $5 \times 3 = 15$

⑬  $5 \times 4 = 20$

⑤  $4 \times 3 = 12$

⑭  $4 \times 6 = 24$

⑥  $4 \times 7 = 28$

⑮  $3 \times 1 = 3$

⑦  $2 \times 2 = 4$

⑯  $4 \times 4 = 16$

⑧  $4 \times 5 = 20$

⑰  $3 \times 8 = 24$

⑨  $3 \times 6 = 18$

⑱  $2 \times 6 = 12$

24 かけ算をしましょう。

ABCDE

①  $3 \times 3 = 9$

⑩  $4 \times 6 = 24$

②  $4 \times 1 = 4$

⑪  $3 \times 7 = 21$

③  $5 \times 5 = 25$

⑫  $4 \times 5 = 20$

④  $4 \times 7 = 28$

⑬  $4 \times 8 = 32$

⑤  $2 \times 3 = 6$

⑭  $3 \times 4 = 12$

⑥  $4 \times 9 = 36$

⑮  $4 \times 4 = 16$

⑦  $3 \times 5 = 15$

⑯  $2 \times 1 = 2$

⑧  $4 \times 2 = 8$

⑰  $4 \times 3 = 12$

⑨  $2 \times 5 = 10$

⑱  $2 \times 4 = 8$

25 かけ算をしましょう。

ABCDE

①  $2 \times 8 = 16$

⑩  $4 \times 6 = 24$

②  $4 \times 7 = 28$

⑪  $3 \times 2 = 6$

③  $5 \times 1 = 5$

⑫  $4 \times 4 = 16$

④  $4 \times 5 = 20$

⑬  $4 \times 8 = 32$

⑤  $4 \times 3 = 12$

⑭  $5 \times 7 = 35$

⑦  $5 \times 8 = 40$

⑮  $2 \times 7 = 14$

③  $4 \times 1 = 4$

⑯  $4 \times 2 = 8$

⑧  $2 \times 9 = 18$

⑰  $3 \times 8 = 24$

⑨  $5 \times 9 = 45$

⑱  $4 \times 9 = 36$