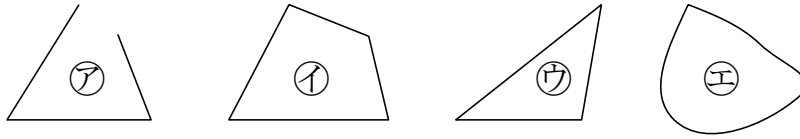


2-10 長方形と正方形

2 三角形はどれですか。答えましょう。

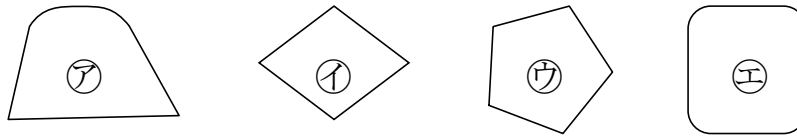
ABCDE



\_\_\_\_\_

4 四角形はどれですか。答えましょう。

ABCDE



\_\_\_\_\_

5 ( ) にあてはまることばを書きましょう。

BCDE



- ① 3本の直線で かこまれた 形を ( ) といいます。  
 4本の直線で かこまれた 形を ( ) といいます。
- ② 三角形・四角形で、直線のところを ( ) といいます。  
 かどの点を ( ) といいます。

6 点を直線でむすんで、三角形と四角形をかきましょう。

ABCDE

三角形

四角形



8 右の長方形について答えましょう。

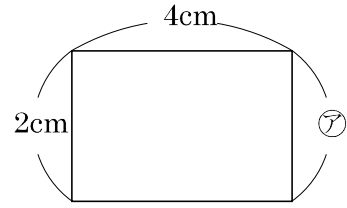
ABCDE

① 直角のかどはいくつありますか。

\_\_\_\_\_

② ㊦のへんの長さは何 cm ですか。

\_\_\_\_\_



10 右の正方形について答えましょう。

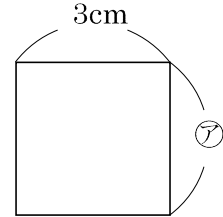
ABCDE

① ㊦のへんの長さは何 cm ですか。

\_\_\_\_\_

② まわりの長さは何 cm ですか。

\_\_\_\_\_

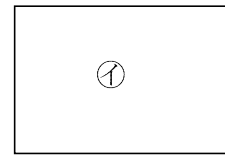
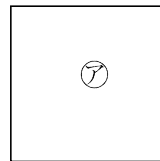


11 つぎのような四角形㊦㊧が、あります。

BCDE

① 何という四角形ですか。

㊦ \_\_\_\_\_ ㊧ \_\_\_\_\_



② ㊦㊧の四角形の4つのかどは、どうなっていますか。

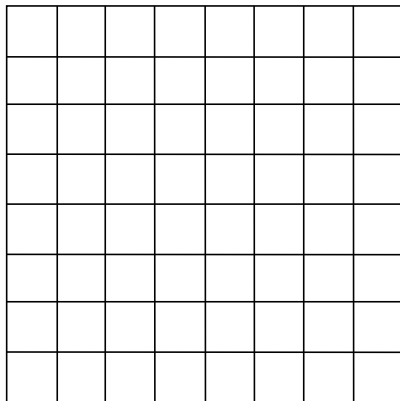
\_\_\_\_\_

12 つぎのような四角形をかきましょう。

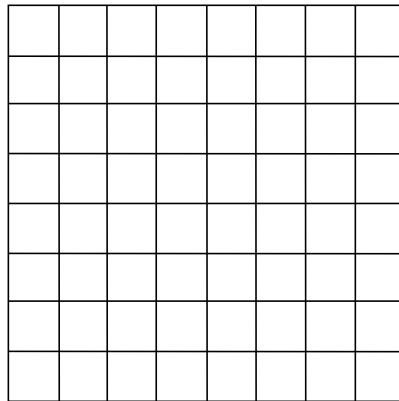
ABCDE

① たて 3cm、よこ 5cm の 長方形

(1 めもり 1cm)

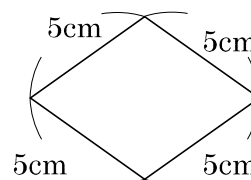


② 1つのへんの長さが 6cm の 正方形



13 みぎの四角形が、正方形ではないわけを  
 答えましょう。

CDE



\_\_\_\_\_

15 直角三角形は どれですか。

ABCDE



\_\_\_\_\_

16 4cm のへんと 6cm のへんあいだに、直角のかどがある直角三角形をか  
 きましょう。 (1めもり 1cm)

ABCDE

