

1

ABCDE

つぎの せつめい 説明を よ 読んで もんだい 問題に こた 答えましょう。

数の あらわし方

hakken. の法則 

★ 数の あらわし方


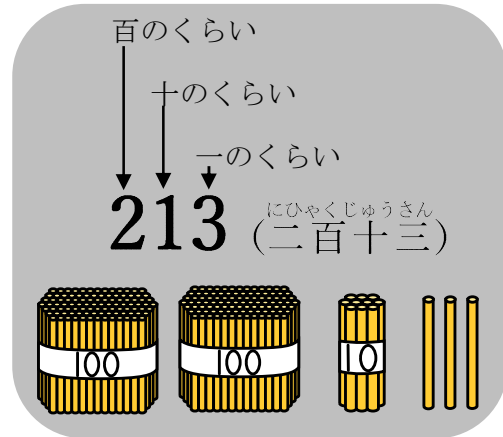
① なんびやく 何百

百を 2こ、3こ、4こ、… あつめた かず 数を 200、300、400、…と
か にひやく 書き、二百、さんびやく 三百、よんひやく 四百、…と よ 読みます。

② 百のくらい


3けたの 数の 左はしの
くらいを、百のくらいと
いいます。

れいだい すうじ 数字で 書きましょう。



100 が 1 ことで 100。100 と 23 で 123

答え 123




100 が 2 ことで 200。200 と 6 で 206


答え 206

2

ABCDE

すうじ 数字で 書きましょう。





3

ABCDE

つぎの せつめい 説明を よ 読んで もんだい 問題に こた 答えましょう。

数の しくみ

hakken. の法則 

★ 数の しくみ

れいだい1 () に あてはまる 数を 書きましょう。

① 100 を 4 こ、10 を 3 こ、1 を 5 こ あわせた 数は ()
です。 答え 435

② 670 は、100 を () こ、10 を () こ あわせた 数です。

答え 6、7

れいだい2 つぎの 文を しきに あらわしましょう。

231 は、200 と 30 と 1 を あわせた数 です。

答え $231=200+30+1$

4 1, () に あてはまる 数を 書きましょう。

ABCDE

① 100 を 4 こ、10 を 3 こ、1 を 5 こ あわせた 数は
() です。

② 670 は、100 を () こ、10 を () こ あわせた 数です。

2, つぎの 文を しきに あらわしましょう。

231 は、200 と 30 と 1 を あわせた数 です。

5

ABCDE

つぎの ^{せつめい}説明を ^よ読んで ^{もんだい}問題に ^{こた}答えましょう。

数の あらわし方と しくみ①

hakken.の法則 

★ 数の あらわし方と しくみ①

れいだい ^よ読み方を ^{かた}かん字で 書きましょう。

① 162

答え 百六十二

② 324

答え 三百二十四

数字で 書きましょう。

③ 百四十

答え 140

④ 六百三十一

答え 631

6

ABCDE

①、②の読み方を かん字で 書きましょう。③、④を数字で 書きましよう。

① 162

② 324

③ 百四十

④ 六百三十一

7

BCDE

①、②の読み方を かん字で 書きましょう。③、④を数字で 書きましよう。

① 540

② 703

③ 六百三

④ 五百十

8 ()に あてはまる 数を 書きましょう。

BCDE

- ① 100を 6こ、1を 5こ あわせた 数は ()です。
- ② 245は、100を ()こ、10を ()こ 1を ()こ
あわせた 数です。
- ③ 802は、100を ()こ、1を ()こ あわせた 数で
す。

9 つぎの 数を 書きましょう。

BCDE

百のくらいが 2、十のくらいが 8、一のくらいが 9の 数

10 つぎの 文を しきに あらわしましょう。

CDE

345は、300と 40と 5を あわせた 数です。

11 つぎの ^{せつめい}説明を ^よ読んで ^{もんだい}問題に ^{こた}答えましょう。

ABCDE

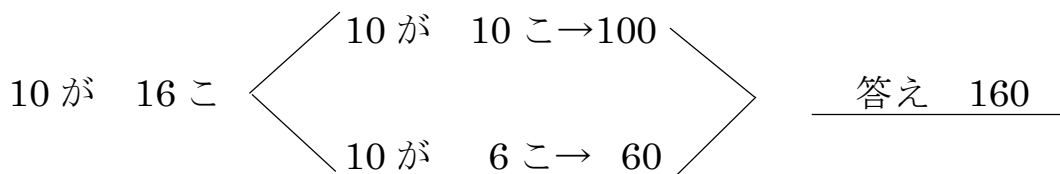
10が いくつ

hakken.の法則💡

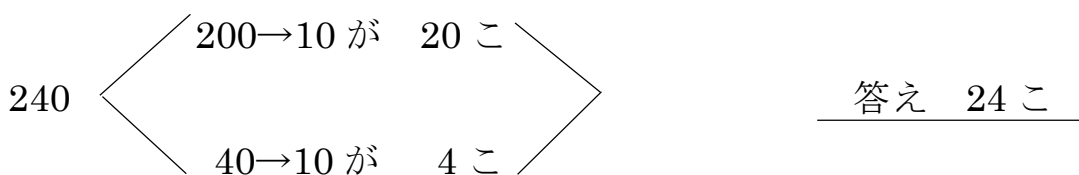
★ 10が いくつ

れいだい つぎの もんだいに 答えましょう。

- ① 10を 16こ あつめた 数は いくつですか。



- ② 240は、10を ^{なん}何こ あつめた 数ですか。



12 つぎの もんだいに 答えましょう。

ABCDE

① 10を 16こ あつめた 数は いくつですか。

② 240は、10を 何こ あつめた 数ですか。

13

ABCDE

つぎの ^{せつめい}説明を ^よ読んで ^{もんだい}問題に ^{こた}答えましょう。


数の線、千

hakken.の法則💡

★ 数の線、^{せん}千…百を 10こ あつめた ^{かず}数を 千と いいます。

千は 1000と ^か書きます。

れいだい 下の ^{せん}数の線を見て 答えましょう。



① アの めもりが あらわす 数は いくつですか。

990と 6めもりで 996 答え 996


② 1000より 7 小さい 数は いくつですか。

1000から 大きい じゅんに 数を ならべると、

1000、999、998、997、996、995、994、993 答え 993

14 下の 数の線 を 見て 答えましょう。

ABCDE



① アの めもりが あらわす 数は いくつですか。

② 1000 より 7 小さい 数は いくつですか。

15 つぎの もんだいに 答えましょう。

BCDE

① 10 を 23 こ あつめた 数は いくつですか。

② 10 を 90 こ あつめた 数は いくつですか。

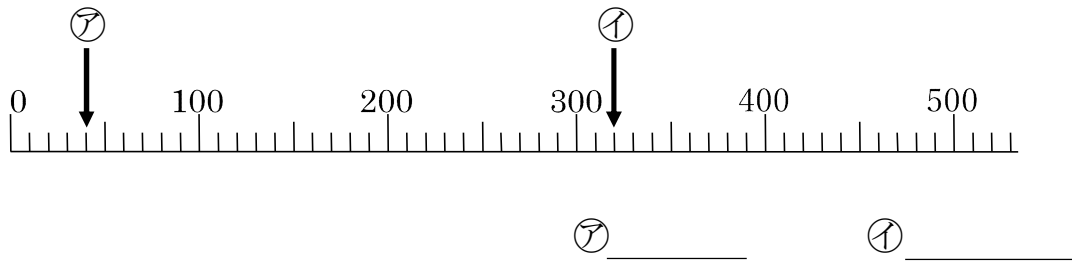
③ 340 は、10 を 何こ あつめた 数ですか。

④ 200 は、10 を 何こ あつめた 数ですか。

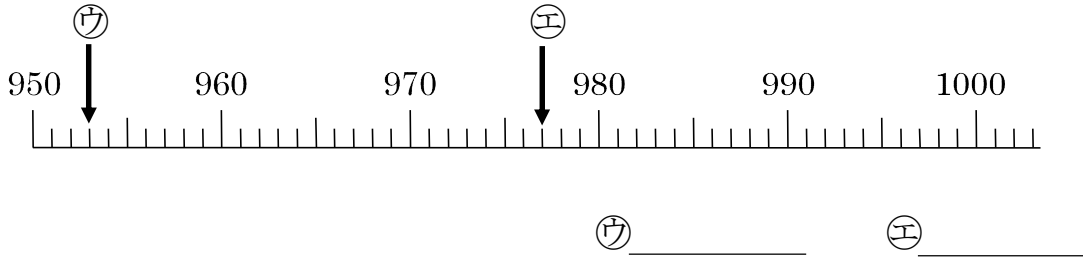
16 アから イの めもりが あらわす 数を 書きましょう。

BCDE

①



②



17 つぎの 数を 書きましょう。

CDE

① 1000 より 10 小さい 数。

② 1000 より 300 小さい 数。

18 ()に あてはまる 数を 書きましょう。

CDE

① 840 は、()と 40 を あわせた 数です。

② 840 は、10 を ()こ あつめた 数です。

19

ABCDE

つぎの せつめい 説明を よ 読んで もんだい 問題に こた 答えましょう。

何十の計算

hakken. の法則 

★ 何十の計算 なんじゅう …10 のたばが、いくつあるかで かんが 考えます。

$$\begin{array}{r} 30 + 90 = 120 \\ \uparrow \quad \uparrow \quad \uparrow \\ 10 \text{ が } 3 + 9 = 12(\text{こ}) \end{array}$$

れいだい けいさん 計算をしましょう。

① $60 + 70$

10 が $6 + 7 = 13(\text{こ})$

$60 + 70 = 130$

答 130

② $160 - 90$

10 が $16 - 9 = 7(\text{こ})$

$160 - 90 = 70$

答 70

20

ABCDE

けいさん 計算をしましょう。

① $60 + 70$

② $160 - 90$

21

ABCDE

つぎの せつめい 説明を よ 読んで もんだい 問題に こた 答えましょう。

何百の計算

hakken. の法則 

★ 何百の計算 なんびやく …100 のたばが、いくつあるかで かんが 考えます。

$$\begin{array}{r} 800 - 600 = 200 \\ \uparrow \quad \uparrow \quad \uparrow \\ 100 \text{ が } 8 - 6 = 2(\text{こ}) \end{array}$$

れいだい 計算をしましょう。

① $300 + 400$

100 が $3 + 4 = 7(\text{こ})$

$300 + 400 = 700$

答 700

② $1000 - 100$

100 が $10 - 1 = 9(\text{こ})$

$1000 - 100 = 900$

答 900

22

ABCDE

計算をしましょう。

① $300 + 400$

② $1000 - 100$

23 計算をしましょう。

ABCDE

① $70+60$

④ $140-80$

② $40+70$

⑤ $110-70$

③ $80+60$

⑥ $170-80$

24 計算をしましょう。

ABCDE

① $200+400$

④ $700-300$

② $300+600$

⑤ $900-600$

③ $700+300$

⑥ $1000-700$

25 つぎの せつめい 説明を よ 読んで もんだい 問題に こた 答えましょう。

ABCDE

何十、何百の計算

hakken. の法則 

★ 何十、何百の計算

れいだい 計算をしましょう。

① $300+40$

300 と 40 で 340

$$300+40=340$$

答 340

② $209-9$

209 は 200 と 9

9 をとると 200

$$209-9=200$$

答 200

26 計算をしましょう。

ABCDE

① $500+60$

④ $890-90$

② $700+80$

⑤ $560-60$

③ $900+4$

⑥ $307-7$

27 計算をしましょう。

ABCDE

① $400 + 20$

④ $260 - 60$

② $300 + 8$

⑤ $506 - 6$

③ $700 + 7$

⑥ $809 - 9$

28 おりがみが 300 枚あります。おばあちゃんから 40 まいもらいました。
CDE 何まいになりましたか。

(しき)

29 107 ページの本があります。きょう 7 ページよみました。
CDE あと何ページのこっていますか。

(しき)

30 つぎの せつめいを よんで もんだいに こたえましょう
ABCDE

数のあらわし方と しくみ

hakken. の法則 

★ 数のあらわし方と しくみ

れいだい つぎの数を答えましょう。

① 1000 より 100 小さい数

$$1000 - 100 = 900$$

答 900

② 760 をしきに あらわすと

答 $760 = 700 + 60$

31 つぎの数を答えましょう。

ABCDE

① 1000 より 100 小さい数

② 760 をしきに あらわすと

$$760 = 700 + (\quad)$$

32 つぎの数を答えましょう。

BCDE

① 1000 より 1 小さい数

② 1000 より 20 小さい数

33 つぎの式の () に数を書きましょう。

BCDE

① $470 = (\quad) + 70$

② $820 = 900 - (\quad)$

③ 390 は 10 を () こ あつめた数