

2-3 2ケタのひき算 ひっ算

2 ひき算を ひっ算で しましょう。

ABCDE

① $37 - 13$

② $59 - 53$

4 ひき算を ひっ算で しましょう。

ABCDE

① $37 - 4$

② $46 - 6$

5 ひき算を しましょう。

ABCDE

①
$$\begin{array}{r} 49 \\ - 16 \\ \hline \end{array}$$

②
$$\begin{array}{r} 38 \\ - 24 \\ \hline \end{array}$$

③
$$\begin{array}{r} 67 \\ - 13 \\ \hline \end{array}$$

6 ひき算を ひっ算で しましょう。

BCDE

① $36 - 12$

② $49 - 13$

③ $57 - 4$

7 ひろみさんは おち^ば葉を 26まい、えりこさんは 14まい ひろいまし
た。ひろみさんは、えりこさんより ^{なん}何まい ^{おお}多く ひろいましたか。

CDE

(しき)

8 ひき算を しましょう。

ABCDE

①
$$\begin{array}{r} 24 \\ - 10 \\ \hline \end{array}$$

②
$$\begin{array}{r} 35 \\ - 25 \\ \hline \end{array}$$

③
$$\begin{array}{r} 50 \\ - 20 \\ \hline \end{array}$$

9 ひき算を ひっ算で しましょう。

BCDE

① $74 - 30$

② $62 - 42$

③ $80 - 20$

10 赤い おりがみが 35まい、青い おりがみが 55まい あります。赤
CDE
 い おりがみと 青い おりがみの、数の ちがいは 何なんまいですか。

(しき)

11 ひき算を しましょう。

ABCDE

①
$$\begin{array}{r} 15 \\ - 2 \\ \hline \end{array}$$

②
$$\begin{array}{r} 46 \\ - 4 \\ \hline \end{array}$$

③
$$\begin{array}{r} 57 \\ - 4 \\ \hline \end{array}$$

12 ひき算を ひっ算で しましょう。

BCDE

① $29 - 3$

② $38 - 2$

③ $57 - 3$

13 ちゅう車しゃじょう場に 車が 49台だい あります。6台 動かすと 何台 のこり
CDE
 ますか。

(しき)

15 ひき算を ひっ算で しましょう。

ABCDE

① $34 - 28$

② $50 - 19$

17 ひき算を ひっ算で しましょう。

ABCDE

① $33 - 14$

② $30 - 7$

18 ひき算を しましょう。

ABCDE

①
$$\begin{array}{r} 22 \\ - 17 \\ \hline \end{array}$$

②
$$\begin{array}{r} 33 \\ - 18 \\ \hline \end{array}$$

③
$$\begin{array}{r} 56 \\ - 17 \\ \hline \end{array}$$

④
$$\begin{array}{r} 55 \\ - 28 \\ \hline \end{array}$$

⑤
$$\begin{array}{r} 87 \\ - 39 \\ \hline \end{array}$$

⑥
$$\begin{array}{r} 74 \\ - 48 \\ \hline \end{array}$$

19 ひき算を ひっ算で しましょう。

BCDE

① $42 - 25$

② $84 - 47$

③ $95 - 48$

20 いろがみ色紙が 33まい ありました。そのうち、16まい つかいました。色紙
は なん何まい のこって いますか。

CDE

(しき)

21 ひき算を しましょう。

ABCDE

①
$$\begin{array}{r} 60 \\ - 26 \\ \hline \end{array}$$

②
$$\begin{array}{r} 90 \\ - 64 \\ \hline \end{array}$$

③
$$\begin{array}{r} 74 \\ - 59 \\ \hline \end{array}$$

22 ひき算を ひっ算で しましょう。

BCDE

① $71 - 36$

② $47 - 39$

③ $60 - 48$

23 さくらんぼが 31 こ ありました。17 こ ^た食べると ^{なん}何こ のこりますか。

(しき)

24 ひき算を しましょう。

ABCDE

①
$$\begin{array}{r} 11 \\ - 3 \\ \hline \end{array}$$

②
$$\begin{array}{r} 47 \\ - 8 \\ \hline \end{array}$$

③
$$\begin{array}{r} 55 \\ - 7 \\ \hline \end{array}$$

④
$$\begin{array}{r} 60 \\ - 8 \\ \hline \end{array}$$

⑤
$$\begin{array}{r} 41 \\ - 5 \\ \hline \end{array}$$

⑥
$$\begin{array}{r} 83 \\ - 8 \\ \hline \end{array}$$

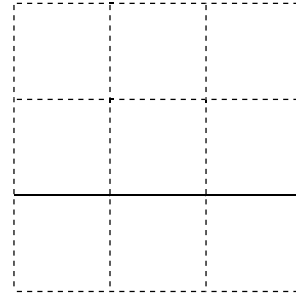

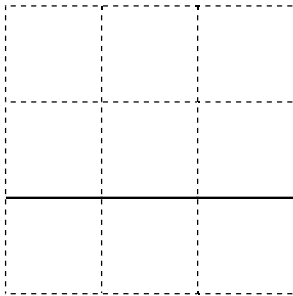
25 ひき算を ひっ算で しましょう。

BCDE

① $46 - 28$

② $53 - 39$

③ $62 - 36$



26 くりを 71 こ ひろいました。ともだちに 29 こ あげました。何こ のこっていますか。

CDE

(しき)

28 こどもが 35 人 あそんでいます。女の子は 19 人です。

BCDE

① 男の子は 何人 あそんで いますか。

(しき)

② 男の子と 女の子の 人数を たすと、何人に なりますか。

(しき)

30 71-44 の 計算を して、答えの たしかめも しましょう。

ABCDE

(しき)

た
し
か
め

31 ひき算を しましょう。また、たし算を して、答えを たしかめましょ
う。

BCDE

①
$$\begin{array}{r} 82 \\ - 38 \\ \hline \end{array}$$

②
$$\begin{array}{r} 53 \\ - 26 \\ \hline \end{array}$$

③
$$\begin{array}{r} 73 \\ - 47 \\ \hline \end{array}$$

た
し
か
め

た
し
か
め

た
し
か
め

32 ひき算を しましょう。

ABCDE

①
$$\begin{array}{r} 32 \\ - 13 \\ \hline \end{array}$$

②
$$\begin{array}{r} 75 \\ - 29 \\ \hline \end{array}$$

③
$$\begin{array}{r} 83 \\ - 55 \\ \hline \end{array}$$

④
$$\begin{array}{r} 66 \\ - 28 \\ \hline \end{array}$$

⑤
$$\begin{array}{r} 92 \\ - 67 \\ \hline \end{array}$$

⑥
$$\begin{array}{r} 71 \\ - 56 \\ \hline \end{array}$$

33 ひき算を しましょう。

ABCDE

①
$$\begin{array}{r} 27 \\ - 19 \\ \hline \end{array}$$

②
$$\begin{array}{r} 42 \\ - 25 \\ \hline \end{array}$$

③
$$\begin{array}{r} 55 \\ - 18 \\ \hline \end{array}$$

④
$$\begin{array}{r} 93 \\ - 24 \\ \hline \end{array}$$

⑤
$$\begin{array}{r} 71 \\ - 64 \\ \hline \end{array}$$

⑥
$$\begin{array}{r} 63 \\ - 29 \\ \hline \end{array}$$

34 ひき算を しましょう。

ABCDE

①
$$\begin{array}{r} 61 \\ - 28 \\ \hline \end{array}$$

②
$$\begin{array}{r} 85 \\ - 36 \\ \hline \end{array}$$

③
$$\begin{array}{r} 72 \\ - 46 \\ \hline \end{array}$$

④
$$\begin{array}{r} 72 \\ - 14 \\ \hline \end{array}$$

⑤
$$\begin{array}{r} 92 \\ - 44 \\ \hline \end{array}$$

⑥
$$\begin{array}{r} 61 \\ - 37 \\ \hline \end{array}$$

35

CDE

さちこさんの クラスの ^{にんずう}人数は 26 人です。そのうち 女の子は 19 人です。

① 男の子は ^{なんにん}何人ですか。

(しき)

② ①の 男の子の 人数に、女の子の 人数を たして、さちこさんの クラスの ぜんたいの 人数を もとめる しきを かきましよう。
