

2-2 2ケタのたし算 ひっ算

2 たし算を ひっ算で しましょう。

ABCDE

①  $21 + 38$

②  $44 + 35$



4 たし算を ひっ算で しましょう。

ABCDE

①  $23 + 5$

②  $5 + 34$



5 たし算を しましょう。

ABCDE

① 
$$\begin{array}{r} 12 \\ + 63 \\ \hline \end{array}$$

④ 
$$\begin{array}{r} 24 \\ + 33 \\ \hline \end{array}$$

② 
$$\begin{array}{r} 76 \\ + 12 \\ \hline \end{array}$$

⑤ 
$$\begin{array}{r} 43 \\ + 24 \\ \hline \end{array}$$

③ 
$$\begin{array}{r} 37 \\ + 52 \\ \hline \end{array}$$

⑥ 
$$\begin{array}{r} 63 \\ + 3 \\ \hline \end{array}$$

6 たし算を ひっ算で しましょう。

BCDE

①  $52+44$

②  $13+86$

③  $24+74$




7 さちこさんは おりがみで つるを 32羽、ゆきさんは 26羽 おりました。おった つるは、あわせて 何羽ですか。

CDE

(しき)

8 たし算を しましょう。

ABCDE

①  $70$

②  $25$

③  $48$

$+29$

$+60$

$+40$

9 たし算を ひっ算で しましょう。

BCDE

①  $17+80$

②  $50+36$



- 10 みさこさんは、貝を 40 こ、お母さんは 53 こ ひろいました。ぜんぶ  
CDE  
で 何こ ひろいましたか。

(しき)

- 11 たし算を しましょう。

ABCDE

① 
$$\begin{array}{r} 75 \\ + 3 \\ \hline \end{array}$$

③ 
$$\begin{array}{r} 2 \\ + 87 \\ \hline \end{array}$$

② 
$$\begin{array}{r} 4 \\ + 60 \\ \hline \end{array}$$

④ 
$$\begin{array}{r} 70 \\ + 6 \\ \hline \end{array}$$

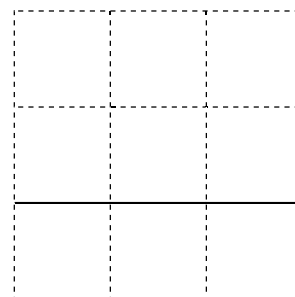
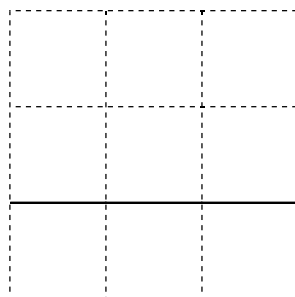
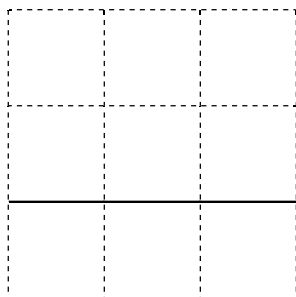
- 12 たし算を ひっ算で しましょう。

BCDE

①  $56+3$

②  $2+45$

③  $70+6$



- 13 あきらさんの クラスは、男の子が 13 人です。女の子は 男の子より 2  
CDE  
人 多いそうです。あきらさんの クラスは みんなで 何人ですか。

(しき)

15 たし算を ひっ算で しましょう。

ABCDE

①  $14 + 39$

②  $27 + 47$



17 たし算を ひっ算で しましょう。

ABCDE

①  $35 + 6 =$

②  $9 + 45$



18 たし算を しましょう。

ABCDE

① 
$$\begin{array}{r} 3 \\ + 58 \\ \hline \end{array}$$

④ 
$$\begin{array}{r} 34 \\ + 47 \\ \hline \end{array}$$

② 
$$\begin{array}{r} 78 \\ + 4 \\ \hline \end{array}$$

⑤ 
$$\begin{array}{r} 69 \\ + 26 \\ \hline \end{array}$$

③ 
$$\begin{array}{r} 12 \\ + 39 \\ \hline \end{array}$$

⑥ 
$$\begin{array}{r} 16 \\ + 27 \\ \hline \end{array}$$

19 ゆかりさんは 本を、きのう 25 ページ よみました。きょうは 17 ページ よみました。ぜんぶで 何ページ よみましたか。

(しき)

20 たし算を しましょう。

ABCDE

① 
$$\begin{array}{r} 57 \\ + 23 \\ \hline \end{array}$$

② 
$$\begin{array}{r} 14 \\ + 26 \\ \hline \end{array}$$

③ 
$$\begin{array}{r} 35 \\ + 15 \\ \hline \end{array}$$

21 たし算を ひっ算で しましょう。

BCDE

①  $43 + 17$

②  $31 + 29$

③  $36 + 54$




22 ゆうきくんは きのう 22 この <sup>かんじ</sup>漢字の れんしゅうを しました。

CDE

今日は 18 この れんしゅうを しました。ぜんぶで 何こ れんしゅう しましたか。

(しき)

23 たし算を しましょう。

ABCDE

$$\begin{array}{r} \textcircled{1} \quad 77 \\ + \quad 5 \\ \hline \end{array}$$

$$\begin{array}{r} \textcircled{4} \quad 6 \\ + 48 \\ \hline \end{array}$$

$$\begin{array}{r} \textcircled{2} \quad 39 \\ + \quad 4 \\ \hline \end{array}$$

$$\begin{array}{r} \textcircled{5} \quad 6 \\ + 69 \\ \hline \end{array}$$

$$\begin{array}{r} \textcircled{3} \quad 59 \\ + \quad 2 \\ \hline \end{array}$$

$$\begin{array}{r} \textcircled{6} \quad 5 \\ + 28 \\ \hline \end{array}$$

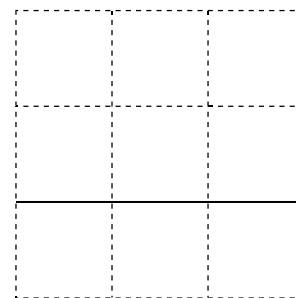
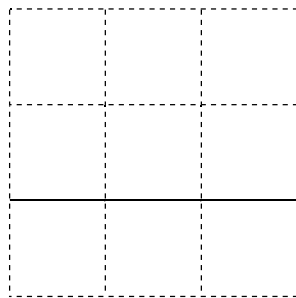
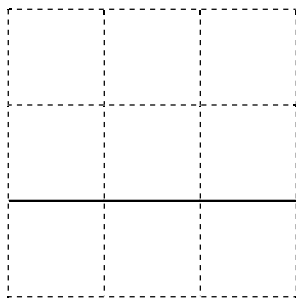
24 たし算を ひっ算で しましょう。

BCDE

$$\textcircled{1} \quad 13+9$$

$$\textcircled{2} \quad 8+53$$

$$\textcircled{3} \quad 38+7$$



25 たかしくんの シールは 28まい あります。まなぶくんの シールは それより 4まい 多いそうです。まなぶくんの シールは なんまいですか。

CDE

(しき)

\_\_\_\_\_

27 BCDE りんごが 8 こ、みかんが 15 こ あります。あわせて <sup>なん</sup> 何こ ありますか。しきを 2 とおりに 書いて 答えましょう。

(しき)

29 BCDE 17+28 の 計算を して、答えの たしかめも しましょう。

(しき)


たしかめ


30 BCDE たし算を しましょう。また、たされる数と たす数を 入れかえて 計算して、答えを たしかめましょう。

① 
$$\begin{array}{r} 8 \\ + 7 \\ \hline \end{array}$$

② 
$$\begin{array}{r} 9 \\ + 8 \\ \hline \end{array}$$

③ 
$$\begin{array}{r} 6 \\ + 5 \\ \hline \end{array}$$

たしかめ


たしかめ


たしかめ


31 こうえんに 男の子が 17人、女の子が 4人 います。あわせて 何人  
CDE でしょうか。しきを 2とおりに 書いて 答えましょう。

(しき)

32 つぎの たし算の ひっ算で、㉠から ㉡に あてはまる かず 数を もとめ  
DE ましょう。

$$\begin{array}{r} \textcircled{1} \quad 2 \textcircled{\text{ア}} \\ + \quad 8 \\ \hline \textcircled{\text{イ}} 6 \end{array}$$

㉠ \_\_\_\_\_

㉡ \_\_\_\_\_

$$\begin{array}{r} \textcircled{2} \quad \quad 7 \\ + \quad 5 \textcircled{\text{ウ}} \\ \hline \textcircled{\text{エ}} 6 \end{array}$$

㉢ \_\_\_\_\_

㉣ \_\_\_\_\_