


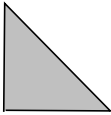
1
ABCDE

つぎの せつめいを よんで もんだいに こたえましょう


かたちづくり

hakken.の法則 

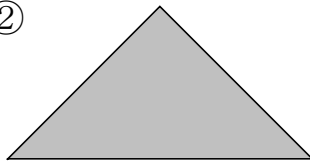
★ かたちづくり...  のいろいろたや かぞえぼうを ならべて、
いろいろな かたちを つくる ことができます。

れいだい  を なんまい つかって つくりましたか。

①

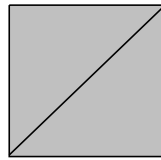


②

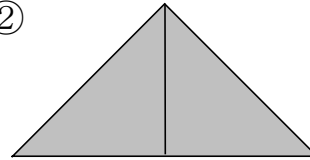


ならべかたが わかるように、せんを かきましょう。

①



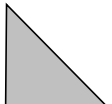
②




こたえ 2まい

こたえ 2まい

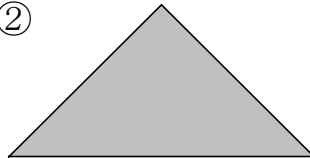
2
ABCDE

 を なんまい つかって つくりましたか。

①



②



3
ABCDE

つぎの せつめいを よんで もんだいに こたえましょう

かぞえぼうならべ

hakken. の法則 

★ かぞえぼうならべ

れいだい かぞえぼうを なんぼん
つかって いますか。



こたえ 7ほん

4
ABCDE

かぞえぼうを なんぼん つかって いますか。



5
ABCDE

つぎの せつめいを よんで もんだいに こたえましょう

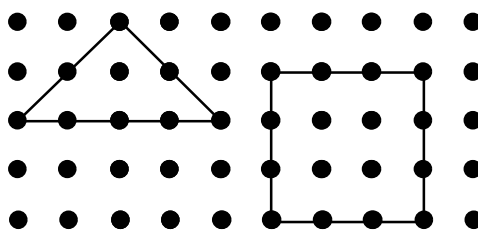
てんを つないで

hakken. の法則 

★ てんを つないで… てんと てんを せんで つないで、いろい
ろなかたちを かく ことが できます。


れいだい ・と ・を せんで
つないで、さんかくと
しかくを 1つずつ
かきましょう。

例

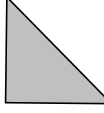


6
ABCDE

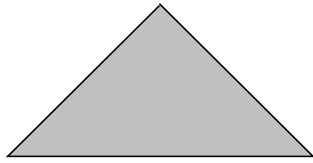
・と ・を せんで
つないで、さんかくと しかくを
1つずつ かきましょう。



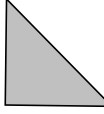
7
ABCDE



を ならべて、おおきな さんかくの かたちを つくりました。
なんまい つかって いますか。

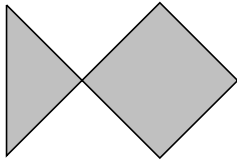


8
ABCDE

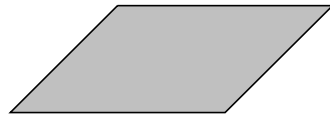


を 4まい つかって できて いる かたちは どれですか。
(あ) から (え) で、2つ こたえましょう。


(あ)



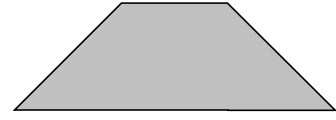
(い)



(う)



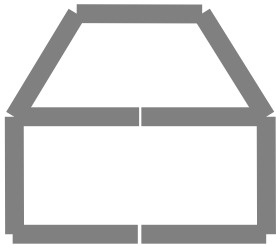
(え)



9
ABCDE

かぞえぼうを なんぼん つかって いますか。

①



②

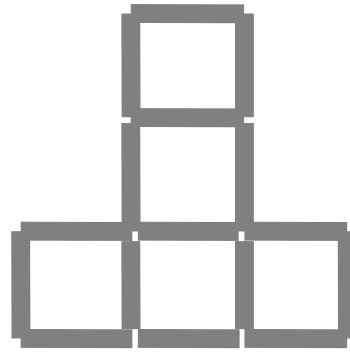


10 かぞえぼうを つかって、みぎのような
かたちを つくりました。

ABCDE


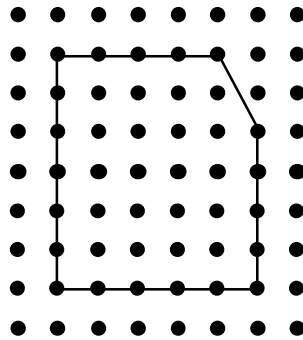
この なかに  の かたちは

いくつ ありますか。




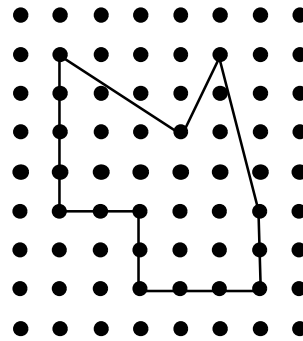
11 ・と ・を せんで
つないで、おなじ
かたちを かきましょう。

ABCDE




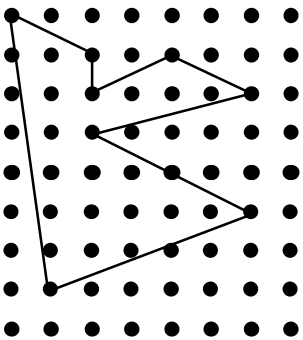
12 ・と ・を せんで
つないで、おなじ
かたちを かきましょう。

ABCDE



13 ・と ・を せんで
つないで、おなじ
かたちを かきましょう。

ABCDE



14

ABCDE

・と ・を せんで
つないで、おなじ
かたちを かきましょう。

