

1
 ABCDE

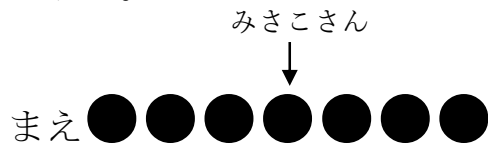
つぎの せつめいを よんで もんだいに こたえましょう。

ぶんしょうもんだい①
hakken.の法則 

★ ぶんしょうもんだい①…ぶんしょうもんだいを とく ときは、
 たすけに なる かんたんな ずを かいて かんがえます。

れいだい みさこさんは、まえから4ばんめに います。

みさこさんの うしろに 3にん います。みんなで なんにん い
 ますか。



しきは、たしざんに なります。

$$4 + 3 = 7(\text{にん})$$

こたえ 7にん

2 みさこさんは、まえから4ばんめに います。みさこさんの うしろに
 ABCDE 3にん います。みんなで なんにん いますか。

(しき)

3 つぎの せつめいを よんで もんだいに こたえましょう。

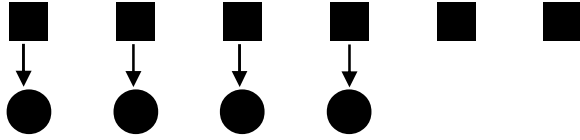
ABCDE

ぶんしょうもんだい②

hakken.の法則 

★ ぶんしょうもんだい②

れいだい おりがみが 6まい あります。4にんが 1まいずつ
つかうと、なんまい のこりますか。



4にんが 1まいずつ つかうと 4まい つかうことになり
しきは、ひきざんに なります。

$$6 - 4 = 2(\text{まい})$$

こたえ 2まい

4 おりがみが 6まい あります。4にんが 1まいずつ つかうと、なん
まい のこりますか。

ABCDE

(しき)

5 はこが つんであります。8だんめまで いろを ぬりました。うえには
まだ 7だん あります。はこは、ぜんぶで なんだんですか。

ABCDE

(しき)

- 6 ジュースのかんが 12 こ ならべて あります。オレンジジュースは、
みぎから 4 ばんめに あります。オレンジジュースの ひだりには、
ジュースのかんは なんこ ありますか。

(しき)

- 7 つぎの せつめいを よんで もんだいに こたえましょう。

ぶんしょうもんだい③

hakken.の法則💡

★ ぶんしょうもんだい③…「おおい」、「すくない」の もんだいを
かんがえる ときも、ずを かくと わかりやすく なります。

れいだい けいこさんは、おりがみを 10まい もっています。

みさこさんは、けいこさんより 3まい すくなく いろがみを
もっています。みさこさんは、なんまい おりがみを もって
いますか。

けいこさん ●●●●●●●●●●

みさこさん ●●●●●●●○ ○ ○

3まいすくない

しきは、ひきざんに なります。

$$10 - 3 = 7(\text{まい})$$

こたえ 7まい

- 8 けいこさんは、おりがみを 10まい もっています。みさこさんは、
けいこさんより 3まい すくなく いろがみを もっています。みさこ
さんは、なんまい おりがみを もっていますか。

(しき)

9

ABCDE

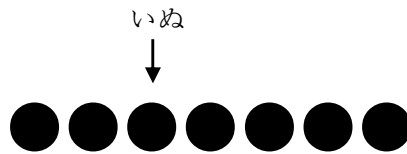
つぎの せつめいを よんで もんだいに こたえましょう。

ぶんしょうもんだい④

hakken.の法則💡

★ ぶんしょうもんだい④

れいだい どうぶつが ならんで います。いぬの まえに 2ひき、
いぬの うしろに 4ひき います。どうぶつは なんびき ならん
で いますか。



いぬの ぶんも たします。

$$2+1+4=7(\text{ひき})$$

こたえ 7ひき

10

ABCDE

どうぶつが ならんで います。いぬの まえに 2ひき、いぬの うしろ
に 4ひき います。どうぶつは なんびき ならんで いますか。

(しき)

11

ABCDE

6ぽんの てっぼうで、こどもが あそんで います。まっている
こどもは、7 にん います。こどもは、みんなで なんにん いますか。

(しき)

12

ABCDE

みかんが 14 こ あります。8 にんの こどもに 1 こずつ くばりま
す。みかんは なんこ あまりますか。

(しき)

13 どうぶつえんに さるが 7ひき います。うさぎは、さるより 8わ
ABCDE おおく います。うさぎは なんわ いますか。

(しき)

14 うんどうじょうで 1ねんせいが あそんで います。おとこのこは 15
ABCDE にん います。おんなのこは、おとこのこより 6にん すくないそう
です。おんなのこは なんにん いますか。

(しき)

15 くるまが ならんで います。さとしさんの くるまの ひだりがわに
ABCDE 6だい、みぎがわには 5だい あります。くるまは ぜんぶで なんだ
い ありますか。

(しき)

16 10にん ならんで います。みはるさんは、まえから 6ばんめに いま
ABCDE す。みはるさんの うしろには なんにん いますか。

(しき)

17 こどもが ならんで います。あきさんは、まえから 9ばんめです。あ
ABCDE きさんの うしろには 4にん います。みんなで なんにん いますか。

(しき)

18 どんぐり ひろいを しました。ゆきこさんは 13 こひろい、あきさん
ABCDE は ゆきこさんより 7こ すくなく ひろいました。あきさんは なん
こ ひろいましたか。

(しき)

19 えりこさんは、さくらんぼを 9こ たべました。いもうとは えりこさ
ABCDE んより 7こ おおく たべました。いもうとは なんこ たべました
か。

(しき)

20 りんごを 8にんに 1こずつ くばりました。りんごは、まだ 6こ
ABCDE のこって います。りんごは、ぜんぶで なんこ ありましたか。

(しき)

21 18にんに ふうせんを くばります。ふうせんは 9こ あります。あと
ABCDE なんこ あれば みんなに ふうせんを くばれますか。

(しき)

22 よしきさんは ジャングルジムに のぼって います。とちゅうで だん
ABCDE を かぞえると よしきさんの したには 7だん、うえには 4だん
ありました。ジャングルジムは、ぜんぶで なんだん ありますか。

(しき)
