

1-16 とけい②


2 なんじ なんぷん ですか。

ABCDE

①




②



3 なんじ なんぷん ですか。

ABCDE

①




②



4 なんじ なんぷん ですか。

ABCDE

①



②





5 ながい はりを かきましょう。

ABCDE

① 8じ20ぶん

② 3じ35ぶん




6 なんじ なんぶん ですか。

ABCDE

①

②




7 なんじ なんぶん ですか。

ABCDE

①

②



8 なんじ なんぷん ですか。

ABCDE

①



②




9 なんじ なんぷん ですか。

ABCDE

①



②



10 ながい はりを かきましょう。

ABCDE

① 8じ16ふん

② 12じ21ふん

