

1

ABCDE

つぎの せつめいを よんで もんだいに こたえましょう。

なんじなんぷん**hakken.**の法則 ★ なんじなんぷん

とけいは みじかい はりが 「なんじ」を ながい はりが
 「なんぷん」を あらわして います。

ながい はりは 1めもりが 1ふん です。

れいだい なんじなんぷんですか。

①


みじかい はりは 9と 10の

あいだ だから 「9じ」

ながい はりは 1めもりが 1ふん

だから 「5ふん」

こたえ 9じ5ふん



②


みじかい はりは 5と 6の

あいだ だから 「5じ」

ながい はりは 1めもりが 1ふん

だから 「47ふん」


こたえ 5じ47ふん




2 なんじ なんぷん ですか。

ABCDE

①




②



3 なんじ なんぷん ですか。

ABCDE

①




②



4 なんじ なんぷん ですか。

ABCDE

①




②




5 ながい はりを かきましょう。

ABCDE

① 8じ20ぷん



② 3じ35ふん



6 なんじ なんぷん ですか。

ABCDE

①



②




7 なんじ なんぷん ですか。

ABCDE

①



②



8 なんじ なんぷん ですか。

ABCDE

①




②




9 なんじ なんぷん ですか。

ABCDE

①



②



10 ながい はりを かきましょう。

ABCDE

① 8じ16ふん

② 12じ21ふん

