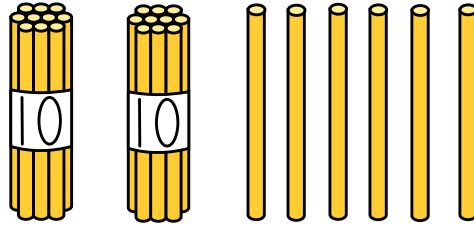


1-14 20よりおおきいかず

2 かずを かぞえましょう。

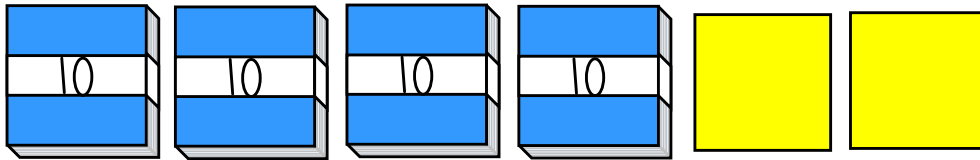
ABCDE



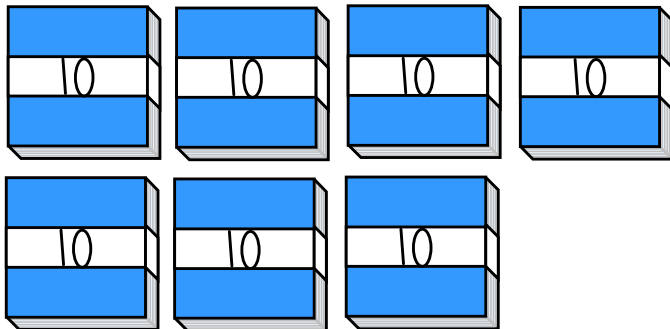
3 なんまい ありますか。かずを すうじで かきましょう。

ABCDE

①



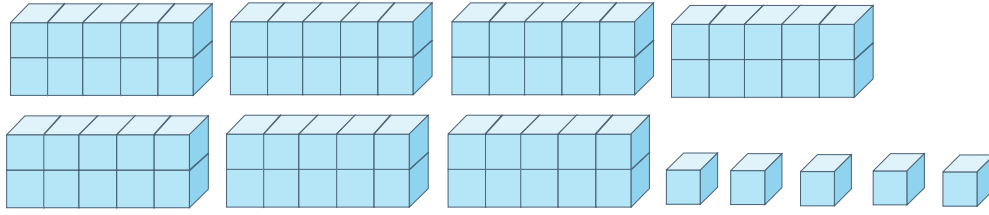
②



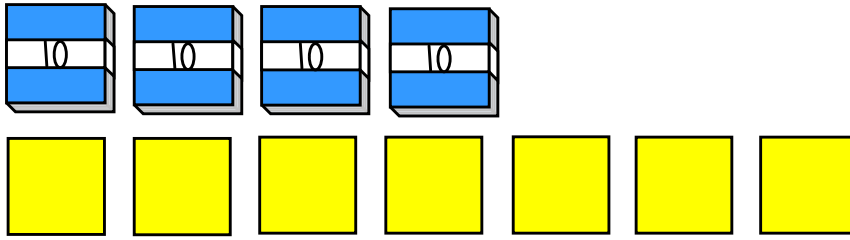
4 かずを かぞえて、すうじで かきましょう。

ABCDE


①



②




③




5 かずを かぞえて、すうじで かきましょう。

ABCDE

①




②



6 さるは なんびき いますか。

ABCDE



8 □の かずを こたえましょう。

ABCDE

① 10が 7こと 1が 4こで □

② 56は、10が □こと 1が □こ

③ 10が 10こで □

9 () に あてはまる かずを かきましょう。

ABCDE

① 10が 4こと 1が 7こで、() です。

② 10が 7こで () です。

③ 68は、10が () こと 1が () こです。

④ 80は、 10が () こです。

10 49に ついて、こたえましょう。

ABCDE

① ^{じゅう}十のくらいの すうじは なんですか。

② ^{いち}一のくらいの すうじは なんですか。

11 つぎの かずを かきましょう。

ABCDE

① ^{じゅう}十のくらいが 5、^{いち}一の くらいが 3の かず

② ^{じゅう}十のくらいが 7、^{いち}一の くらいが 0の かず

12 () に あてはまる かずを かきましょう。


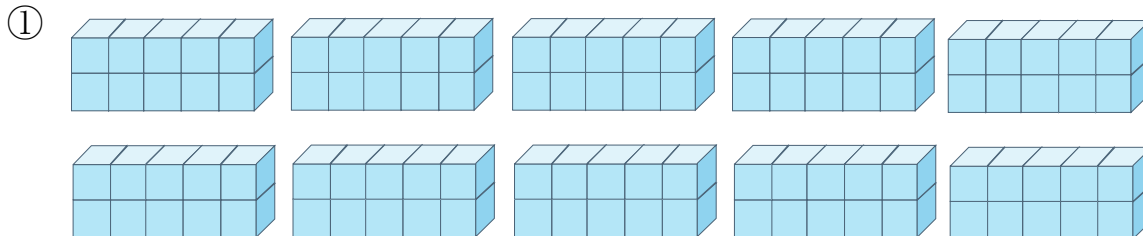
ABCDE

① 100 は、 10 を () こ あつめた かずです。

② 100 より 2 ちいさい かずは、 () です。

13 かずを かぞえて、 すうじで かきましょう。

ABCDE



15 おおきい ほうの かずを こたえましょう。

ABCDE

①

②

16 つぎの かずを ぜんぶ かきましょう。

ABCDE

① 100までの かずで ^{いち}一のくらいが 5の かず

② 100までの かずで ^{じゅう}十のくらいが 8の かず

17 つぎの かずを かきましょう。

ABCDE

① 80より 4 おおきい かず

② 70より 5 おおきい かず

③ 49より 1 おおきい かず

18 つぎの かずを かきましょう。

ABCDE

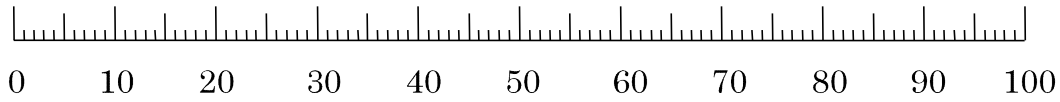
① 30より 3 ちいさい かず

② 40より 5 ちいさい かず

③ 100より 5 ちいさい かず

19 かずのせんをみて、こたえましょう。

ABCDE



① 55より 4 おおきい かず

② 68より 3 ちいさい かず

③ 49より 2 おおきい かず

20 おおきい ほうの かずを こたえ ましょう。

ABCDE

① 62 67 ② 98 89

21 () に あてはまる かずを かきましょう。


ABCDE

① 39 () 41 () 43 ()

② 89 88 () () 85 ()

23 かずを かぞえましょう。

ABCDE



25 () に かずを かきましょう。


ABCDE

108 () 110 111 ()


26 かずを かぞえて、すうじで かきましょう。

ABCDE

①



②








27 () に あてはまる かずを かきましょう。

ABCDE

- ① 100 と 8 で () に なります。
- ② 100 と 17 で () に なります。
- ③ 100 と 22 で () に なります。

28 えをみて、(あ)から(お)でこたえましょう。

ABCDE

(あ)	(い)	(う)	(え)	(お)
				
80 えん	148 えん	88 えん	108 えん	100 えん

① 100 えんでかえるものは、どれですか。ぜんぶえらびましょう。

② 100 えんでかえないものは、どれですか。ぜんぶえらびましょう。

29 () にあてはまるかずをかきましょう。

ABCDE

① 97 98 () () () 102

② 115 116 () () 119 ()

30 おおきいほうのかずをかきましょう。

ABCDE

① 102 98 ② 159 162

32 けいさんをしましょう。

ABCDE

$$50 + 40$$

34 けいさんをしましょう。

ABCDE

$$60 - 40$$

35 たしざんを しましょう。

ABCDE

① $60 + 20$

④ $50 + 10$

② $20 + 80$

⑤ $40 + 50$

③ $30 + 40$

⑥ $70 + 30$

36 えみさんは、おはじきを 60 こ もって いました。おねえさんから
20 こ もらいました。おはじきは、ぜんぶで なんこに なりましたか。

ABCDE

(しき)

37 ひきざんを しましょう。

ABCDE

① $80 - 20$

④ $50 - 10$

② $70 - 40$

⑤ $100 - 40$

③ $100 - 80$

⑥ $70 - 50$

38 いろがみが 80 まい あります。ともだちに 30 まい あげると、のこ
りは なんまいに なりますか。

ABCDE

(しき)

40 けいさんを しましょう。

ABCDE

① $32 + 3$

② $36 - 4$

41 たしざんを しましょう。

ABCDE

① $20+5$

④ $30+4$

② $50+1$

⑤ $40+8$

③ $70+2$

⑥ $60+7$

42 かずきさんは、いろがみを 60まい もって いました。ともだちに 5まい もらいました。いろがみは、ぜんぶで なんまいに なりましたか。

ABCDE

(しき)

43 ひきざんを しましょう。

ABCDE

① $25-5$

④ $54-4$

② $76-6$

⑤ $36-6$

③ $41-1$

⑥ $49-9$

44 いちごがりに 行きました。みんなで 68こ とりました。そのうち 8こをたべました。いちごは なんこ のこって いますか。

ABCDE

(しき)

45 たしざんを しましょう。

ABCDE

① $35+4$

⑥ $51+3$

② $67+1$

⑦ $83+6$

③ $43+5$

⑧ $26+3$

④ $24+2$

⑨ $75+2$

⑤ $92+7$

⑩ $61+8$

46 ばらが さいて います。きのう かぞえたら、35ほん ありました。

ABCDE

きょう あたらしく 4ほん さきました。ばらは、ぜんぶで なんぼん
さいて いますか。

(しき)

47 ひきざんを しましょう。

ABCDE

① $29-6$

⑥ $37-2$

② $55-1$

⑦ $46-5$

③ $28-7$

⑧ $64-3$

④ $77-2$

⑨ $59-4$

⑤ $89-8$

⑩ $98-6$

48 ABCDE たいいくかんに、せんせいと 1ねんせいが、あわせて 78にん います。そのうち、せんせいは 6にんです。たいいくかんに、1ねんせいはなんにん いますか。

(しき)

49 ABCDE けいさんを しまししょう。

① $60 + 4 + 5$

③ $90 - 10 - 70$

② $30 + 9 - 6$

④ $46 - 6 + 50$

50 ABCDE けいさんを しまししょう。

① $8 + 50$

③ $3 + 60$

② $92 - 90$

④ $47 - 40$

51 ABCDE 1くみの じどうは 38にんです。2くみの じどうは、1くみより3にん すくないそうです。2くみの じどうは なんにんですか。

(しき)
