

1-13 くりさがりのあるひきざん

2 () に すうじを いれましょう。

ABCDE

12-9 の けいさんの しかた。

2 から () は ひけない。

12 を () と () に わける。

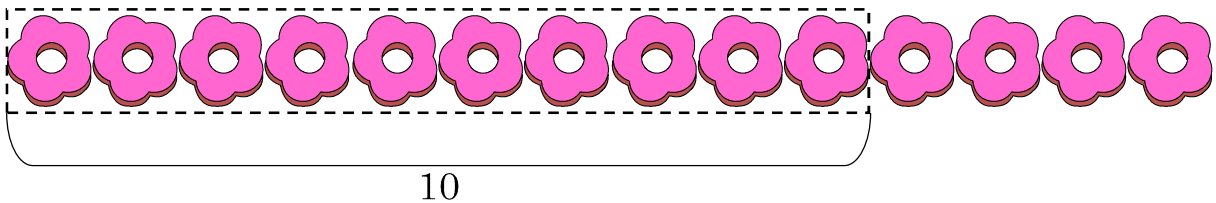
10 から 9 を ひいて () 。

1 と 2 で () 。

3 おはじきを つかって、けいさんを しましょう。

ABCDE

14-9



4 ひきざんを しましょう。

ABCDE

① 17-9

⑥ 13-9

② 14-9

⑦ 12-9

③ 11-9

⑧ 15-9

④ 16-9

⑨ 17-9

⑤ 14-9

⑩ 18-9

5 いろがみが 17まい あります。ともだちに 9まい あげると、のこり

ABCDE


は なんまいに なりますか。

(しき)

6 おはじきを つかって、けいさんを しましょう。

ABCDE

$$14 - 8$$



7 ひきざんを しましょう。

ABCDE

① $16 - 8$

⑥ $14 - 8$

② $11 - 8$

⑦ $15 - 8$

③ $17 - 8$

⑧ $13 - 8$

④ $12 - 8$

⑨ $14 - 8$

⑤ $15 - 8$

⑩ $17 - 8$

8 けえきが 15 こ あります。8 こ たべると、のこりは なんこに なりますか。


ABCDE

(しき)

9 おはじきを つかって、けいさんを しましょう。

ABCDE

$$14 - 7$$



10 ひきざんを しましょう。

ABCDE

① $13-7$

⑥ $14-7$

② $15-7$

⑦ $12-7$

③ $16-7$

⑧ $11-7$

④ $15-7$

⑨ $13-7$

⑤ $12-7$

⑩ $16-7$

11 ばななが 12ほん あります。7ほん たべると、のこりは なんぼんに なりますか。


ABCDE

(しき)

12 おはじきを つかって、けいさんを しましょう。

ABCDE

$14-6$



13 ひきざんを しましょう。

ABCDE

① $15-6$

⑥ $14-6$

② $12-6$

⑦ $13-6$

③ $11-6$

⑧ $14-6$

④ $13-6$

⑨ $15-6$


⑤ $12-6$

⑩ $11-6$

14 おはじきを つかって、けいさんを しましょう。

ABCDE

$$14 - 5$$



15 ひきざんを しましょう。

ABCDE

① $13 - 5$

⑥ $11 - 5$

② $12 - 5$

⑦ $14 - 5$

③ $12 - 3$

⑧ $11 - 3$

④ $11 - 4$

⑨ $13 - 4$

⑤ $11 - 2$

⑩ $12 - 4$

16 はがきが 16まい ありました。そのうち 7まいを つかって、おたよ
りを だしました。はがきは、なんまい のこって いますか。

ABCDE

(しき)

17 ひきざんを しまししょう。

ABCDE

① $12-9$

⑥ $16-7$

② $12-5$

⑦ $17-9$

③ $12-8$

⑧ $15-8$

④ $11-2$

⑨ $12-6$

⑤ $14-9$

⑩ $12-4$

18 ひきざんを しまししょう。

ABCDE

① $13-4$

⑥ $13-8$

② $11-9$

⑦ $16-8$

③ $11-6$

⑧ $12-3$

④ $15-7$

⑨ $11-3$

⑤ $12-7$

⑩ $13-9$

19 ひきざんを しまししょう。

ABCDE

① $13-7$

⑥ $11-4$

② $18-9$

⑦ $15-9$

③ $14-7$

⑧ $15-6$

④ $11-8$

⑧ $16-9$

⑤ $14-5$

⑩ $11-5$

20 ひきざんを しましょう。

ABCDE

① $11 - 3$

⑥ $14 - 8$

② $11 - 7$

⑦ $13 - 5$

③ $11 - 4$

⑧ $17 - 8$

④ $14 - 6$

⑨ $13 - 6$

⑤ $14 - 9$

⑩ $15 - 8$

22 たしざんの もんだいを えらんで、こたえを もとめましょう。

ABCDE

(あ) いぬが 14ひき ねこが 8ひき います。

ちがいは なんびきですか。

(い) ばらが 8ほん、ゆりが 7ほんあります。はなは、みんなで
なんぼん ありますか。

(しき)

23 しきに かいて こたえましょう。

- ABCDE ① りんごが 16 こ、みかんが 7 こ あります。どちらが なんこ おおいでしょうか。

(しき)

- ② にんじんが 9 ほん、だいこんが 7 ほん あります。あわせて なんほん ありますか。

(しき)

24 けいさんを しましょう。

ABCDE

- | | |
|------------|------------|
| ① $17-8-3$ | ④ $15-6-2$ |
| ② $16-9-4$ | ⑤ $12-8+3$ |
| ③ $16-8+4$ | ⑥ $11-4+9$ |

25 でんしゃに、おきやくが 15 にん のって いました。えきで 8 にん おりて、6 にんのりました。おきやくは なんにんに なりましたか。1 つの しきに かいて こたえましょう。

ABCDE

(しき)
