

1  
ABCDE

つぎの せつめいを よんで もんだいに こたえましょう。

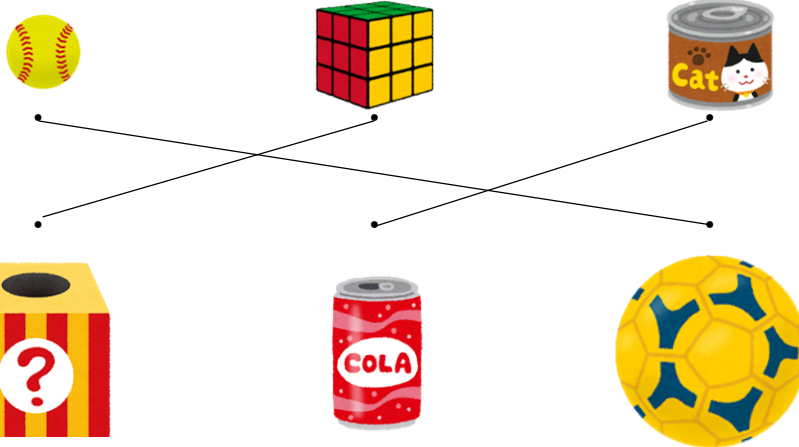
**なかまわけ**

**hakken.**の法則 

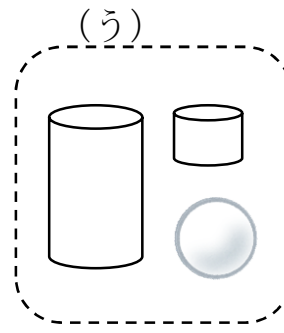
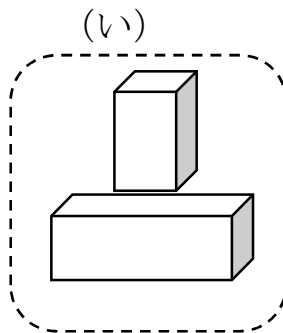
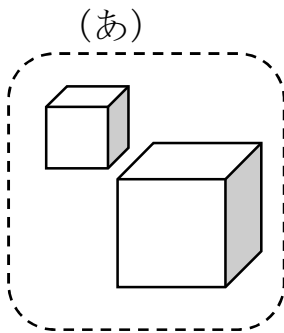
★ なかまわけ…ころがる かたち、たかく つめる かたちなどに  
わける ことが できます。

れいだい つぎの もんだいに こたえましょう。

① おなじ かたちの なかまを、せんで むすびましょう。



② つみきを 3つに わけました。どのように わけたか こたえ  
ましょう。

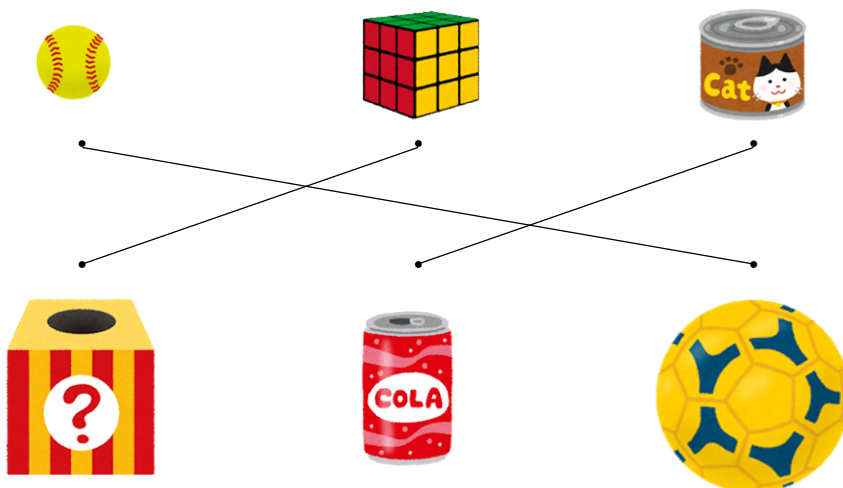


こたえ (あ) ましかくだけの かたち  
(い) ながしかくが ある かたち  
(う) ころがる かたち

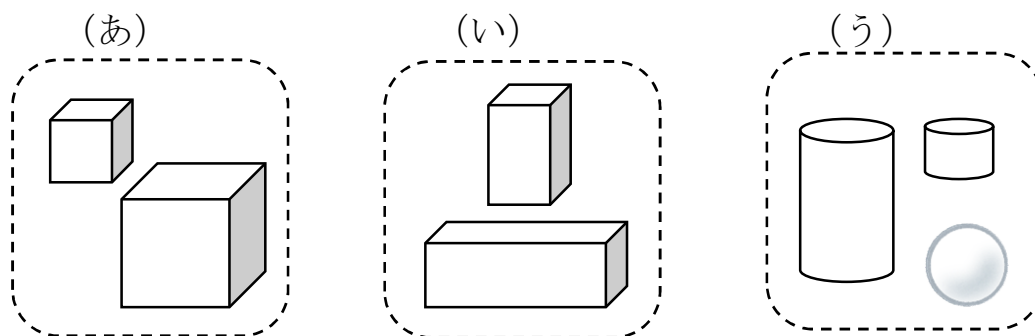
2 つぎの もんだいに こたえましょう。

ABCDE

① おなじ かたちの なかまを、せんで むすびましょう。



② つみきを 3つに わけました。どのように わけたか こたえ しましょう。



(あ) ましかくだけの かたち

(い) ながしかくが ある かたち

(う) ころがる かたち

3

ABCDE

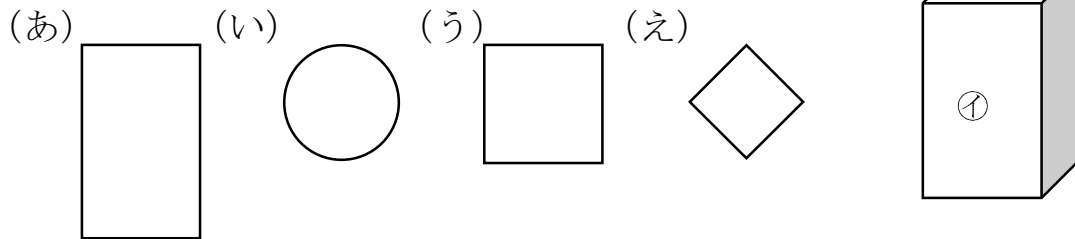
つぎの せつめいを よんで もんだいに こたえましょう。

## かたちうつし

hakken.の法則💡

★ かたちうつし…かたちを うつして、まる、さんかく、しかくを  
かく ことができます。

れいだい みぎの㊦、㊧ かたちを うつして かけるのは、 どれで  
すか。(あ)、(い)、(う)、(え) の なかから えらび  
かきましょう。



㊦で (う)、㊧で (あ) が かけます。

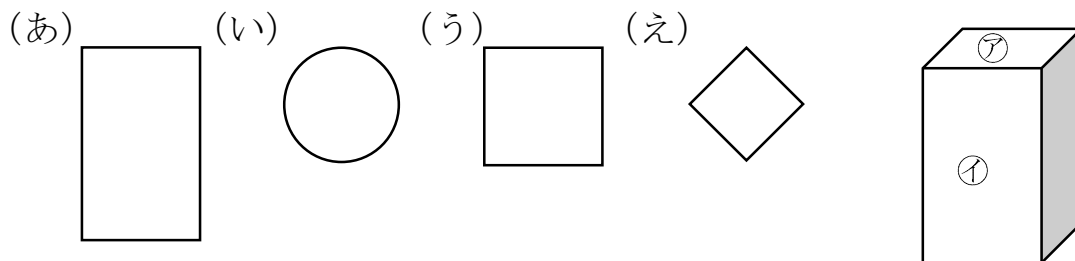
こたえ ㊦ (う) 、 ㊧ (あ)

4

ABCDE

みぎの㊦、㊧ かたちを うつして かけるのは、 どれですか。

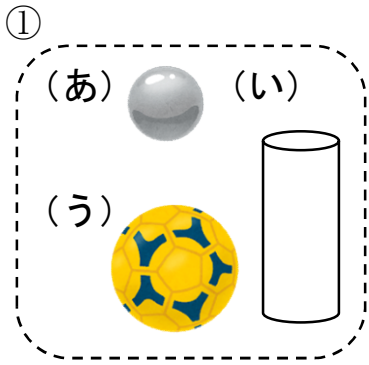
(あ)、(い)、(う)、(え) の なかから えらび かきましょう。



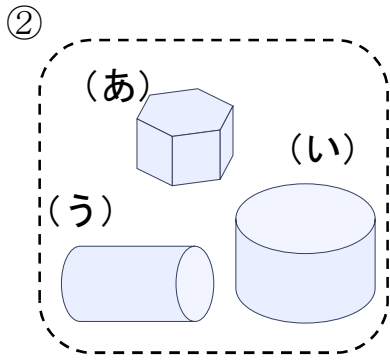
㊦で (う)、㊧で (あ) が かけます。

㊦ (う) ㊧ (あ)

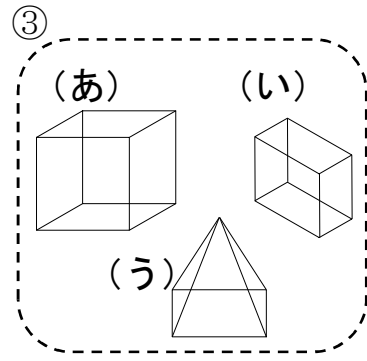
5 なかまに はいらない かたちは どれですか。(あ)、(い)、(う) で  
ABCDE こたえましょう。



(い)

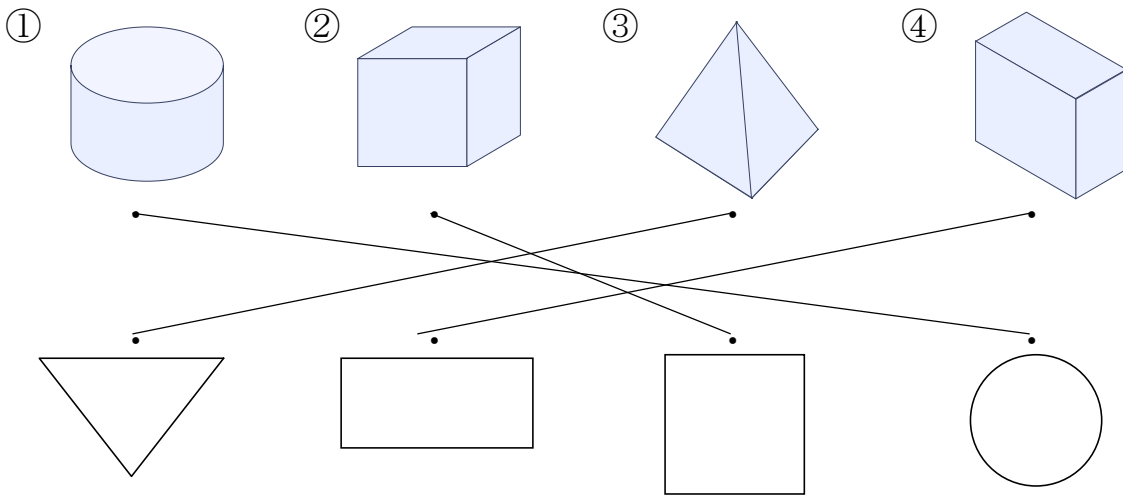


(あ)



(う)

6 つみきの そこを うつして できる かたちを、—で むすび  
ABCDE ましょう。



7 □の なかに、つぎの かたちは いくつ ありますか。

ABCDE

① しかく

3つ

② さんかく

4つ

③ まる

2つ

