

1
ABCDE

つぎの せつめいを よんで もんだいに こたえましょう。

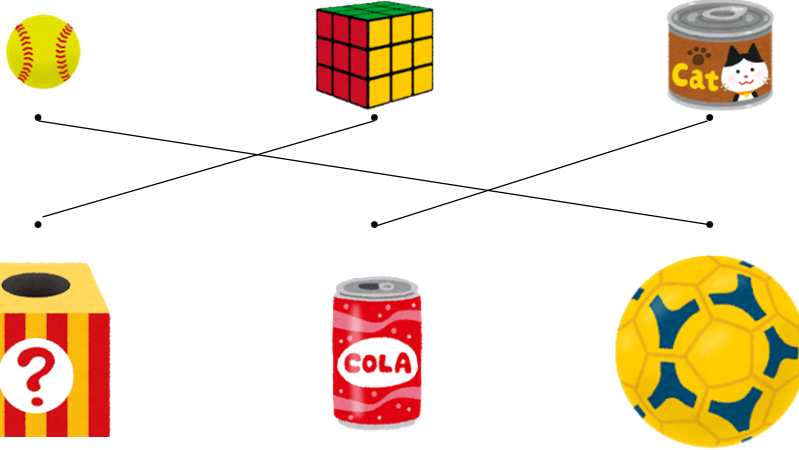
なかまわけ

hakken.の法則💡

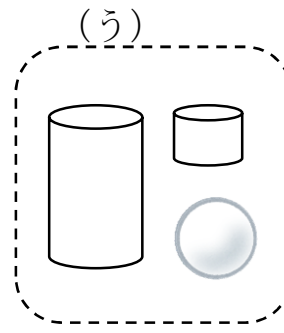
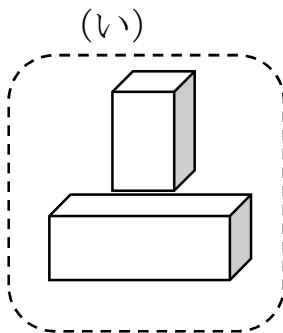
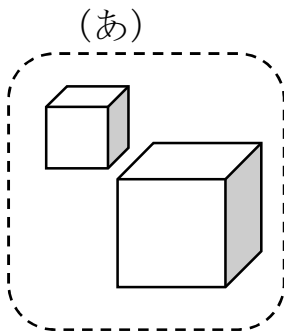
★ なかまわけ…ころがる かたち、たかく つめる かたちなどに
わける ことが できます。

れいだい つぎの もんだいに こたえましょう。

① おなじ かたちの なかまを、せんで むすびましょう。



② つみきを 3つに わけました。どのように わけたか こたえ
ましょう。



こたえ (あ) ましかくだけの かたち
(い) ながしかくが ある かたち
(う) ころがる かたち

2 つぎの もんだいに こたえましょう。

ABCDE

① おなじ かたちの なかまを、せんで むすびましょう。



.

.

.

.

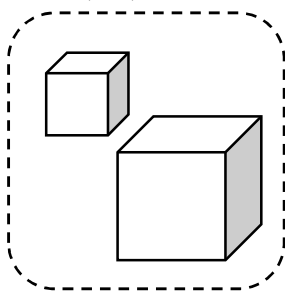
.

.

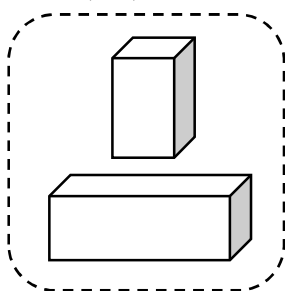


② つみきを 3つに わけました。どのように わけたか こたえ しましょう。

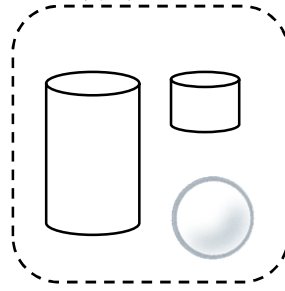
(あ)



(い)



(う)



(あ) _____

(い) _____

(う) _____

3

ABCDE

つぎの せつめいを よんで もんだいに こたえましょう。

かたちうつし

hakken.の法則💡


★ かたちうつし…かたちを うつして、まる、さんかく、しかくを
かく ことができます。

れいだい みぎの㊦、㊧ かたちを うつして かけるのは、 どれで
すか。(あ)、(い)、(う)、(え) の なかから えらび
かきましょう。

(あ)



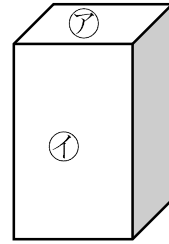
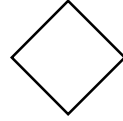
(い)



(う)



(え)



㊦で (う)、㊧で (あ) が かけます。

こたえ ㊦ (う) 、 ㊧ (あ)

4


ABCDE

みぎの㊦、㊧ かたちを うつして かけるのは、 どれですか。
(あ)、(い)、(う)、(え) の なかから えらび かきましょう。

(あ)



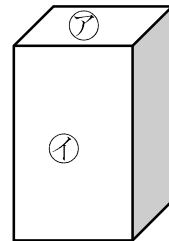

(い)



(う)



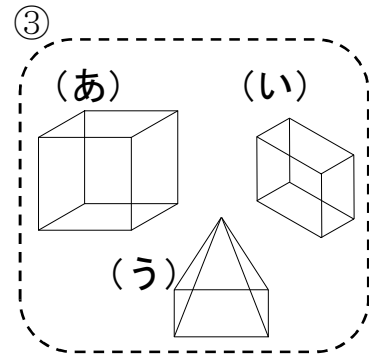
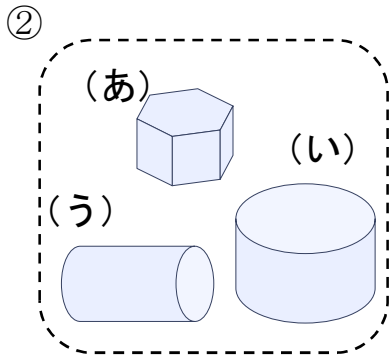
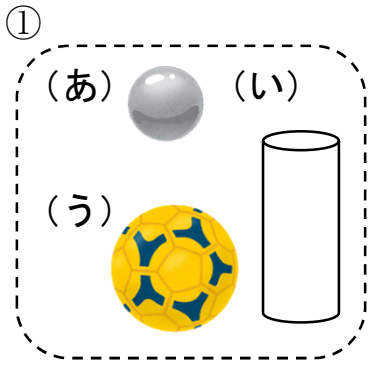
(え)



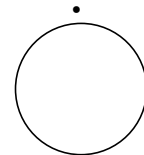
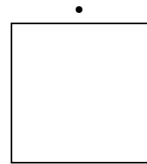
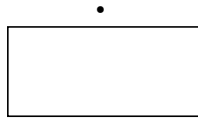
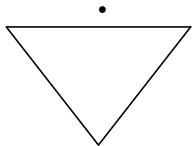
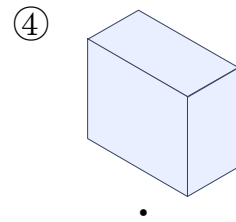
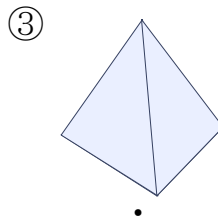
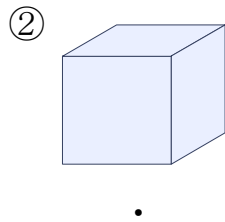
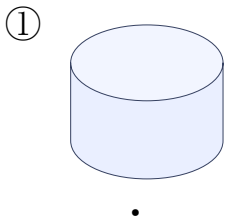
㊦ _____

㊧ _____

5 なかまに はいらない かたちは どれですか。(あ)、(い)、(う) で
ABCDE 答えましょう。



6 つみきの そこを うつして できる かたちを、——で むすび
ABCDE ましょう。



7 □の なかに、つぎの かたちは いくつ ありますか。

ABCDE

① しかく

② さんかく

③ まる

