

1

ABCDE

つぎの せつめいを よんで もんだいに こたえましょう。

**こたえが じゅういくつの たしざん (1) hakken. の法則**


 ★ こたえが じゅういくつの たしざん (1)
れいだい けいさんを しましょう。

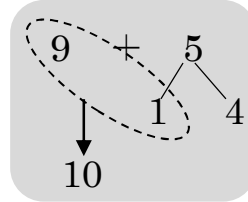
①  $9+5$

9は あと 1で 10。

5を 1と 4に わける。

9に 1を たして 10。

10と 4で 14。



こたえ 14

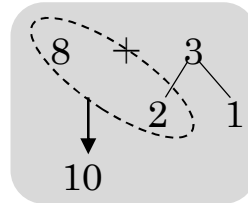
②  $8+3$

8は あと 2で 10。

3を 2と 1に わける。

8に 2を たして 10。

10と 1で 11。



こたえ 11

2 けいさんを しましょう。

ABCDE

①  $9+5$

9は あと ( **1** ) で 10。

5を ( **1** ) と ( **4** ) に わける。

9に 1を たして ( **10** )。

10と 4で ( **14** )。

**14**

②  $8+3$

8は あと ( **2** ) で 10。

3を ( **2** ) と ( **1** ) に わける。

8に 2を たして ( **10** )。

10と 1で ( **11** )。

**11**

3  $9+4$  の けいさんを しましょう。

ABCDE



$9+4=13$

4 たしざんを しましょう。

ABCDE

①  $9+9=18$

④  $9+8=17$

②  $9+4=13$

⑤  $9+6=15$

③  $9+7=16$

⑥  $9+2=11$

5 えはがきを 9まい もって いました。おねえさんから 3まい もら  
ABCDE  
 いました。えはがきは、ぜんぶで なんまいに なりましたか。

(しき)  $9+3=12$ (まい)

12まい

6  $8+3$  の けいさんを しましょう。  
ABCDE



$8+3=11$

7 たしざんを しましょう。  
ABCDE

①  $8+7=15$

④  $8+6=14$

②  $8+5=13$

⑤  $8+9=17$

③  $8+8=16$

⑥  $8+3=11$

8 こうえんで おとこのこが 8 にん、おんなのこが 9 にん あそんで  
ABCDE  
 います。みんなで なんにん いますか。

(しき)  $8+9=17$ (にん)

17にん

9  $7+4$  の けいさんを しましょう。  
ABCDE



$7+4=11$

10 たしざんを しましょう。

ABCDE

①  $7+9=16$

④  $7+5=12$

②  $7+4=11$

⑤  $7+8=15$

③  $7+7=14$

⑥  $7+6=13$

11 1ねんせいが 7にん います。そこへ、2ねんせいが 8にん きました。みんなで なんにんに なりましたか。

ABCDE

(しき)  $7+8=15(\text{にん})$

15にん

12  $6+5$ の けいさんを しましょう。

ABCDE



$6+5=11$

13 たしざんを しましょう。

ABCDE

①  $5+8=13$

⑥  $6+5=11$

②  $6+9=15$

⑦  $5+6=11$

③  $6+6=12$

⑧  $5+9=14$

④  $6+7=13$

⑨  $5+7=12$

⑤  $6+8=14$

- 14 わたしが おりがみで つるを 5わ、おかあさんが 7わ おりました。  
 ABCDE ぜんぶで なんわに なりますか。

(しき)  $5+7=12(\text{わ})$

12わ

- 15 つぎの せつめいを よんで もんだいに こたえましょう。  
 ABCDE

**こたえが じゅういくつの たしざん (2) hakken.の法則** 

★ こたえが じゅういくつの たしざん (2)

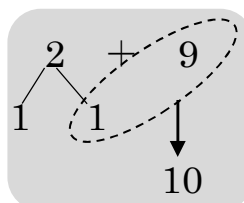
れいだい けいさんを しましょう。

①  $2+9$

2を 1と 1に わける。

9に 1を たして 10。

10と 1で 11。



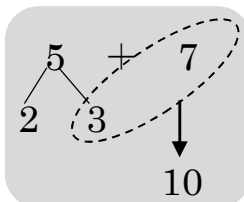
こたえ 11

②  $5+7$

5を 3と 2に わける。

7に 3を たして 10。

10と 2で 12。



こたえ 12

16 けいさんを しましょう。

ABCDE

①  $2+9$

2を ( **1** ) と ( **1** ) に わける。

9に 1を たして ( **10** )。

10と 1で ( **11** )。

11

②  $5+7$

5を ( **3** ) と ( **2** ) に わける。

7に 3を たして ( **10** )。

10と 2で ( **12** )。

12

17  $2+9$  の けいさんを しましょう。

ABCDE



$2+9=11$

18 たしざんを しましょう。

ABCDE

①  $4+8=12$

⑤  $3+9=12$

②  $3+8=11$

⑥  $4+9=13$

③  $5+8=13$

⑦  $4+7=11$

④  $5+9=14$

19 いぬが 4 ひき、ねこが 9 ひき います。みんなで なんびき いますか。

ABCDE

(しき)  **$4+9=13$ (びき)**

## 13びき

20 たしざんを しましょう。

ABCDE

①  $4+8=12$

④  $9+5=14$

②  $7+6=13$

⑤  $7+7=14$

③  $9+6=15$

21 たしざんを しましょう。

ABCDE

①  $6+8=14$

④  $3+9=12$

②  $9+4=13$

⑤  $4+7=11$

③  $8+9=17$

22 たしざんを しましょう。

ABCDE

①  $8+3=11$

④  $9+7=16$

②  $5+8=13$

⑤  $8+4=12$

③  $6+5=11$

23 たしざんを しましょう。

ABCDE

①  $8+5=13$

④  $9+8=17$

②  $6+6=12$

⑤  $5+6=11$

③  $8+6=14$

24 たしざんを しましょう。

ABCDE

①  $6+9=15$

④  $9+2=11$

②  $4+9=13$

⑤  $8+7=15$

③  $7+5=12$

25 たしざんを しましょう。

ABCDE

①  $6+7=13$

④  $3+8=11$

②  $8+8=16$

⑤  $5+9=14$

③  $9+9=18$

26 たしざんを しましょう。

ABCDE

①  $7+8=15$

④  $5+7=12$

②  $4+9=13$

⑤  $7+4=11$

③  $9+3=12$

27 たしざんを しましょう。

ABCDE

①  $7+9=16$

④  $7+7=14$

②  $2+9=11$

⑤  $6+7=13$

③  $9+8=17$