

1

ABCDE

つぎの せつめいを よんで もんだいに こたえましょう。

**こたえが じゅういくつの たしざん (1) hakken. の法則**


 ★ こたえが じゅういくつの たしざん (1)
れいだい けいさんを しましょう。

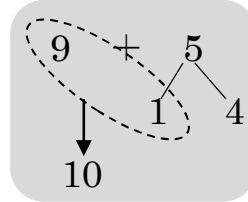
①  $9+5$

9は あと 1で 10。

5を 1と 4に わける。

9に 1を たして 10。

10と 4で 14。



こたえ 14

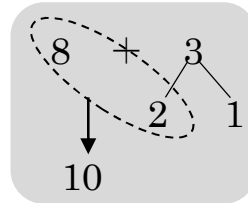
②  $8+3$

8は あと 2で 10。

3を 2と 1に わける。

8に 2を たして 10。

10と 1で 11。



こたえ 11

2 けいさんを しましょう。

ABCDE

①  $9+5$

9は あと ( ) で 10。

5を ( ) と ( ) に わける。

9に 1を たして ( )。

10と 4で ( )。

---

②  $8+3$

8は あと ( ) で 10。

3を ( ) と ( ) に わける。

8に 2を たして ( )。

10と 1で ( )。

---

3  $9+4$  の けいさんを しましょう。

ABCDE



$9+4$

4 たしざんを しましょう。

ABCDE

①  $9+9$

④  $9+8$

②  $9+4$

⑤  $9+6$

③  $9+7$

⑥  $9+2$

5 えはがきを 9まい もって いました。おねえさんから 3まい もら  
 ABCDE いました。えはがきは、ぜんぶで なんまいに なりましたか。

(しき)

6  $8+3$  の けいさんを しましょう。  
 ABCDE



$8+3$

7 たしざんを しましょう。  
 ABCDE

①  $8+7$

④  $8+6$

②  $8+5$

⑤  $8+9$

③  $8+8$

⑥  $8+3$

8 こうえんで おとこのこが 8 にん、おんなのこが 9 にん あそんで  
 ABCDE います。みんなで なんにん いますか。

(しき)

9  $7+4$  の けいさんを しましょう。  
 ABCDE



$7+4$

10 たしざんを しましょう。

ABCDE

①  $7+9$

④  $7+5$

②  $7+4$

⑤  $7+8$

③  $7+7$

⑥  $7+6$

11 1ねんせいが 7にん います。そこへ、2ねんせいが 8にん きまし  
た。みんなで なんにんに なりましたか。

ABCDE

(しき)

12  $6+5$ の けいさんを しましょう。

ABCDE



$6+5$

13 たしざんを しましょう。

ABCDE

①  $5+8$

⑥  $6+5$

②  $6+9$

⑦  $5+6$

③  $6+6$

⑧  $5+9$

④  $6+7$

⑨  $5+7$

⑤  $6+8$

- 14 わたしが おりがみで つるを 5わ、おかあさんが 7わ おりました。  
 ABCDE ぜんぶで なんわに なりますか。

(しき)

- 15 つぎの せつめいを よんで もんだいに こたえましょう。

**こたえが じゅういくつの たしざん (2) hakken. の法則** 

★ こたえが じゅういくつの たしざん (2)

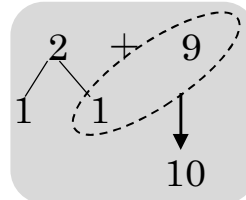
れいだい けいさんを しましょう。

①  $2+9$

2を 1と 1に わける。

9に 1を たして 10。

10と 1で 11。



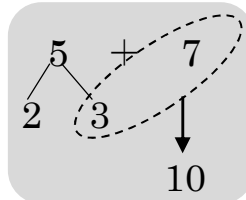
こたえ 11

②  $5+7$

5を 3と 2に わける。

7に 3を たして 10。

10と 2で 12。



こたえ 12

16 けいさんを しましょう。

ABCDE

①  $2+9$

2を ( ) と ( ) に わける。

9に 1を たして ( )。

10と 1で ( )。

---

②  $5+7$

5を ( ) と ( ) に わける。

7に 3を たして ( )。

10と 2で ( )。

---

17  $2+9$  の けいさんを しましょう。

ABCDE



$2+9$

18 たしざんを しましょう。

ABCDE

①  $4+8$

⑤  $3+9$

②  $3+8$

⑥  $4+9$

③  $5+8$

⑦  $4+7$

④  $5+9$

19 いぬが 4 ひき、ねこが 9 ひき います。みんなで なんびき いますか。

ABCDE

(しき)

20 たしざんを しましょう。

ABCDE

①  $4+8$

④  $9+5$

②  $7+6$

⑤  $7+7$

③  $9+6$

21 たしざんを しましょう。

ABCDE

①  $6+8$

④  $3+9$

②  $9+4$

⑤  $4+7$

③  $8+9$

22 たしざんを しましょう。

ABCDE

①  $8+3$

④  $9+7$

②  $5+8$

⑤  $8+4$

③  $6+5$

23 たしざんを しましょう。

ABCDE

①  $8+5$

④  $9+8$

②  $6+6$

⑤  $5+6$

③  $8+6$

24 たしざんを しまししょう。

ABCDE

①  $6+9$

④  $9+2$

②  $4+9$

⑤  $8+7$

③  $7+5$

25 たしざんを しまししょう。

ABCDE

①  $6+7$

④  $3+8$

②  $8+8$

⑤  $5+9$

③  $9+9$

26 たしざんを しまししょう。

ABCDE

①  $7+8$

④  $5+7$

②  $4+9$

⑤  $7+4$

③  $9+3$

27 たしざんを しまししょう。

ABCDE

①  $7+9$

④  $7+7$

②  $2+9$

⑤  $6+$

③  $9+8$