

1
ABCDE


つぎの せつめいを よんで もんだいに こたえましょう。

どちらが おおい

hakken.の法則💡

★ どちらが おおい…みずなどの かさは、おなじ コップを つかって、なんはいぶんあるかで くらべることが できます。

れいだい びんに いっぱい はいった
みずを コップに うつしかえ ました。
びんと コップのどちらに
おおく はいりますか。




コップ には まだ はいるから コップ

こたえ コップ

2
ABCDE

びんに いっぱい はいった みずを
コップに うつしかえ ました。
びんと コップのどちらに おおく
はいりますか。



コップ には まだ はいるから コップ

コップ

3

ABCDE

つぎの せつめいを よんで もんだいに こたえましょう。

おなじ コップを つかって

hakken.の法則💡


★ おなじ コップを つかって

れいだい どちらが どれだけ おおく はいりますか。

(あ)



(い)



(あ) は 3はいぶん、(い) は4はいぶん はいります。

(い) が、 $4-3=1$ (はいぶん) おおく はいります。

こたえ (い) に、コップで 1はいぶん おおく はいる。

4

ABCDE

どちらが どれだけ おおく はいりますか。

(あ)



(い)



(あ) は 3はいぶん、(い) は4はいぶん はいります。

(い) が、 $4-3=1$ (はいぶん) おおく はいります。**(い) に コップで 1はいぶん おおく はいる**

5 **ず**を **みて**、(あ)、(い)、(う)で **こたえ**ましょう。

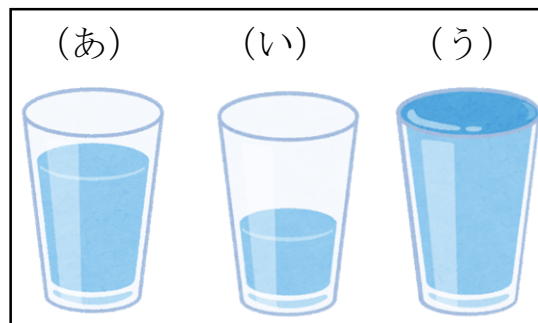
ABCDE

① **みず**が **いちばん** **おいしい**のは
どれですか。

(う)

② **みず**が **いちばん** **すくない**のは
どれですか。

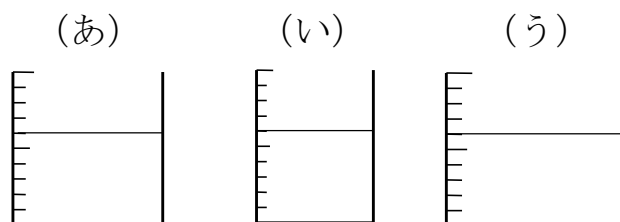
(い)



6 **みず**が **おいしい** **じゆん**に、

ABCDE

(あ)、(い)、(う)を
ならべましょう。



(う) → (あ) → (い)

7 ずをみてこたえましょう。

ABCDE

(あ)



(い)



(う)



- ① (あ)、(い)、(う)には、それぞれ コップで なんばいの
みずが はいりますか。

(あ) 3はい (い) 6はい (う) 5はい

- ② みずが いちばん おおく はいるのは どれですか。

(あ)、(い)、(う)で こたえましょう。

(い)

- ③ (う)は、(あ)より どれだけ みずが おおく はいりますか。

コップで 2はい ぶん みずが おおく はいる。

- ④ (あ)と(い)では、みずは どちらに どれだけ おおく
はいりますか。

$$6-3=3$$

(い)に コップで 3はいぶん おおく はいる。