

1  
ABCDE


つぎの せつめいを よんで もんだいに こたえましょう。

**どちらが おおい**

hakken.の法則💡

★ どちらが おおい…みずなどの かさは、おなじ コップを つかって、なんはいぶんあるかで くらべることが できます。

れいだい びんに いっぱい はいった  
みずを コップに うつしかえ ました。  
びんと コップのどちらに  
おおく はいりますか。




コップ には まだ はいるから コップ

こたえ コップ

2  
ABCDE

びんに いっぱい はいった みずを  
コップに うつしかえ ました。  
びんと コップのどちらに おおく  
はいりますか。



\_\_\_\_\_

3

ABCDE

つぎの せつめいを よんで もんだいに こたえましょう。

**おなじ コップを つかって**

hakken.の法則💡


★ おなじ コップを つかって

れいだい どちらが どれだけ おおく はいりますか。

(あ)



(い)



(あ) は 3はいぶん、(い) は4はいぶん はいります。

(い) が、 $4-3=1$  (はいぶん) おおく はいります。

こたえ (い) に、コップで 1はいぶん おおく はいる。

4

ABCDE

どちらが どれだけ おおく はいりますか。

(あ)



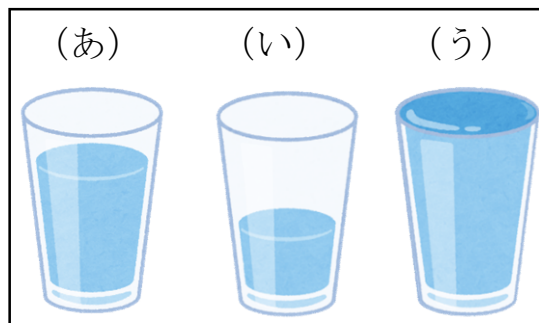
(い)



5 水をみて、(あ)、(い)、(う)で 答えましょう。

ABCDE

① 水が いちばん おおいのは  
どれですか。



② 水が いちばん すくないのは  
どれですか。

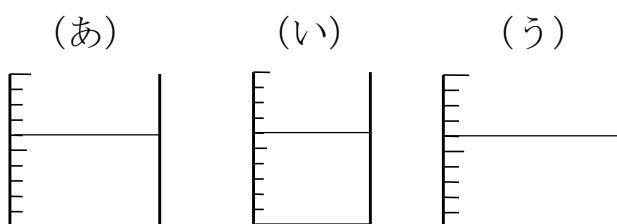
\_\_\_\_\_

\_\_\_\_\_

6 水が おおい じゆんに、

ABCDE

(あ)、(い)、(う)を  
ならべましょう。



\_\_\_\_\_ → \_\_\_\_\_ → \_\_\_\_\_

7 ずをみてこたえましょう。

ABCDE

(あ)



(い)



(う)



- ① (あ)、(い)、(う)には、それぞれ コップで なんばいのみずが はいりますか。

(あ) \_\_\_\_\_ (い) \_\_\_\_\_ (う) \_\_\_\_\_

- ② みずが いちばん おおく はいるのは どれですか。

\_\_\_\_\_

- ③ (う)は、(あ)より どれだけ みずが おおく はいりますか。

コップで \_\_\_\_\_ ぶん みずが おおく はいる。

- ④ (あ)と(い)では、みずは どちらに どれだけ おおく はいりますか。

\_\_\_\_\_