

1
ABCDE


つぎの せつめいを よんで もんだいに こたえましょう。

なんじ

hakken.の法則💡

★ なんじ

みじかい はりの かずを よみます。
ながい はりは 12を さします。




4じ

れいだい なんじですか。

みじかい はりの かずを
よみます。

9を さして いるから 9じ

こたえ 9じ



2
ABCDE

なんじですか。

みじかい はりの かずを
よみます。

9を さして いるから 9じ

9じ



3

ABCDE


つぎの せつめいを よんで もんだいに こたえましょう。

なんじはん

hakken.の法則💡

★ なんじはん

みじかい はりの となりの かずで、
ちいさい ほうの かずを よみます。
ながい はりは 6を さします。



4じはん

れいだい なんじはんですか。

みじかい はりは 9と 10の
あいだです。ちいさい ほうの
かずを よみます。


こたえ 9じはん

4

ABCDE

なんじはんですか。

みじかい はりは 9と 10の
あいだです。ちいさい ほうの
かずを よみます。

9じはん

5 なんじですか。

ABCDE

①




1じ

②



12じ

③



5じはん

④



6じはん


6 ながい はりを かきましょう。

ABCDE

① 3じ



② 8じはん



7 () に あてはまる とけいの すうじを かきましょう。

ABCDE

- ① 5 じのとき、みじかい はりは すうじの (**5**) のところ
を さして います。
- ② 10 じのとき、ながい はりは すうじの (**12**) のところ
を さして います。
- ③ 3 じはんのとき、ながい はりは すうじの (**6**) のところ
を さして います。
- ④ 2 じはんのとき、みじかい はりは すうじの (**2**) と
(**3**) の あいだを さして います。