


1-8 とけい①


2 なんじですか。

ABCDE



4 なんじはんですか。


ABCDE




5 なんじですか。

ABCDE


①




②



③



④



6 ながい はりを かきましょう。

ABCDE

① 3じ

② 8じはん



7 ( ) に あてはまる とけいの すうじを かきましょう。

ABCDE

① 5じのとき、みじかい はりは すうじの ( ) のところ  
を さして います。

② 10じのとき、ながい はりは すうじの ( ) のところ  
を さして います。

③ 3じはんのとき、ながい はりは すうじの ( ) のところ  
を さして います。

④ 2じはんのとき、みじかい はりは すうじの ( ) と  
( ) の あいだを さして います。