


1-7 20までのたしざん

2 かずを かぞえて すうじで かきましょう。

ABCDE

①



②




3 かずを かぞえて、すうじで かきましょう。

ABCDE

①



②



4 こどもが 1れつに ならんで います。

ABCDE



あきらくん

① みんなで、なんにん ならんで いますか。

② あきらは、うしろから なんばんめですか。

6 □は どんな かずですか。

ABCDE

① 10 と 3 で □

② 10 と 9 で □

③ 17 は 10 と □

④ 20 は 10 と □

7

ABCDE

() に あてはまる かずを かきましょう。

① 10 と 3 で ()

③ 10 と 5 で ()

② 10 と 6 で ()

④ 10 と 10 で ()

8

ABCDE

() に あてはまる かずを かきましょう。

① 12 は 10 と ()

③ 17 は 10 と ()

② 19 は () と 9

④ 20 は () と 10

9

ABCDE

() に あてはまる かずを かきましょう。

① 10 と () で 11

③ () と 4 で 14

② () は 10 と 8

11

ABCDE

どちらが おおきいでしょうか。

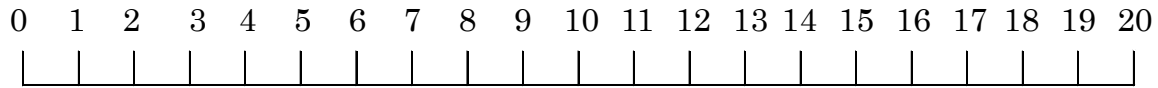
① 10 と 16

② 19 と 18

0

12 かずのせんを みて、こたえましょう。

ABCDE



① 10 より 4 おおきい かず _____

② 13 より 6 おおきい かず _____

③ 15 より 5 ちいさい かず _____

④ 19 より 7 ちいさい かず _____

⑤ 6 より 8 おおきい かず _____

⑥ 15 より 7 ちいさい かず _____

13 おおきい ほうの すうじを かきしょう。

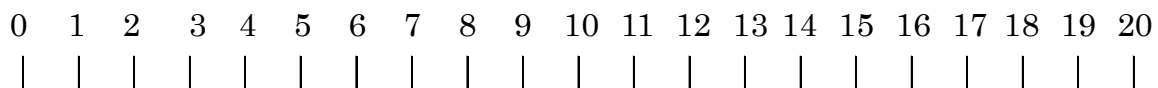
ABCDE

① 8 10 ② 14 16

③ 20 19 ④ 18 17

14 かずのせんを みて、こたえましょう。

ABCDE



① 7 から 5 すすんだ かず _____

② 14 より 3 すすんだ かず _____

15 () に あてはまる かずを かきましょう。

ABCDE

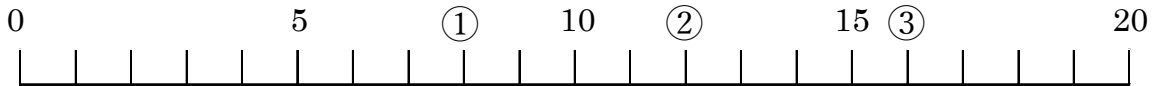
① () 15 16 17 () 19

② 9 11 () 15 17 ()

③ 20 () 18 17 16 ()

16 ①、②、③の かずのせんが あらわす かずを かきましょう。


ABCDE




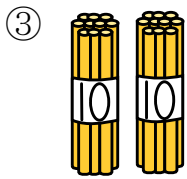
① _____ ② _____ ③ _____

17 なんぼん ありますか。かずを すうじで かきましょう。

ABCDE




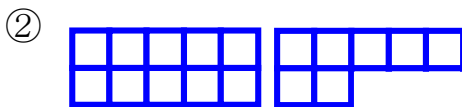




18 かずを かぞえて すうじで かきましょう。

ABCDE





20 たしざんを しましょう。

ABCDE

① $10+2$

② $10+6$

22 ひきざんを しましょう。

ABCDE

① $13-3$

② $17-7$

23 たしざんを しましょう。

ABCDE

① $10+3$

③ $10+6$

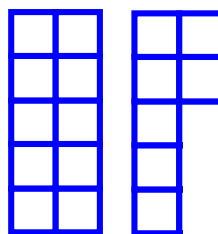
② $10+8$

④ $10+10$

24 あわせると、なんこに なりますか。

ABCDE

(しき)



25 ひきざんを しましょう。

ABCDE

① $12-2$

③ $18-8$


② $16-6$

④ $20-10$

26 りんごは、みかんより なんこ おおいですか。

ABCDE

(しき)



28 けいさん しましょう。

ABCDE

$11+3$

30 けいさん しましょう。

ABCDE

$17-2$

31 たしざんを しましょう。

ABCDE

① $13+2$

③ $14+4$


② $12+5$

④ $15+2$

32 りんごが、 11 こ、みかんが 4 こ あります。

ABCDE

ぜんぶで なんこありますか。



(しき)

33 ひきざんを しましょう。

ABCDE

① $13-2$

③ $16-5$


② $19-5$

④ $20-8$

34 えんぴつが、20 ぽん あります。5 ほん つかうと、のこりは

ABCDE

なんぽんに なりますか。



(しき)

35 けいさん しましょう。

ABCDE

① $13+4$

⑥ $16+3$

② $14+4$

⑦ $12+3$

③ $14+2$

⑧ $19-8$

④ $17-3$

⑨ $15-2$

⑤ $18-8$

⑩ $16-4$

36 けいさんを しまししょう。

ABCDE

① $12+7$

⑥ $14+3$

② $12+6$

⑦ $13+6$

③ $13+2$

⑧ $18-2$

④ $19-2$

⑨ $18-4$

⑤ $19-3$

⑩ $20-5$

37 けいさんを しまししょう。

ABCDE

① $12+5$

⑥ $17+2$

② $11+3$

⑦ $15+3$

③ $11+5$

⑧ $14-3$

④ $17-4$

⑨ $18-6$

⑤ $19-6$

⑩ $13-2$

38 けいさんを しまししょう。

ABCDE

① $13+3$

⑥ $14+5$

② $15+2$

⑦ $16+2$

③ $19+1$

⑧ $17-6$

④ $18-5$

⑨ $19-7$

⑤ $16-3$

⑩ $15-3$

39 けいさんを しまししょう。

ABCDE

① $12+2$

⑥ $13+5$

② $18+1$

⑦ $11+6$

③ $12+4$

⑧ $12-1$

④ $17-5$

⑨ $19-4$

⑤ $20-7$

⑩ $14-4$