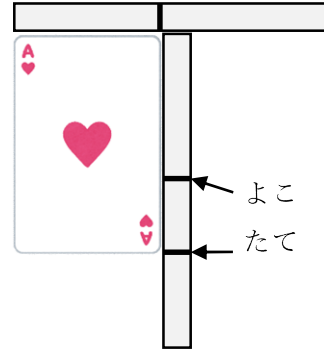


1-5 ながさくらべ

2 たてと よこの ながさを  
くらべます。

ABCDE

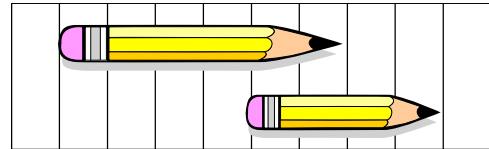
たてと よこ どちらが ながいか  
こたえましょう。



4 どちらが ながいでしょうか。

ABCDE

(あ)

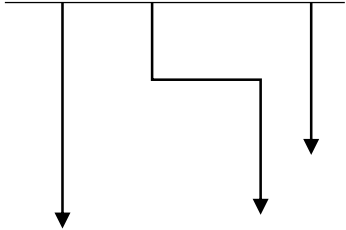


(い)

5 (あ)から(う)で いちばん ながい ものと いちばん みじかい も  
のを こたえましょう。

ABCDE

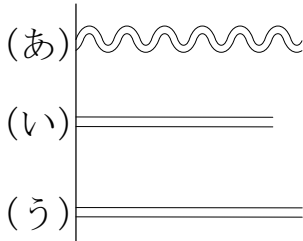
① (あ) (い) (う)



いちばん ながい もの \_\_\_\_\_

いちばん みじかい もの \_\_\_\_\_

②



いちばん ながい もの \_\_\_\_\_

いちばん みじかい もの \_\_\_\_\_

6 たてと よこの ながさを くらべます。たてと よこでは、どちらが  
ABCDE ながいでしょう。

①



\_\_\_\_\_

②



\_\_\_\_\_

7 ずをみて、(あ)から (か)で  
ABCDE こたえましょう。

① いちばん ながいのは  
 どれですか。

\_\_\_\_\_

② いちばん みじかいのは  
 どれですか。

\_\_\_\_\_

(あ)																		(か)
(お)	(い)																	
			(う)															
		(え)																

8 がようしの たてと よこの ながさを、きのぼうを つかって はかり  
ABCDE ました。たては 4つぶん よこは 6つぶん ありました。たてと よ  
 こでは、どちらが ながいですか。

\_\_\_\_\_