


2

ABCDE

りんごが きに 4こ なっています。
3こ とると、のこりは なんこに なりますか。



3

BCDE

のこりは なんこに なりますか。

①



2わ
とんでいくと

②




2こ
たべると

4

BCDE

えんぴつが 6ぽん あります。いもうとに
2ぽん あげると、のこりは なんぽんに
なりますか。しきに かいて こたえましょう。



(しき)

5 こうえんに 7にんの こどもが います。
 BCDE そのうち おんなのこは 3にんです。
 おとこのこは なんにん ですか。



(しき)

6 けいこさんと いもうとの ほんが8さつの
 CDE あります。そのうち、いもうとの ほんは
 4さつをです。
 けいこさんの ほんは なんさつ ですか。



(しき)

8 こたえが おなじ かあどは どれと どれですか。
 ABCDE

(あ) 5-2

(い) 4-3

(う) 6-3

(え) 5-3

10 いもうとに あげると のこりは なんこ ですか。
 ABCDE

① あげない

② ぜんぶ あげる

あめ



11 こたえが 3 になる かあどに ○、 こたえが 4 になる かあど
BCDE
に △を かきましょう。

$$8-5$$

$$8-4$$

$$10-6$$

$$9-5$$

$$9-6$$

$$6-2$$


$$10-7$$

$$7-4$$

12 りんごが 7 こ あります。
BCDE

① 2 こ たべると、のこりは なんこに なりますか。

(しき)



② 6 こ たべると、のこりは なんこに なりますか。

(しき)

③ 1 こも たべないと、のこりは なんこに なりますか。

(しき)

13 ひきざんを しましょう。
ABCDE

① $4-0$


② $8-5$

③ $0-0$

15

ABCDE


みかんは りんごより なんこ おおいでしょうか



17

ABCDE

◆と ●の かずの ちがいは いくつですか。



18

ABCDE

あめが 9 こ、どーナつが 7 こ
あります。あめは どーナつより
なんこ おおいですか。



(しき)

19

ABCDE

おとこのこが、4 にん、おんなのこが 8 にん います。おんなのこは、
おとこのこより なんにん おおいですか。

(しき)

20 りんごは 7こ あります。みかんは 4こ あります。
ABCDE
かずの ちがいは いくつですか。

(しき)

21 ほんが 4さつ、のおとが 6さつ あります。
ABCDE
かずの ちがいは いくつですか。

(しき)

22 ばななが 6こ あります。3ぼんたべると、のこりは なんぼんに
ABCDE
なりますか。しきに かいて こたえましょう。

(しき)

23 くりが 8こ、りんごが 3こ なっています。
ABCDE
かずの ちがいは いくつですか。

(しき)

24 いぬが 7ひき います。そのうち こいぬは 4ひきです。
BCDE
おとなのいぬは なんびき ですか。

(しき)

25
BCDE
くれよんが 8ほん ペんが 4ほん あります。
どちらが なんぼん おおいですか。

(しき)

_____ が _____

26
BCDE
おとこのこが、5にん、おんなのこが 9にん います。
どちらが なんにん すくないですか。

(しき)

_____ が _____

27
CDE
ほんが 4さつ、のーとが 7さつ あります。
どちらが なんさつ すくないですか。

(しき)

_____ が _____

28
CDE
りんごは 8こ あります。みかんは 6こ あります。
どちらが なんこ おおいですか。

(しき)

_____ が _____

29
ABCDE
ひきざんを しましょう。

① 9-9

④ 6-3

② 7-2

⑤ 8-2

③ 10-3

30 ひきざんを しましょう。

ABCDE

① $9-7$

④ $8-5$

② $10-4$

⑤ $6-2$

③ $7-4$

31 ひきざんを しましょう。

ABCDE

① $3-2$

④ $6-4$

② $9-2$

⑤ $10-4$

③ $2-1$

32 ひきざんを しましょう。

ABCDE

① $4-4$

④ $8-3$

② $5-2$

⑤ $8-2$

③ $3-1$

33 ひきざんを しましょう。

ABCDE

① $9-3$

④ $10-5$

② $9-7$

⑤ $10-7$

③ $8-6$

34 ひきざんを しましょう。

ABCDE

① $9-8$

④ $6-1$

② $7-5$

⑤ $8-7$

③ $10-2$

35 ひきざんを しましょう。

ABCDE

① $5-1$

④ $4-2$

② $9-6$

⑤ $8-1$

③ $6-5$

36 ひきざんを しましょう。

ABCDE

① $7-1$

④ $6-6$

② $9-1$

⑤ $8-4$

③ $9-4$

37 ひきざんを しましょう。

ABCDE

① $7-3$

④ $6-3$

② $8-0$

⑤ $5-3$

⑤ $10-9$

38 ひきざんを しましょう。

ABCDE

① $8-4$

④ $4-3$

② $10-8$

⑤ $4-1$

⑤ $10-1$

39 ひきざんを しましょう。

ABCDE

① $6-2$

④ $7-6$

② $0-0$

⑤ $7-3$

⑤ $9-6$

40 ひきざんを しまししょう。

ABCDE

① $6-4$

④ $9-5$

② $5-4$

⑤ $9-3$

③ $7-4$